

2019 年 12 月内蒙古赤峰市事业单位招聘 《公共基
础知识和基本能力》精选真题

公考通网校

www.chinaexam.org



公考通 APP



微信公众平台

2019年12月内蒙古赤峰市事业单位招聘 《公共基础知识和基本能力》精选真题

一、公共基础知识。根据题目要求，在四个选项中选出一个最恰当的答案。

1、2019年11月26日，习近平总书记在中央全面深化改革委员会第十一次会议上强调，党的十九届四中全会和党的（ ）历史逻辑一脉相承、理论逻辑相互支撑、实践逻辑环环相扣，目标指向一以贯之，重大部署接续递进。

- A、十八届三中全会
- B、十八届四中全会
- C、十九届二中全会
- D、十九届三中全会

2、2019年9月20日，习近平总书记在中央政协工作会议暨庆祝中国人民政治协商会议成立70周年大会上指出，人民政协委员会坚持（ ）两大主题，服务党和国家中心任务。

- A、团结和进步
- B、团结和民主
- C、发展和民主
- D、协调和民主

3、2019年11月26日，全国政协民族和宗教委员会在北京召开宗教界主题协商座谈会，大会围绕（ ）议题座谈交流，全国政协主席汪洋主持此次会议。

- A、以社会主义核心价值观引领各宗教对教规做出符合时代进步要求的阐释
- B、以社会主义核心价值观引领各宗教对发展及活动做出符合时代进步要求的阐释
- C、以社会主义核心价值观引领各宗教对教义做出符合时代进步要求的阐释
- D、以社会主义核心价值观引领各宗教对教义教规做出符合时代进步要求的阐释

4、2019年9月4日，中共中央印发修订后的（ ），这次修订是以党章为根本遵循，把坚决维护党中央权威和集中统一领导作为根本原则和首要任务。

- A、《中国共产党问责制度》
- B、《中国共产党党章条例》
- C、《中国共产党问责条例》
- D、《中国共产党纪律条例》

5、2019年11月14日，习近平总书记指出，目前香港暴乱问题最紧迫的任务是（ ）。

- A、加强国民教育，促进社会公平
- B、加强国民教育，恢复秩序
- C、止暴制乱，恢复秩序

D、止暴制乱，促进社会公平

6、2019年11月27日，被香港高院裁定“违宪”的《禁止蒙面规例》，再次获得短期临时暂缓执行，一直到（ ）为止。

A、2019年11月29日

B、2019年12月10日

C、2019年12月27日

D、2019年12月31日

7、2019年11月20日，国务院决定为减轻纳税人负担特别是中低收入人群负担，暂定两年内对综合所得年收入不超过（ ）元或年度补税金额较低的纳税人，免除汇算清缴义务。

A、8万

B、10万

C、12万

D、15万

8、2019年10月20日，第六届世界互联网大会在浙江（ ）开幕，大会主题：“智能互联 开放合作——携手共建网络空间命运共同体”。

A、乌镇

B、西塘

C、杭州

D、宁波

9、2019年10月14日至10月18日，为了庆祝中华人民共和国和政协成立70周年，全国政协办公厅联合中央新闻记录电影制片厂联合制作的四集文献电视专题片（ ）在央视播出。

A、《初心和未来》

B、《初心和使命》

C、《我的祖国》

D、《走进新时代》

10、2019年10月26日，第十五届“北京-东京论坛”在（ ）开幕，中国国务委员兼外交部长王毅、前任日本首相福田康夫出席并致辞。

A、北京

B、东京

C、大阪

D、上海

- 11、习近平总书记在解决“两不愁三保障”突出问题座谈会上指出：脱贫攻坚战进入决胜的关键阶段，“打法”要同初期的全面部署、中期的全面推进有所区别。这体现了（ ）。
- A、旧事物难以避免对新事物顽强抵抗
 - B、脱贫攻坚实践随着人们认识的深化而改变
 - C、同一事物在发展的不同阶段有不同的矛盾
 - D、矛盾的主次方面在一定条件下会相互转化
- 12、习近平总书记在庆祝改革开放40周年大会上指出“必须坚持马克思主义指导地位，必须坚持辩证唯物主义和历史唯物主义世界观和方法论。”这是因为马克思主义哲学（ ）。
- A、科学地创造了社会发展的一般规律，为人民指明了实现解放的道路
 - B、作为实践的理论，为人民认识世界、改造世界提供了强大精神力量
 - C、作为时代精神的精华，在哲学史上第一次把世界观与方法论相统一
 - D、作为强大的思想武器，提供了发展中国特色社会主义的具体的方法
- 13、“人生的阴影，是自己遮挡阳光造成的。”对这句话的哲学理解正确的是（ ）。
- A、消除人生的阴影是违反客观规律的
 - B、人是与周围事物处于普遍联系之中
 - C、外因无助于解决人生所面临的难题
 - D、要从内因寻找摆脱困境的有效方法
- 14、当前，L1和L2级别自动驾驶已经量产。L3级将在今年落地，L4级也有企业在探索。但要真正实现无人驾驶，还面临安全、成本等一系列难题。这体现的哲学道理是（ ）。
- A、意识对物质具有反作用
 - B、旧事物对新事物的顽强抵抗和极力扼杀难以避免
 - C、新旧事物间的相互否定是发展必然要经历的环节
 - D、新事物的发展总要经历由不完善到比较完善的过程
- 15、“伟大的诗篇即永远喷出智慧和欢欣之水的喷泉”，雪莱的这一名言体现了什么道理？（ ）
- A、优秀文化能影响人的实践活动
 - B、优秀文化能丰富人的精神世界
 - C、优秀文化能增加人的精神力量
 - D、优秀文化能影响人的认识活动
- 16、我国国家治理体系和治理能力是中国特色社会主义（ ）及其执行能力的集中体现。
- A、理论
 - B、道路

C、制度

D、文化

17、习近平总书记强调：“坚持不忘初心，继续前进，就要坚信党的根基在人民。党的力量在人民，坚持一切为了人民、一切依靠人民，充分发挥广大人民群众积极性、主动性、创造性，不断把为人民造福事业推向前进。”表明了（ ）。

A、依法治国，依法执政

B、立党为公，执政为民

C、不断加强自身作风建设

D、把保障民生作为执政第一要务

18、我国实行贸易和投资自由化便利化政策，保护外商投资合法权益。2019年3月14日全国人大表决通过了《中华人民共和国外商投资法》。关于本法，以下说法不正确的是（ ）。

A、相关部门和社会各方有序参与，体现了政府科学立法、民主立法

B、全国人大及其常委会审议通过法律草案是人民当家作主的体现

C、为新形势下进一步扩大对外开放、积极有效利用外资提供了法律依据

D、坚持党对外商投资立法工作的领导，体现了社会主义法治的根本要求

19、李克强总理在2018年《政府工作报告》中指出：要把群众最关切最烦心的事一件件解决好，使人民生活随着国家发展一年比一年更好。我国政府重视民生的根本原因是（ ）。

A、政府的职责、宗旨所在

B、社会主义民主具有全民性

C、我国是公民当家作主的国家

D、我国是人民民主专政的国家

20、过去几年八项规定成为改变中国的一个关键词，不仅让党风政风明显改善，也以动真碰硬、持之以恒的力度进一步唤醒了广大党员干部的敬畏之心。这表明（ ）。

A、文化对人具有深远持久的影响

B、政治对文化具有潜移默化的影响

C、塑造健全人格要主动接受文化熏陶

D、文化影响社会主义民主政治的发展

21、“作秀”是群众对一些官员行为的讽刺。媒体爆料，某县领导在凌晨扫大街，她的“形象照”发布在网上，引起网民的强烈质疑。这要求政府及国家工作人员必须（ ）。

A、坚持为人民服务的工作态度

B、树立求真务实的工作作风

- C、加强政务信息公开透明度
- D、坚持从群众中来到群众中去的工作方法

22、过去，对村非党员基层干部出现的廉洁问题一直是纪委、监察局的“空白区”。某市监察委员会挂牌后，办案人员针对一名违纪的非党员村主任进行政务立案，打响监委反腐的“第一枪”。可见，监察委员会的组建（ ）。

- A、扩大了人民民主专政的对象
- B、弥补了我国基层民主自治的不足
- C、履行了政府打击犯罪的职能
- D、推动了国家治理体系的不断完善

23、党的十八大以来，我国“打老虎、拍苍蝇”的反腐工作不断推进，被查的干部受到了法律的严惩。这表明（ ）。

- A、民主与专政根本对立
- B、国家具有专政的职能
- C、中国特色社会主义法律体系已完备
- D、反腐败是我国当前的中心工作

24、为纪念中国人民抗日战争胜利70周年暨世界人民反法西斯胜利70周年，中国中央档案馆陆续公布了一些受审日本侵华战犯的亲笔供词，包括笔供的中英文内容提要、笔供原文和译文等。其他国家也纷纷通过摄影、雕塑、论坛、影视等活动和作品反思战争、呼唤和平。从文化角度看，这表明（ ）。

- ①通过这些文化载体，有利于人们在潜移默化中获得正确的价值取向
- ②这些活动的举办有利于引导人们反对霸权强权，维护和平秩序
- ③文化反映政治并将对政治产生反作用
- ④文化具有相对独立性

- A、①②
- B、③④
- C、①③
- D、②④

25、“创建全国卫生城市，欢迎您提意见！”媒体志愿者一见市民就热情宣传，有的市民二话不说拿起笔写下对文明城市的展望和祝福；有的市民在工作人员的耐心解说下，了解之后欣然提笔书写建议和意见。

这是市民通过（ ）参与民主决策。

- A、重大事项社会公示制度
- B、专家咨询制度

C、社情民意反映制度

D、舆论制度

26、2019年3月3日至15日全国两会在北京召开，来自各个民族各条战线的人大代表和政协委员中，既有德高望重的长者，也有朝气蓬勃的年轻人，这说明我国（ ）。

A、民主权利具有真实的特点

B、社会民主具有法律保障

C、民主主体具有最广泛的特点

D、人民民主是最管用的

27、在2017年全国两会期间，政协委员们就实施“十三五规划”等关系国计民生的重大问题进行了调研，并递交了提案。这表明人民政协（ ）。

A、履行经济建设和社会建设职能

B、享有提交议案权

C、履行参政议政职能

D、是多党合作的重要机构

28、活佛作为藏传佛教特有的活动和传承方式得到国家的尊重，仅在2018年已有91位活佛。宗教文化和历史定制得到批准和认同，由此可见（ ）。

A、我国鼓励和支持宗教事业的发展

B、宗教领域贯彻落实依法治国方略

C、我国宗教信仰的本质已发生变化

D、正常的宗教活动受到了国家的保护

29、2017年4月中国第一艘航母从大连造船厂正式下水，某中学就用科技提升的重要性问题进行辩论（ ）。

A、当前国际竞争就是综合国力的较量

B、国家利益是国际关系的决定性因素

C、我国维护自身利益时兼顾他国合理关切

D、我国实行独立自主的和平外交政策

30、2019年4月23日，中央军委在青岛举行了纪念海军成立70周年盛大阅兵仪式。近年来，从执行首批亚丁湾、索马里海域护航任务到在战火纷飞的也门撤离多国侨民·····海军用行动证明，人民海军有信心、有能力维护国家主权、完整、安全、发展利益，始终致力于做世界和平与共同发展的促进者，始终致力于做海洋命运共同体构建者、维护者和贡献者。

材料告诉我们（ ）。

- A、人民海军是我国行使自己权利的重要内容
- B、人民海军的实力不断增强
- C、人民海军是维护我国国家利益和世界和平的重要力量
- D、有利于维护中国在国际事务上的领导权

31、失去监督的权力必然导致腐败，在我国行政监督体系中，属于行政系统内部监督的是（ ）。

- A、权力机关的监督
- B、审计部门的监督
- C、监察机关的监督
- D、司法机关的监督

32、“坚决托住基本民生需求的底”“提高保障和改善民生水平”“向深度贫困地区聚焦发力”，2018年国家财政资金更多地用于增进民生福祉。这体现了我国人民民主具有（ ）。

- A、制度保障
- B、法律保障
- C、物质保障
- D、政治保障

33、健全基本社会公共服务体系，保证人民幼有所育、学有所教、劳有所得、病有所医、老有所养、住有所居、弱有所扶，这需要政府执行的职能主要是（ ）。

- A、加强社会建设
- B、推进生态文明建设
- C、组织社会主义经济建设
- D、组织社会主义文化建设

34、在某班讨论“人大代表如何履职”问题时，晓华同学结合本地实际对人大代表提出了以下建议，你认为其中不当的建议是（ ）。

- A、开设微信公众号向选民征集各方面意见
- B、调研沿河企业，强制排污超标的企业停产整顿
- C、在即将召开的人代会上联名提出“关爱空巢老人”的提案
- D、列出水土保护中存在的问题，在人代会期间向有关人员提出质询

35、2019年劳动节正逢周三，国务院调休方案出台的过程是：群众呼吁调休，人大代表建议，政府调整，总理回应，抓紧研究，国务院通知调休。针对上述过程，说法正确的是（ ）。

- A、公民通过社情民意反映制度行使决策权
- B、人大代表行使质询权督促政府作出调整

C、政府以人民为中心，坚持为人民服务的工作态度

D、公民通过人大代表联系群众制度监督政府工作

36、2019年端午节期间，刚领到8000元工资的小李在商场中看到了一款标价为2998元的平板，在和卖家讨价还价后，最终以2898元成交。这里涉及的货币职能依次是（ ）。

①价值尺度 ②世界货币 ③流通手段 ④支付手段

A、①③④

B、②①③

C、③①④

D、④①③

37、扫码购、社交支付、无感支付、自助点餐小程序、乘车码· · · · · ·现如今，移动支付的使用场景日益丰富，几乎占领了生活的方方面面。移动支付的普及（ ）。

A、改变了货币的本质和基本职能

B、能够有效避免通货膨胀的发生

C、会导致央行逐步减少货币供应量

D、不会影响人民币的法定货币地位

38、经济学中“丰收悖论”这样表述：“如果某一农场主获得丰收，他的收入会增加；如果所有农场主都丰收的话，则他们的收入都会下降。”对“丰收悖论”的合理解释是（ ）。

A、产量越大价格越低

B、商品的价格由价值决定

C、农产品的需求弹性小

D、劳动生产率与劳动收益成反比

39、2019年，我国实施更大规模的减税降费，预计将减轻企业税收和社保缴费负担近2万亿元，有力促进了企业发展。若不考虑其他因素，大规模减税降费的影响路径是（ ）。

①激发企业活力 ②国家减税降费 ③减轻企业负担 ④促进企业发展

A、①④③②

B、④②③①

C、②③①④

D、②①③④

40、春节时，中国人总是想方设法回家与家人团聚，欢度佳节。春节也是人们集中购置年货、宴请亲朋、娱乐消遣的时候。据统计，人们在春节期间的消费额一般达到全年消费的20%~30%，有的高达60%~70%，其中不乏“突击消费”“公关消费”“人情消费”“超前消费”等。

对上述春节消费现象认识正确的是（ ）。

- ①生活消费是居民个人的事，与国家无关
- ②节日期间，物质消费比精神消费更重要
- ③家庭消费应量入为出，适度消费
- ④应提高消费的科学性和合理性

- A、①②
- B、①③
- C、②④
- D、③④

41、我国第四套人民币是1987年开始发行的，经国务院批准，中国人民银行决定自2018年5月1日起停止第四套人民币的流通。2019年4月30日停止集中兑换，这说明（ ）。

- A、纸币的购买力是由国家提供的
- B、人民币发行过多会导致物价上涨
- C、国家有权决定纸币的停止和面值
- D、人民币流通是国民经济赖以维持的血脉

42、2019年5月猪肉价格提前进入上涨周期，其主要原因是我国前一周期出现非洲猪瘟疫情后可供上市的肥猪数量不足，这表明（ ）。

- A、价格影响需求
- B、供求影响价格
- C、价值决定价格
- D、时间决定价格

43、某中药企业不断强化全员质量意识，引导员工树立“工匠精神”，以推动中药标准国际化，掌握中药质量标准话语权为发展方向，使其成为民族医药巨头，它的成功得益于（ ）。

- A、注重研发投入不断创新产品
- B、实施走出去战略，充分利用国际市场
- C、提升劳动者素质，发挥其主体作用
- D、制定中药质量国际标准促进企业发展

44、扩大内需是我国经济发展的长期战略方针和基本立足点，也是促进经济发展的根本途径和内在需求。

关于消费下列说法错误的是（ ）。

- A、消费增加有利于劳动者素质提高
- B、消费决定生产，消费结构推动生产结构的提升

C、消费是生产的动力，消费能促进经济发展和就业增加

D、消费是社会再生产过程中的重要环节也是最终环节

45、微信朋友圈为人们分享信息提供了一个开放性平台。小李认为朋友圈是自己的“地盘”，在朋友圈上可以随意发表自己的见解和观点，任何人无权干涉这种自由，他的观点（ ）。

A、否认了国家保护公民的政治自由

B、否认了公民的权利和义务是统一的

C、肯定了公民的自由是相对的有条件的

D、符合我国公民享有言论自由权利的要求

46、法律是体现（ ）的意志，由国家制定并由国家强制力保证实施的行为规范体系。

A、被统治阶级

B、统治阶级

C、无产阶级

D、资产阶级

47、赵某教唆李某杀死王某，李某接受教唆后于深夜潜入王某家，适逢王某外出未归，李某便将熟睡中的王某的妻子强奸后逃离。本案中赵某的行为（ ）。

A、不构成犯罪

B、属于意外事件

C、应当从重处罚

D、可以从轻或者减轻处罚

48、下列选项中属于防卫过当的情形是（ ）。

A、甲拿擀面杖打乙，乙掏出猎枪将甲打死

B、甲拿菜刀砍乙，乙加以还击，一拳将甲打成重伤

C、甲用刀砍杀乙，乙拿起身边的锄头将甲打死

D、甲用拳头打乙，乙从腰间拿出枪向甲射击，却没有打中，甲被吓跑了

49、下列关于老年人犯法说法正确的是（ ）。

A、已满75岁的人犯罪的应当一律减轻处罚

B、已满75岁的人犯罪的应当一律免除处罚

C、已满75岁的人故意犯罪的应当从轻或者减轻处罚

D、已满75岁的人过失犯罪的应当从轻或者减轻处罚

50、根据我国专利法的相关规定，下列选项中可以授予专利权的是（ ）。

A、甲发明了某植物新品种的生产方法

- B、乙发明了对糖尿病特有的治疗方法
- C、丙发明了用于躲避监控机动车超速行驶的预警电子狗
- D、丁对两种平面印刷品的图案结合做出的起标识作用的设计

51、文艺复兴前欧洲绘画中的圣母神态安详神圣。而在米开朗基罗的《哀悼基督》中的圣母是容貌端庄的母亲。她的美是直观的，她的悲哀也是深沉的，这种文化反映了（ ）。

- A、神性在艺术造型中的体现
- B、人体缺陷在艺术创作中的美化
- C、人性在艺术造型中的觉醒
- D、造型艺术开始从世俗走向神殿

52、启蒙思想家霍布斯认为人们为了摆脱痛苦而悲惨的自然状态就互相订立了一种社会契约，将原有的所有自然权利交给主权者，而这种授权一经做出，主权者的权威是至上的，一切法律来自主权者的认可和宣布。这反应出霍布斯的思想（ ）。

- A、背弃了主权在民说
- B、具有专制主义色彩
- C、符合共和主义理念
- D、完善了社会契约论

53、“自从台湾同祖国不幸分离以来，我们之间音讯不同，来往断绝……近三十年的分离是人为的，我们希望双方尽快实现通航通邮，以利双方同胞直接接触”此材料应出自（ ）。

- A、1979年《告台湾同胞书》
- B、九二共识
- C、江泽民关于祖国统一大业谈话
- D、胡锦涛与连战会谈新闻公告

54、有学者将国际社会主义运动在20世纪20年代之前的发展特点简要归纳为“由空想到科学，由理论到实践，由理想到现实”。下列符合“由理想到现实”的特点的史实是（ ）。

- A、中国共产党的诞生
- B、巴黎公社的建立
- C、《共产党宣言》的发表
- D、十月革命的胜利

55、巴黎著名的协和广场曾几度更名，见证了法国革命的曲折历史。1793年时是“革命广场”，1795年更名为“协和广场”，将这些名称与下列历史时期相对应并按时序排列正确的是（ ）。

- ①波旁王朝复辟时期 ②七月王朝时期 ③雅各宾派专政时期 ④督政府时期

- A、①③②④
- B、③①④②
- C、③④①②
- D、④③①②

56、新中国成立后，人民政府将归绥（归顺，平定之意）改为呼和浩特（青色的城之意），迪化（开导教化之意）改名为乌鲁木齐（优美牧场之意），这说明新中国（ ）。

- A、重视对生态环境的保护
- B、实施民族区域自治制度
- C、尊重少数民族风俗习惯
- D、贯彻各民族平等的原则

57、上海商务印书馆以出版教科书而享誉近代，1933年该馆出版了新的历史教科书，书名冠以“复兴”二字，寓意相当深刻。下列事件与之相关的是（ ）。

- A、九一八事变
- B、西安事变
- C、卢沟桥事变
- D、南京大屠杀

58、古希腊城邦的公共墓地主要用于埋葬牺牲的士兵，城邦为他们树立墓碑，刻上所有牺牲者的名字，但并不写明他们的家世，这旨在强调（ ）。

- A、城邦公民的平等
- B、军事对城邦的重要性
- C、共同的宗教信仰
- D、血缘对城邦维系的作用

59、中药起源于我国，是指主要用于预防和治疗疾病的天然药物及其加工的用品。主要包括植物类药，动物类药和矿物类药等。下列属于植物类药的是（ ）。

- A、地龙，龙骨
- B、决明子，牛黄
- C、田七，茯苓
- D、阿胶，蝉衣

60、四合院是我国传统住宅建筑的代表，其住房安排一般是家长住正房，晚辈住厢房或耳房，四合院的房屋布局合乎中国封建社会的人伦礼节，这反映了（ ）。

- A、传统观念助推传统建筑发展

- B、人民群众是精神财富的创造者
- C、通过传统建筑能够透视传统文化
- D、传统建筑思想隐藏于社会地理环境中

61、我国人口自然增长率从1970年的2.5%降至2010年的0.48%，使“世界70亿人口日”的到来推迟了5年。

下列有关我国人口的说法，正确的是（ ）。

- A、我国是世界上人口最多的国家，美国是第二人口大国
- B、我国西北部人口稀疏的主要原因是自然条件优越，社会经济发达
- C、我国人口自然增长率降低是“世界70亿人口日”推迟5年的主要原因
- D、我国的计划生育政策只是为了控制人口数量

62、以下关于经线的描述，错误的是（ ）。

- A、经线也叫子午线
- B、经线是等长的，它代表地球表面的南北方向
- C、经过英国格林尼治天文台旧址的那条经线被定为本初子午线
- D、西经和东经两条经线组成的经线圈把地球分为东、西两半球

63、风化作用指的是地球表面的岩石受太阳辐射、温度变化以及氧气、水和生物等作用，发生化学性质改变与元素迁移的过程。风化作用按其动力学特征分类不包括（ ）。

- A、物理风化
- B、化学风化
- C、生物风化
- D、腐蚀风化

64、关于中国的名山，以下描述错误的是（ ）。

- A、泰山为“五岳”之首，古称“东岳”，又名“岱宗”
- B、嵩山为“五岳”中的“中岳”，位于河南省西部
- C、华山为“五岳”中的“北岳”，山形远望如莲花盛开，故名华山
- D、衡山为“五岳”中的“南岳”，位于湖南省中部，主峰为祝融峰

65、2015年，美国国家航空航天局宣布，在火星表面发现了有液态水活动的证据，这个发现对作出下列推断具有重要意义的是（ ）。

- A、火星公转轨道为椭圆形
- B、火星可能存在生命
- C、火星自转周期比地球长
- D、火星大气层稀薄

66、长时间暴露于寒冷环境或淹溺于冷水之中容易患上低温症，可能出现头晕、恶心、呼吸困难、失去意识等症状。下列关于应对低温症的做法，错误的是（ ）。

- A、如果患者手脚冰凉，可用热水袋给患者四肢加热
- B、如果患者身上有湿衣服，应轻柔地帮患者脱掉或剪掉。
- C、如果患者出现呼吸微弱甚至停止，应对患者进行心肺复苏
- D、如果有人出现低温症的症状，应立即拨打120，用衣服帮患者取暖

67、一次性过量饮水会造成人体细胞肿胀，功能受损。可用静脉滴注高浓度盐水对患者进行治疗，其原理是（ ）。

- A、升高细胞外液的离子浓度
- B、促进抗利尿激素的分泌
- C、降低细胞内液的离子浓度
- D、减少细胞外液液体总量

68、中国航天事业三个里程碑分别是（ ）。

- A、一箭三星，载人航天飞行，月球探测工程
- B、人造地球卫星上天，氢弹爆炸，载人航天飞行
- C、原子弹爆炸，人造卫星上天，月球探测工程
- D、人造地球卫星上天，载人航天飞行，月球探测工程

69、我国黑龙江北部1月份平均气温在零下以下，漠河最低气温曾达到过零下，因此本地区只能使用酒精温度计而不能使用水银温度计，原因是（ ）。

- A、水银比酒精传热快
- B、水银比酒精传热慢
- C、水银比酒精的凝固点低
- D、水银比酒精的凝固点高

70、关于导体及其导电原理，下列说法错误的是（ ）。

- A、石墨导电是因为石墨中含有碳元素
- B、酸碱溶液导电是因为溶液内含有自由离子
- C、金属导电是因为金属中有可以自由移动的电子
- D、人体导电是因为人体内含有大量的水分和矿物质

71、关于公文格式，以下描述正确的是：（ ）

- A、如果公文很紧急，可以将“紧急”二字写在公文标题上
- B、一般情况下，公文格式以公文的要素划分为版头，主版和版记三部分

- C、公文在用纸、字体、行距、版式等方面有严格的规定
- D、公文格式是公文的表现形式，是公文的权威性、严肃性和约束力在形式上的体现

72、公文处理中，行政机关联合行文时，一般应标注_____的发文字号：（ ）

- A、主办机关
- B、主送机关
- C、协办机关
- D、联合机关

73、关于公文行文规则，以下描述错误的是：（ ）

- A、向上级单位行文，原则上只主送一个上级单位
- B、“请示”应当一文一事，即在一份“请示”里只能有一个请示事项
- C、除上级单位直接交办的重要事项外，不得以本单位负责人名义向上级单位报送公文
- D、可将请求上级单位支持解决的事项写在“报告”里面，也可将报告上级单位知晓的事项写在“请示”

里面

74、计算机软件按功能可以分为应用软件、系统软件和支撑软件（或工具软件）。下面属于应用软件的是：

（ ）

- A、编译程序
- B、操作系统
- C、教务管理系统
- D、汇编程序

75、在Windows操作系统中，关于文件命名说法错误的是：（ ）

- A、文件名的长度不允许超过8个字符
- B、扩展名中允许使用多个分隔符
- C、不允许使用大于号、问号、冒号等符号
- D、文件名除了开头之外任何地方都可以使用空格

76、计算机操作系统的功能是：（ ）

- A、负责诊断机器的故障
- B、将源程序编译成目标程序
- C、负责外设与主机之间的信息交换
- D、控制和管理计算机系统的各种硬件和软件资源的使用

二、言语理解与表达。本部分包括表达与理解两方面的内容。请根据题目要求，在四个选项中选出一个最恰当的答案。

77、从孔子学院的设立到中国文化年的举办，从《媳妇的美好时代》走红非洲到“皖风徽韵美洲行”惊艳美国，中华文化“走出去”渐入佳境。假如让你写一篇有关此类活动的新闻报道，你认为比较合适的标题是（ ）。

- A、文化传播：推动世界文化逐步趋向同一
- B、文化发展：教育是文化传播的主要途径
- C、文化传承：文化要在继承的基础上发展
- D、文化交流：做传播中华文化的友好使者

78、天津市有非常丰富的传统美食，如狗不理包子、十八街麻花、茶汤、干果、熟梨糕等民间特色小吃。假如天津市应邀到德国慕尼黑市举办一个传统美食节，邀请你为此次文化交流拟一个标题，你认为最合适的是：（ ）

- A、面向世界，平等协商，博采众长
- B、弘扬传统，推陈出新，文化共享
- C、博大精深，求同存异，相互尊重
- D、尊重差异，平等协商，推陈出新

79、下列日常情景得体的是（ ）。

- A、（听说朋友要来访）老王高兴得合不拢嘴：“太好了，明天我一定在府上恭候各位光临。”
- B、（某市长在看望人大代表时说）诸位代表，你们辛苦了，我代表全市人民感谢你们！
- C、（某杂志社在征文通知中写道）凡参加此次征文活动者，我社新出版的诗集《沃土》就任你挑上一本了。
- D、（某老教授在询问对方家人情况时说）令尊身体可好吗？令弟大学毕业分在哪里？令郎小学毕业了吧？

80、下列日常情景得体的是：（ ）

A、燃烧的岁月，已将您生命焚尽，但那坚强的信念，仍在您额头闪光。您的爱护，关怀和勉励将伴我信步风雨人生。（发给父亲的短信）

B、学生会经过调查研究，写出了《我校食堂服务质量调查报告》，文中提出了改进意见，并且责成学校领导研究落实。

C、同桌张山学习上得过且过，不求甚解，李水意味深长地对他说：“‘学而不思则罔’，你可不能总是浅尝辄止啊！”

D、和同学一起去春游，面对着满园盛开的梨花，王强情不自禁地说道：“真可谓‘忽如一夜春风来，千树万树梨花开’。”

81、①大而言之，是为学术，就是希望新的医学传到中国去。

②但不知怎地，我总还时时记起他，在我所认识的老师之中，他是最使我感激，给我鼓励的一个。

③他的性格，在我的眼里和心里是伟大的，虽然他的姓名并不为许多人所知道。

④有时我常常想：他对于我的热心的希望，不倦的教诲，小而言之，是为中国，就是希望中国有新的医学。

下列排序正确的是：（ ）

- A、①③②④
- B、②④①③
- C、①②④③
- D、②①④③

82、①随着这些系统变得越来越自主，所需要的人类监管也随之变得越来越少。

②我们可以设定初始条件。

③站在这个黄金时代的起点上，我们可以选择。

④但是在此之后，我们的控制权就少的可怜了，而我们必须接受自己决定的后果。

⑤他们这样做的原因很多，而有一些原因可能我们根本无法理解。

下列选项排列正确的选项是：（ ）

- A、③②④①⑤
- B、①②③④⑤
- C、③④①②⑤
- D、①④⑤②③

83、①全面从严治党永远在路上。

②人民群众反对什么、痛恨什么，我们就要坚决防范和纠正什么。

③一个政党，一个政权，其前途命运取决于人心向背。

④要深刻认识党面临的执政考验、改革开放考验、市场经济考验、外部环境考验的长期性和复杂性，深刻认识党面临的精神懈怠危险、能力不足危险、脱离群众危险、消极腐败危险的尖锐性和严峻性，坚持问题导向，保持战略定力，推动全面从严治党向纵深发展。

⑤全党要清醒认识到，我们党面临的执政环境是复杂的，影响党的先进性、弱化党的纯洁性的因素也是复杂的，党内存在的思想不纯、组织不纯、作风不纯等突出问题尚未得到根本解决。

下列选项排列正确的是：（ ）

- A、③④①②⑤
- B、①③②⑤④
- C、③①②④⑤

D、①②③⑤④

84、（1）老妈说那里闹鬼，地牢里有不为人知的恐怖酷刑，墙上还挂着龙头。

（2）布兰光想想就浑身打颤，但他却不害怕，有什么好怕的呢？

（3）他很快就要在国王大道上策马驰骋了，不是骑小马喔，而是骑真正的骏马。

（4）他有父亲保护，还有国王和他所有的骑士与宣誓效忠的武士呢。

（5）父亲将成为国王的首相，他们会搬进君临，住进龙王建造的“红堡”。

（6）这几天来，布兰兴奋得坐立不安。

下列选项排列正确的选项是：（ ）

A、643215

B、123456

C、635124

D、145326

85、①佗乃下刀，割开皮肉，直至于骨，骨上已青；佗用刀刮骨，悉悉有声。

②帐上帐下见者，皆掩面失色。

③公饮数杯酒毕，一面仍与马良弈棋，伸臂令佗割之。

④佗取尖刀在手，令一小校捧一大盆于臂下接血。

⑤公曰：“任汝医治，吾岂比世间俗子，惧痛者耶！”

⑥佗曰：“某便下手，君侯勿惊。”

⑦公饮酒食肉，谈笑弈棋，全无痛苦之色。

下列选项排列正确的是：（ ）

A、⑥④③⑦②①⑤

B、③④①②⑤⑥⑦

C、⑥③⑤⑦①②④

D、③④⑥⑤①②⑦

三、数量关系。在这部分试题中，每道题呈现一段表述数字关系的文字，要求你迅速、准确地计算出答案。

86、 $2019 \times 2019 - 2020 \times 2018$ 的值是（ ）。

A、1

B、11

C、21

D、31

87、 $10/3$, 1 , 3.14 , π , $\sqrt{10}$ 四个数中最大的是 ()。

- A、 $10/3$
- B、 3.14
- C、 π
- D、 $\sqrt{10}$

88、蜘蛛有8只脚，蜻蜓有6只脚和2对翅膀，蝉有6只脚和1对翅膀，现在三种昆虫共18只，共有118只脚和20对翅膀，其中蜻蜓有多少只？ ()

- A、5只
- B、6只
- C、7只
- D、8只

89、从装有120克浓度80%酒精溶液的烧杯中倒出60克酒精溶液后再加入60克海水并使之混合均匀，接着重复以上步骤两次，最终烧杯中酒精溶液浓度为 ()。

- A、5%
- B、10%
- C、15%
- D、17.5%

90、某背包厂生产出来的一批背包中，大号和小号各占一半，其中15%是黑色的，85%是蓝色的，如果这批背包总共100件，其中大号黑色背包有10件，则小号蓝色背包为 ()。

- A、15件
- B、25件
- C、35件
- D、45件

91、甲乙两人分别从A、B两地同时出发，相向而行，当他们第一次相遇时，甲离B地相距118米，然后二人继续向前走，当他们到达目的地后立即返回，当他们第二次相遇时，乙离B地相距52米，问A、B两地相距 ()。

- A、121米
- B、174米
- C、203米
- D、236米

92、对100名学生进行调查，发现他们喜欢看球赛、电影和打游戏，其中58人喜欢看球赛，38人喜欢打游

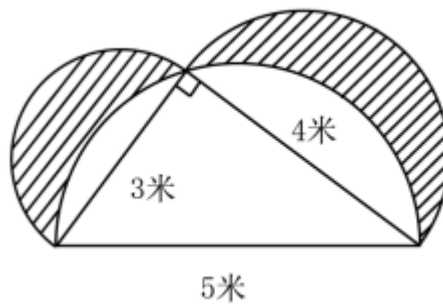
戏，52人喜欢看电影，既喜欢看球赛又喜欢打游戏的有18人，既喜欢看电影又喜欢打游戏的有16人，三种都喜欢的有12人，则这些学生中只喜欢看电影的有（ ）。

- A、18人
- B、22人
- C、26人
- D、32人

93、甲、乙两人接到编织一张羊毛毯的订单，若甲单独编织需要35天，乙单独编织需要25天。现由甲编织第一天，从第二天起每天均由上一天未编织的人编织。问当地毯编织完成一半时，乙编织了几天？

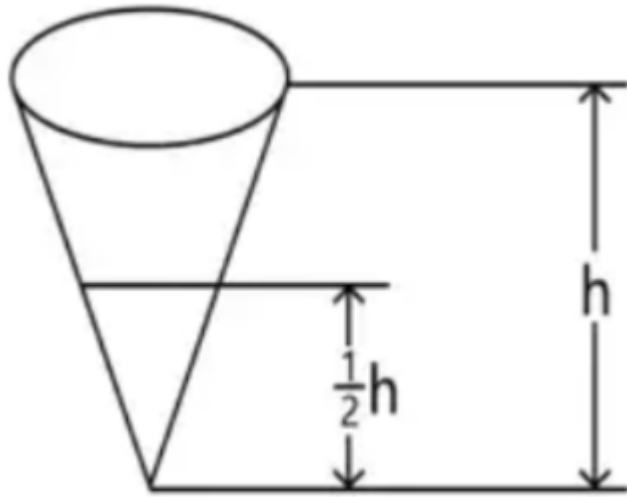
- A、7天
- B、8天
- C、14天
- D、15天

94、计算阴影部分面积为（ ）平方米。



- A、4
- B、6
- C、8
- D、12

95、圆锥形容器装了3升的水，水面高度正好是圆锥高度的一半。这个容器还能装（ ）升水。



A、15

B、21

C、27

D、33

96、1, 4, 8, (), 16, 20, 25

A、11

B、12

C、13

D、14

97、1, 4, 16, 49, 121, ()

A、256

B、225

C、196

D、169

98、27, 16, (), 1, 1/7

A、10

B、5

C、0

D、-1

99、

1		3
	1	
2		6

5		7
	32	
6		9

8		9
	?	
2		3

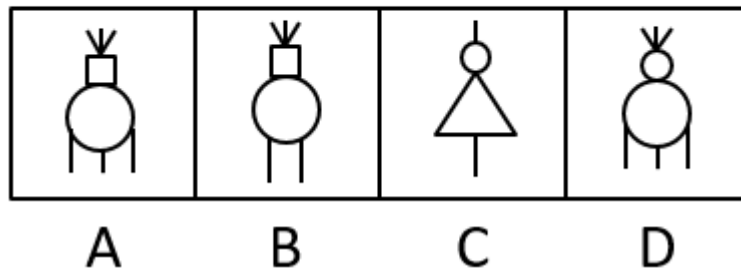
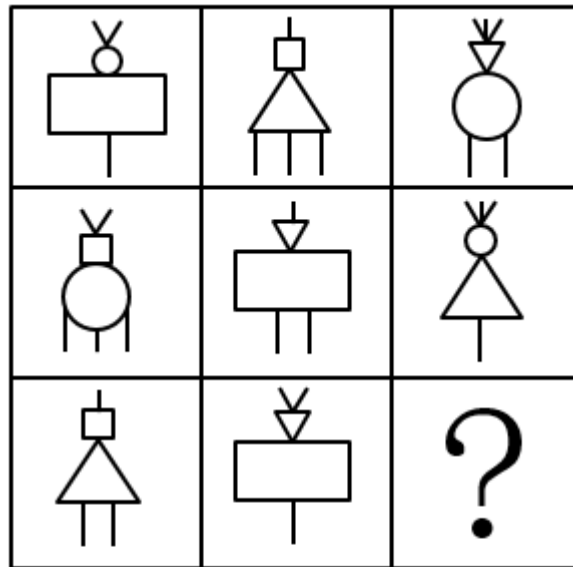
- A、 1
 - B、 5
 - C、 9
 - D、 13
- 100、

23	24	25	26
8	6	3	1
22	21	20	19
81	81	?	64

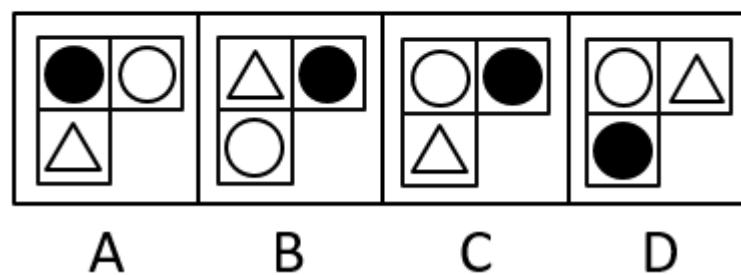
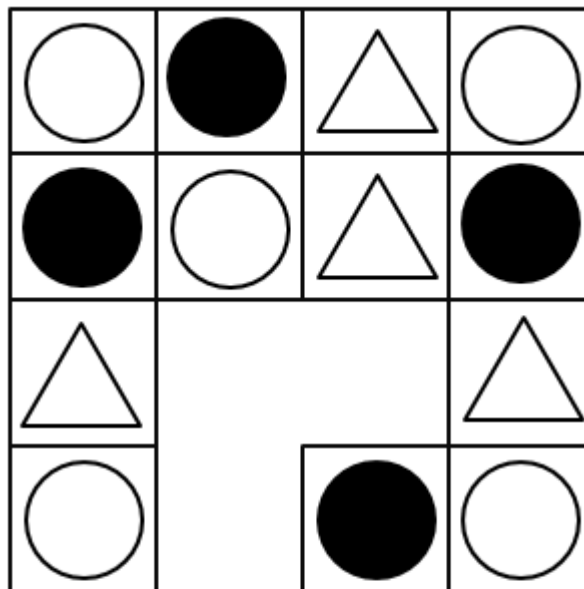
- A、 9
- B、 18
- C、 32
- D、 64

四、判断推理。本部分包括图形推理、定义判断、类比推理和逻辑判断四种类型的试题，在四个选项中选出一个最恰当的答案。

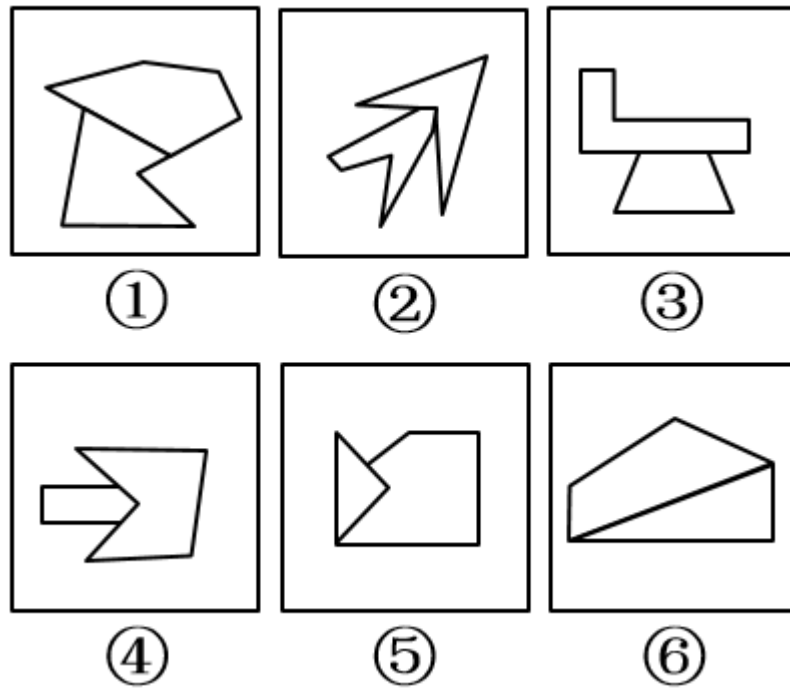
101、



102、

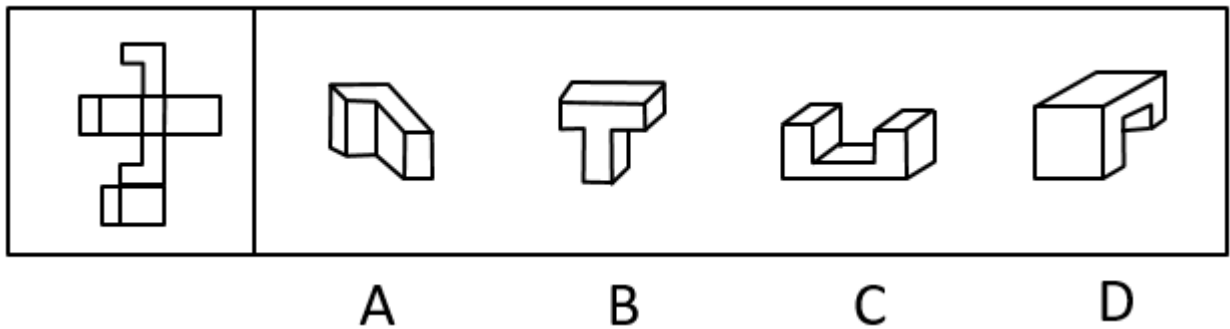


103、把下面的六个图形分为两组，使每组图形都有各自的共同特征或规律的是（ ）。



- A、①②④，③⑤⑥
- B、①②⑤，③④⑥
- C、①③⑤，②④⑥
- D、①③⑥，②④⑤

104、



105、私德是指人们在不直接涉及对社会整体的义务和责任的私人生活和私人交往中应当遵循的道德准则，主要包括个人生活习惯、行为风度、性格特点以及处理爱情、婚姻、家庭问题的道德等。

根据上述定义，下列不属于私德的是（ ）。

- A、刘某个性张扬，喜欢穿戴各种新潮服饰
- B、张某遵纪守法，从没干过违法犯罪的事情
- C、李某很勤快，家里所有家务活都是他做的
- D、王某是个公务员，他和邻居相处得很好

106、社会流动是指人们在社会关系空间中从一个地位向另一个地位的移动，由于社会关系空间与地理具

有密切的联系，因此一般把人们在地理空间的流动也归于社会流动。根据上述定义，下列不属于社会流动的是（ ）。

- A、班主任当上校长
- B、在班里她由一名佼佼者变成一名差生
- C、他先是从事农业生产，后来加入城市服务业发展的行列
- D、小明虽然家在偏远的农村，但他考取了北京大学，毕业后成为外交部一名公务员

107、商业贿赂行为是指经营者在市场交易活动中，为争取交易机会；特别是为获得相对于竞争对手的市场优势，通过秘密给付财物或者其他报偿等不正当手段收买客户的负责人雇员、合伙人、代理人和政府有关部门工作人员等能够影响市场交易的有关人员的行为。根据上述定义，下列选项中属于商业贿赂行为的是（ ）。

- A、某品牌啤酒厂商在商场为其啤酒并不存在的功效做宣传
- B、政府官员小王为其同学优先办理项目审批手续
- C、医生李某高价购进国外医疗设备，设备提供商为他在国外读书的女儿免费提供食宿
- D、某建筑商出资100万元建立孤儿院树立社会形象，后来在市政府项目招标中中标

108、爱国主义是作为一种体现人民群众对自己祖国深厚感情的崇高精神。在新民主主义革命时期，爱国主义主要表现为致力于推翻帝国主义，封建主义和官僚资本主义反动统治的斗争，把黑暗的旧中国改造成光明的新中国。在现阶段爱国主义又有着新的表现内容。

根据上述定义，下面不属于爱国主义行为的是（ ）。

- A、献身于促进祖国统一的事业
- B、南非人权组织在内蒙古宣传国际主义运动
- C、在现阶段献身于建设和保卫社会主义事业
- D、在新民主主义革命时期推翻帝国主义，封建主义和官僚资本主义反动统治

109、网络协同效应是指两种或两种以上的物质，如企业个体，网民个体或者某种技术的相互协同等，它们之间在互联网平台上相互作用后所产生的效果。

根据以上定义，下列不属于网络协同效应的是（ ）。

- A、小王通过网络每天更新关于自己生活的博客
- B、甲，乙公司通过网络视频签订了一个项目的协议
- C、某网络研究小组成员通过网络分享各自的研究成果
- D、某电子商务网站推出了一款限量商品引来大量顾客抢购

110、空气污染导致的最常见的疾病是哮喘，最致命的危险是导致心脏病。细小微粒造成伦敦每年死亡1万人，空气中微粒的数量与心脏病之间是有联系的，人们每次呼吸都往肺部深处吸入大约50万个微粒。可是在受

到污染的环境中，吸入的微粒比这多100倍。如果下列哪项为真，最有助于证明微粒和心脏病之间有密切联系？

()

- A、微粒的吸入会导致呼吸道疾病
- B、微粒的来源是被风刮起的泥土和灰尘
- C、在受到污染的环境里微粒的数量在逐渐增加
- D、微粒可以充当把化学污染彻底带入肺部深处的媒介，这些物质会加速一种被称为游基的有害物质的产生

111、研究显示，约200万年前，人类开始使用石器处理食物，例如切肉和捣碎植物。与此同时，人类逐渐演化形成较小的牙齿和脸型，以及更弱的咀嚼肌和咬力。因此研究者推测，工具的使用减弱了咀嚼力量，从而导致人类脸型的变化。

以下哪项如果为真，最能削弱上述研究者的观点？()

- A、对与人类较为接近的灵长类动物进行研究，发现它们白天有一半时间用于咀嚼，它们的口腔肌肉非常发达、脸型也较大。
- B、200万年前人类食物类型发生了变化，这加速了人类脸型的变化。
- C、在利用石器处理食物后，越来越多的食物经过了程度更高的处理，变得易于咀嚼。
- D、早期人类进化出较小的咀嚼结构，这一过程使其他变化成为可能，比如大脑体积的增大。

112、人体的大脑与血液之间有一道“血脑屏障”，任何起安眠作用的物质首先必须能穿过这个屏障才能起效。牛奶中含有一种名为色氨酸的氨基酸能够穿过血脑屏障，制造诱发睡眠的荷尔蒙5-羟色胺，因此人们认为睡前喝牛奶是促进睡眠非常有效的方法。以下哪项如果为真，最能削弱上述结论？()

- A、皮肤温度上升，入睡速度就快，故而喝一杯热牛奶就如同洗热水浴一样，能够加快入睡速度。
- B、小份的牛奶所含的色氨酸总量不足以让身体的激素水平发生较大的波动，只有喝大量的牛奶助眠效果才会好。
- C、米饭等碳水化合物助眠效果更好，它们会刺激胰岛素的合成，让色氨酸以外的氨基酸进入肌肉组织，从而使色氨酸更易进入大脑。
- D、牛奶中蕴含许多种类的氨基酸，这些物质进入血液后，会争抢穿过血脑屏障的通道，从而降低色氨酸穿过血脑屏障的能力。

113、某局办公室共有10个文件柜按序号一字排开。其中1个文件柜只放上级文件，2个只放本局文件，3个只放各处室材料，4个只放基层单位材料。

要求：

- (1) 1号和10号文件柜放各处室材料；
- (2) 两个放本局文件的文件柜连号；

(3) 放基层单位材料的文件柜与放本局文件的文件柜不连号;

(4) 放各处室材料的文件柜与放上级文件的文件柜不连号。

已知4号文件柜放本局文件，5号文件柜放上级文件，由此可以推出：（ ）。

- A、9号文件柜放基层单位材料
- B、2号文件柜放基层单位材料
- C、7号文件柜放各处室材料
- D、6号文件柜放各处室材料

114、某次会议讨论期间，甲、乙、丙、丁、戊被安排在一张圆桌前进行讨论，圆桌边放着标有1~5号的五张座椅（未必按序排列）。实际讨论时，甲、乙、丙、丁、戊5人均未按顺序坐在1~5号的座椅上，已知：

- (1) 甲坐在1号座椅右边第二张座椅上；
- (2) 乙坐在5号座椅左边第二张座椅上；
- (3) 丙坐在3号座椅左边第一张座椅上；
- (4) 丁坐在2号座椅左边第一张座椅上。

如果丙坐在1号座椅上，则可知甲坐的是哪个座椅：（ ）

- A、5号
- B、4号
- C、3号
- D、2号

115、二氧化碳，温室效应（ ）

- A、石油，煤炭
- B、公路，汽车
- C、洪水，水灾
- D、投资，风险

116、理论对于（ ）相当于（ ）对于设计

- A、实践 规划
- B、建构 图纸
- C、完善 严密
- D、系统 程序

117、黄色，白色，红色（ ）

- A、忧伤，高兴，愤怒
- B、女医生，男医生，医生

C、科学，非科学，伪科学

D、左手，右手，举手

118、（ ）对于编辑 相当于（ ）对于工人

A、主编 产品

B、报纸 厂房

C、报社 工厂

D、出版社 车间

119、西藏，新疆（ ）

A、陕西，内蒙古

B、广西，广东

C、甘肃，宁夏

D、重庆，天津

五、资料分析。所给出的图、表、文字或综合性资料均有若干个问题要你回答。你应根据资料提供的信息进行分析、比较、计算和判断处理。

(一)

2018年的社会统计公报显示全年各类自然灾害造成经济损失2042亿元，比上年上升27.4%；全年农作物受灾面积3882万公顷，上升4.6%，其中绝收460万公顷，上升5.4%。全年发生特大森林火灾3起，因森林火灾造成受灾森林面积7.3万公顷，下降48.4%。全年因海洋灾害造成直接经济损失约为332亿元，增加5.1倍。全年发生赤潮82次，减少14次，累计赤潮面积约27070平方公里，上升1.7%。全年共发生造成人员伤亡或直接经济损失50万元以上的地质灾害854起，共造成经济损失36.5亿元。全年共发生5级以上地震13次，受灾人口208万人，受灾面积15040平方公里，造成直接经济损失26亿元。全年生产安全事故死亡12.7万人，比上年下降7.1%。亿元GDP生产事故死亡人数为0.7人，下降18.5%。工矿商贸企业从业人员生产安全事故10万人，死亡人数为3.85人，下降6.8%。煤矿百万吨死亡人数为2.81人，下降8.7%。全年发生道路交通事故数为450254起，造成9.9万人死亡，47万人受伤，直接财产损失18.8亿元。道路交通万车死亡人数为7.6人，下降23.7%。

120、2018年除海洋、地质、地震灾害外，其它自然灾害造成直接经济损失为（ ）。

A、2042亿元

B、1647.5亿元

C、1628.7亿元

D、1601.1亿元

121、与2017年相比2018年涉及人员死亡的各种安全事故减幅最高的是（ ）。

A、煤矿百万吨死亡人数

- B、亿元GDP生产安全事故死亡人数
- C、工矿商贸企业从业人员生产安全事故10万人死亡人数
- D、道路交通万车死亡人数

122、2017年受灾森林面积占农作物受灾面积的（ ）。

- A、0.54%
- B、0.38%
- C、0.48%
- D、0.56%

123、从材料提供的某些叙述和数据中，可推知（ ）。

- A、2017年因海洋灾害造成的直接经济损失不超过55亿元
- B、2017年道路交通事故造成的直接财产损失接近25亿元
- C、2017年共发生5级以上地震13次，受灾人口超过200万
- D、2017年直接经济损失50万元以上的地质灾害造成的经济损失超过40亿元

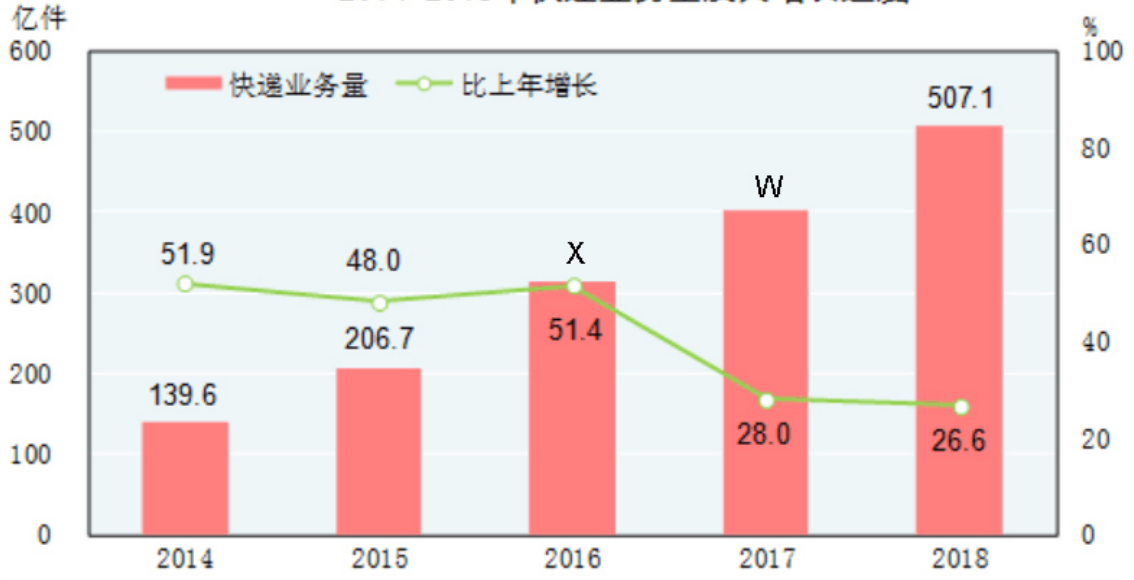
124、根据资料，下列选项正确的是（ ）。

- A、2017年农作物绝收面积占受害面积的
- B、2017年发生赤潮68次，累计赤潮面积约26617.5平方公里
- C、2017年因各种自然灾害造成直接经济损失1602.83 亿元
- D、2017年全年发生道路交通事故造成8万人死亡

(二)

国家统计局数据显示2018年邮政行业全年完成业务总量12345亿元，比上年增长26.4%。邮政业全年完成邮政函件业务26.8亿件，包裹业务0.2亿件，快递业务量507.1亿件，快递中收入6038亿元。全年完成电信业务总量65556亿元，比上年增长137.9%，电信业新增移动电话交换机容量17267万户，达到259453万户。年末全国电话用户总数174835，其中移动电话用户156610万户，移动电话普及率上升至1122部/百人。固定互联网宽带接入用户40738万户，比上年末增加5884万户，其中固定互联网光纤宽带接入用户36833，增加7440万户；移动宽带用户130565万户，增加17413万户。全年移动互联网用户接入流量711亿GB，比上年增长189.1%。

2014-2018年快递业务量及其增长速度



2014-2018年年末固定互联网宽带接入用户数和移动宽带用户数



125、2016年我国快递业务量约为（ ）。

- A、362.0亿件
- B、312.8亿件
- C、286.5亿件
- D、259.2亿件

126、2018年快递业务量比2014年快递业务量增加了约（ ）。

- A、2.63倍
- B、2.96倍
- C、3.63倍
- D、3.96倍

127、2015-2018年当年移动宽带用户与固定互联网宽带接入用户比最大的年份是（ ）。

- A、2015年
- B、2016年
- C、2017年
- D、2018年

128、2017年全年移动互联网用户接入流量约为（ ）。

- A、210亿GB
- B、246亿GB
- C、273亿GB
- D、298亿GB

129、2015-2018年移动宽带用户年增长率和固定互联网宽带接入用户年增长率最高的年份分别是（ ）。

- A、2018年和2017年
- B、2017年和2016年
- C、2018年和2016年
- D、2016年和2015年

六、多项选择题。每小题后的四个备选答案中有两个或两个以上符合题意的答案。

130、2019年1月25日，习近平总书记在十九届中央政治局第十二次集体学习时指出我们要把握国际传播领域_____的趋势，在构建对外传播话语体系上下功夫，在乐于接受和易于理解上下功夫，让更多国外受众听得懂、听得进、听得明白。

- A、移动化
- B、社交化
- C、网络化
- D、可视化

131、习近平总书记在民营企业座谈会上强调，要鼓励支持引导非公有制经济发展。我国75%以上的技术创新、80%以上的新产品开发都是民营企业完成的。由此可见：（ ）。

- A、民营经济是我国经济社会发展的重要基础
- B、民营经济已逐渐成为我国国民经济的主体
- C、民营经济发展有利于促进技术创新和企业转型升级
- D、民营经济在国民经济中发挥着越来越重要的主导作用

132、习近平总书记在中央全面依法治国委员会会议上强调，改革开放40年的经验告诉我们，做好改革发

展稳定各项工作离不开法治，改革开放越深入越要强调法治。因为：（ ）。

- A、公民应做到知法守法用法
- B、市场经济健康发展离不开法治的保障
- C、政府要做到法定职责必须为，法无授权不可为
- D、建设法治国家，是推进国家治理体系和治理能力现代化的必然要求

133、中国共产党第十九次全国代表大会代表的产生采取自下而上、上下结合、反复酝酿、逐级遴选的办法进行。在确定初步人选名单后，以差额选举的方式投票确定代表候选人预备人选。关于以差额选举的方式，下列说法正确的有：（ ）。

- A、是公民依法行使基本民主权利的体现
- B、可以比较充分地考虑当选者结构的合理性
- C、以党内民主带动人民民主，营造风清气正的政治生态
- D、在候选人之间形成相应的竞争，为选民行使选举权提供了选择的余地

134、新时代公民道德建设的重点任务包括（ ）。

- A、筑牢理想信念之基
- B、培育和践行社会主义核心价值观
- C、传承中华传统美德
- D、弘扬民族精神和时代精神

135、为了庆祝中华人民共和国成立70周年，隆重表彰为新中国建设和发展作出杰出贡献的功勋模范人物，第十三届全国人大常委会第十三次会议决定授予（ ）等人共和国勋章。

- A、张富清
- B、袁隆平
- C、于敏
- D、屠呦呦

136、以下对“时势造英雄”和“英雄造时势”理解错误的有（ ）。

- A、唯心史观和唯物史观在历史创造者问题上的主要分歧
- B、唯心史观和机械唯物主义在历史创造者问题上的主要分歧
- C、唯心史观和唯物史观在世界本原问题上的主要分歧
- D、唯物论和辩证法在世界本原问题上的主要分歧

137、下列关于生产者物价指数（PPI）和消费者物价指数（CPI）的说法错误的有（ ）。

- A、我国CPI的统计范围包括食物、交通通讯、居民购房消费等八大类
- B、当PPI指数增幅很大而且持续加速上升时，该国央行应该采取减息对策

- C、消费者物价指数（CPI）是一个滞后性数据
- D、根据价格传导规律，CPI不会对PPI产生影响

138、2019年年初以来，受美联储暂停加息、短期资本流入等因素影响，人民币对美元汇率中间价由687.55走低至671.01。不考虑其他因素，这对出境游和商品出口的影响有（ ）。

- A、中国居民赴境外旅游热情高涨
- B、中国居民赴境外旅游热情减退
- C、中国商品在美国市场价格上升
- D、中国商品在美国市场价格下降

139、甲死后留有房屋1套、存款3万元和古画1幅。甲生前立有遗嘱。将房屋分给儿子乙，存款分给女儿丙，古画赠给好友丁，并要求丁帮丙找份工作。下列表述正确的有（ ）。

- A、甲的遗嘱部分有效
- B、如果丁在作出了接受遗赠的意思表示后死亡，则其接受遗赠的权利归于消灭
- C、如果丁在知道受遗赠后，2个月内没有作出接受遗赠的意思表示，视为放弃接受遗赠
- D、如果古画在交付给丁之前由乙代为保管，若保管期间意外灭失，丁无权要求乙赔偿

140、《香港特别行政区基本法》和《澳门特别行政区基本法》的规定，中央对特别行政区行使的权力包括（ ）。

- A、决定特别行政区进入紧急状态
- B、修改特别行政区的基本法
- C、制定适用于特别行政区的基本法律
- D、对特别行政区发生案件的司法终审权

141、以下对俄罗斯描述正确的是（ ）。

- A、地跨欧亚两洲
- B、北邻北冰洋，东临印度洋
- C、世界上面积最大的国家
- D、大部分城市和首都莫斯科均在欧洲

142、关于四季以下说法正确的有（ ）。

- A、南、北两个半球的季节刚好相反
- B、我国在气候上是以候平均气温作为划分四季的标准
- C、候温（五天平均气温）大于为夏季，小于为冬季，介于两者之间为春、秋季
- D、为了使天文季节与气候季节相结合，在北半球把3、4、5月划为春季，6、7、8月划为夏季，9、10、11

月划为秋季，12、1、2月划为冬季

143、下列对应关系正确的是（ ）。

- A、白马寺——洛阳
- B、灵隐寺——杭州
- C、少林寺——泉州
- D、寒山寺——苏州

144、香港自古以来就是不可分割的一部分，英国签订的不平等条约，割让香港岛、九龙新界，下列属于不平等条约的是（ ）。

- A、《南京条约》
- B、《北京条约》
- C、《天津条约》
- D、《展拓香港界址专条》

145、如果婴儿出生后保留有脐带血，那么在他生长发育过程中出现某种难治疗的疾病时，就可以通过脐带血中的干细胞来为其治病。关于干细胞技术下列说法错误的有（ ）。

- A、用脐带血中的干细胞能够治疗这个孩子所有的疾病
- B、如果要移植用他的干细胞培育出的器官，需要用到动物细胞培养技术
- C、如果要移植用他的干细胞培育出的器官，应该长期给他使用免疫抑制药物
- D、用干细胞培育出人体需要的器官用来移植治病，需要激发细胞的所有全能性

146、化学与社会、生产、生活紧密相关。下列说法不正确的是（ ）。

- A、石英只能用于生产光导纤维
- B、“地沟油”禁止食用，但可以用来制肥皂
- C、从海水中提取物质都必须通过化学反应才能实现
- D、为了增加食物的营养成分，可以大量使用食品添加剂

147、2019年智能手机将发力于两个方向，一是5G手机成为各手机厂商争抢的新赛道，二是折叠手机有望实现量产，手机厂商不断变换花样调动用户的换机热度，说明了（ ）。

- A、消费升级有助于推动供给侧结构性改革
- B、创新商品有助于刺激人们增加消费
- C、增强发展的新动力有助于改变消费方式
- D、创新产品有助于扩大市场的占有率

148、关于公文相关知识，下列说法正确的有（ ）。

- A、在不相隶属的机关或部门之间可以发请示和报告，告知相关事项
- B、知照性的决定，因内容单一，文字简短，多采用“篇段合一”的结构形式

C、在有隶属关系的上下级机关之间应使用上行文和下行文

D、公文文稿签发前应由发文机关办公厅（室）进行审核

149、在Windows操作系统下，退出PowerPoint的方法通常有（ ）。

A、按快捷键Alt+F4

B、按快捷键Ctrl+F4

C、单击“文件”菜单下的“退出”按钮

D、单击PowerPoint窗口标题栏右端的关闭按钮

七、判断题。判断正误。

150、根据《中华人民共和国统计法》全国人口普查条例规定。国务院于2021年11月1日零时，开展第10次人口普查。（ ）

151、2019年9月25日16时23分来自七家国内航空公司，七架大型客机，分别前往广州、上海、成都、延安、杭州、福建、厦门。北京大兴国际机场正式通航。（ ）

152、马克思主义哲学区别于以往一切旧哲学的基本特征是实践性。（ ）

153、为了抑制通货膨胀，国家宏观调控部门可以采取降低央行基准利率措施。（ ）

154、我国刑法中的多次盗窃是指两年内三次以上盗窃。（ ）

155、天文学上的光年，指光在真空中行走的距离，是由时间和速度计算出来的，但光年不是时间单位。（ ）

156、地球上平均海拔最高的大洲是欧洲，最低的是南极洲。（ ）

157、我国京剧脸谱色彩丰富，红色代表忠勇侠义，白色代表阴险狡诈，黑色代表凶暴残忍。（ ）

158、中国大陆首座百万千瓦级大型商业核电站是秦山核电站。（ ）

159、公文落款处标明日期是发文机关负责人签发的日期。（ ）

参考答案

1、A

本题考查时事政治。

2019年11月26日，中共中央总书记、国家主席、中央军委主席、中央全面深化改革委员会主任习近平主持召开中央全面深化改革委员会第十一次会议并发表重要讲话。他强调，党的十九届四中全会和党的十八届三中全会历史逻辑一脉相承、理论逻辑相互支撑、实践逻辑环环相扣，目标指向一以贯之，重大部署接续递进。党的十九届四中全会不仅系统集成党的十八届三中全会以来全面深化改革的理论成果、制度成果、实践成果，而且对新时代全面深化改革勾勒出更加清晰的顶层设计。

故正确答案为A。

2、B

本题考查时事政治。

2019年9月20日，习近平总书记在中央政协工作会议暨庆祝中国人民政治协商会议成立70周年大会发表重要讲话，站在党和国家事业发展全局的高度，为新时代人民政协事业发展进一步指明了方向，提供了根本遵循，在与会代表和社会各界中引起热烈反响。大家表示，新时代努力担当新使命，在建言资政和凝聚共识上双向发力，让社会主义协商民主迸发崭新活力，为实现中华民族伟大复兴中国梦汇聚磅礴力量。70年来，在中国共产党领导下，人民政协坚持团结和民主两大主题，服务党和国家中心任务，在建立新中国和社会主义革命、建设、改革各个历史时期发挥了十分重要的作用。

故正确答案为B。

3、D

本题考查时事政治。

2019年11月26日，全国政协民族和宗教委员会在京召开宗教界主题协商座谈会，围绕“以社会主义核心价值观引领各宗教对教义教规作出符合时代进步要求的阐释”座谈交流。中共中央政治局常委、全国政协主席汪洋出席会议并讲话。他强调，宗教教义教规阐释是管方向、管根本的重要基础性工作，也是各宗教自身健康发展的内在要求。要深入学习领会习近平总书记关于宗教工作的重要论述，坚持继承与创新相统一，坚持研究与运用相贯通，坚持发挥宗教界主体作用与各方面大力支持相结合，做好教义教规阐释这篇大文章，逐步形成具有中国特色、符合时代发展要求的宗教思想体系，夯实宗教与社会主义社会相适应的思想基础。

故正确答案为D。

4、C

本题考查时事政治。

2019年9月4日，中共中央印发修订后的《中国共产党问责条例》，并发出通知，要求各地区各部门认真遵照执行。

通知强调，这次修订的《条例》，全面贯彻习近平新时代中国特色社会主义思想和党的十九大精神，以党章为根本遵循，把坚决维护习近平总书记党中央的、全党的核心地位，坚决维护党中央权威和集中统一领导作为根本原则和首要任务，聚焦管党治党政治责任，坚持严字当头，针对实践中出现的问责不力、泛化简单化等问题，着力提高党的问责工作的政治性、精准性、实效性。

故正确答案为C。

5、C

本题考查时事政治。

当地时间2019年11月14日，国家主席习近平在巴西利亚出席金砖国家领导人第十一次会晤时，就当前香港局势表明中国政府严正立场。

习近平指出，香港持续发生的激进暴力犯罪行为，严重践踏法治和社会秩序，严重破坏香港繁荣稳定，严重挑战“一国两制”原则底线。止暴制乱、恢复秩序是香港当前最紧迫的任务。我们将继续坚定支持行政长官带领香港特别行政区政府依法施政，坚定支持香港警方严正执法，坚定支持香港司法机构依法惩治暴力犯罪分子。中国政府维护国家主权、安全、发展利益的决心坚定不移，贯彻“一国两制”方针的决心坚定不移，反对任何外部势力干涉香港事务的决心坚定不移。

故正确答案为 C。

6、B

本题考查时事政治。

2019 年 11 月 27 日，被香港高院裁定“违宪”的《禁止蒙面规例》（禁蒙面法）再次获得短期临时暂缓执行令。高等法院首席法官潘兆初及高等法院上诉法庭副庭长林文瀚就前裁定《禁蒙面法》违宪判决批出短期临时暂缓执行令，直至 2019 年 12 月 10 日为止。24 名泛民派议员声称对此表示失望、遗憾，认为法庭应该果断下令《禁止蒙面规例》失效。

故正确答案为 B。

7、C

本题考查时事政治。

2019 年 11 月 20 日的国务院常务会定了这三件大事：听取个人所得税改革情况汇报，确定有关税收优惠政策减轻纳税人负担；部署深化医药卫生体制改革进一步推进药品集中采购和使用，更好服务群众看病就医；通过《中华人民共和国城市维护建设税法（草案）》。会议决定，为进一步减轻纳税人特别是中低收入群体负担，暂定两年内对综合所得年收入不超过 12 万元或年度补税金额较低的纳税人，免除汇算清缴义务。会议要求加强相关政策解读，简化操作流程，优化办税服务，便利纳税人依法纳税。

故正确答案为 C。

8、A

本题考查时事政治。

2019 年 10 月 20 日至 22 日，第六届世界互联网大会在浙江乌镇举行。大会主题为“智能互联 开放合作——携手共建网络空间命运共同体”。今年大会嘉宾充分体现高规格、多元化、代表性强的特点，共有来自全球的 1500 多位政府官员、国际组织代表、顶级专家学者、企业领军人物参会。

故正确答案为 A。

9、B

本题考查时事政治。

为庆祝中华人民共和国和政协成立 70 周年，由全国政协办公厅和中央新闻纪录电影制片厂（集团）联合制作的四集文献电视专题片《初心和使命》于 2019 年 10 月 14 日至 18 日在中央广播电视总台央视播出，

综合频道 22: 40 档首播一集，次日上午在中文国际频道 9: 00 档重播。

故正确答案为 B。

10、A

本题考查时事政治。

2019 年 10 月 26 日上午，由中国外文局和日本言论 NPO 共同主办的第十五届“北京-东京论坛”在北京开幕。本届论坛主题为“新时代、新期待——中日在维护亚洲及世界和平与发展中应承担的责任”。来自中日两国社会各界的近 600 余位嘉宾和代表，共同商讨政治、外交、经贸、安全、媒体、科技等议题，为推动两国关系长期健康稳定发展凝聚共识。国务委员兼外交部长王毅、国务院新闻办公室主任徐麟、日本前首相福田康夫出席开幕式，并作了重要发言。

故正确答案为 A。

11、C

本题考查马克思主义哲学。

A 项错误，选项表述正确，但题干未体现该原理。事物发展的前途是光明的，道路是曲折的。前途是光明的，是因为新事物是符合客观规律，具有强大生命力和远大前途的事物，新事物必将战胜旧事物；道路是曲折的，是因为旧事物在开始时往往比较强大，总是顽强抵抗和极力扼杀新事物。

B 项错误，选项表述错误。应该是随着实践的深入，认识会发生变化，而不是实践随着认识变化。

C 项正确，矛盾的特殊性，即矛盾着的事物及其每一个侧面各有特点。矛盾特殊性的表现：（1）不同事物具有不同的矛盾（2）同一事物在发展的不同过程和不同阶段各有不同的特点（3）构成事物的诸矛盾以及每一矛盾的不同方面各有不同的性质、地位与作用。脱贫攻坚战从初期的全面部署、中期的全面推进、决胜的关键阶段等三个阶段的发展是不一样的，体现了同一事物在发展的不同阶段的矛盾是不一样的。

D 项错误，选项表述正确，但题干未体现该原理。矛盾的同—性，即矛盾双方相互依存、相互贯通，在一定条件下相互转化的一种趋势和联系。

故正确答案为 C。

12、B

本题考查马克思主义哲学。

A 项错误，选项表述错误，规律是客观的，无法创造。

B 项正确，马克思主义是为了改变人民历史命运而创立的，是在人民求解放的实践中形成的，也是在人民求解放的实践中丰富和发展的，为人民认识世界、改造世界提供了强大精神力量。

C 项错误，任何哲学都是世界观和方法论的统一，在马克思主义哲学产生之前便有了德国古典哲学等哲学理论，故马克思主义哲学并非是最早的哲学理论。

D 项错误，马克思主义哲学作为科学真理，具有普遍的指导意义，但并没有提供发展中国特色社会主义的

具体方法。只有马克思主义哲学同中国实际相结合，实现马克思主义中国化，才能为发展中国特色社会主义提供具体方法。

故正确答案为B。

13、D

本题考查马克思主义哲学。

A项错误，客观规律是事物运动过程中固有的、本质的、必然的、稳定的联系，独立于意识之外。客观规律不以人的意志为转移，但是可以被人们所认识和利用。人们克服困难，消除人生的阴影并未违反客观规律，反而是能动地认识和利用客观规律。

B项错误，联系具有普遍性，表现在任何事物都与周围的其他事物相互联系着。但选项并未体现题干中的因果关系，也并未体现“周围事物”。

C项错误，选项表述错误。外因是事物发展的外部条件，它是第二位的，它对事物的发展起着加速或延缓的作用，可以帮助人们解决人生的难题。

D项正确，“人生的阴影”是指人生中遇到的痛苦与失败等不如意，“是自己遮挡阳光造成的”是指这些不如意都源于自身。事物的发展是内外因共同起作用的结果，内因是事物发展的根据，它是第一位的，它决定着事物发展的基本趋向，外因是事物发展的外部条件，外因必须通过内因而起作用。这就要求我们在遇到不如意的时候，要从内因，即从自身找到解决问题、摆脱困境的有效方法，才能够走出阴影，重获阳光。

故正确答案为D。

14、D

本题考查马克思主义哲学。

A项错误，选项表述正确，但与题无关。意识对物质具有能动的反作用，正确的意识能够促进客观事物的发展，错误的意识会阻碍客观事物的发展。

B项错误，选项表述正确，但与题无关。发展的道路是曲折的，这是因为旧事物在开始时往往比较强大，总是顽强抵抗和极力扼杀新事物。

C项错误，辩证的否定是事物发展的环节，它是旧事物向新事物的转变，从旧质到新质的飞跃。只有经过否定，旧事物才能向新事物转变，是新旧事物联系的环节。本说法与题无关。

D项正确，题干L1，L2，L3，L4的不断改良，新事物的发展总要经历由不完善到比较完善的过程。

故正确答案为D。

15、B

本题考查马克思主义哲学。

A项错误，选项表述正确，但与题干无关，题干未体现实践活动。

B项正确，“伟大的诗篇”代表优秀的文化，而“喷出智慧和欢欣之水”则代表精神的丰富和愉悦，二者

共同体现了优秀的文化可以丰富人们的精神世界。

C项错误，选项表述正确，但与题干无关，优秀的文化是个人健康成长不可缺少的精神食粮，对人的全面发展起着不可替代的作用，因此，优秀的文化能增强人的精神力量。

D项错误，选项表述正确，但与题干无关，题干未体现人的认识活动。

故正确答案为B。

16、C

本题考查时事政治。

中共十九届四中全会是中共中央站在“两个一百年”奋斗目标的历史交汇点上召开的，要对坚持和完善中国特色社会主义制度、推进国家治理体系和治理能力现代化作出政治宣示。我国国家治理体系和治理能力是中国特色社会主义制度及其执行能力的集中体现。

故正确答案为C。

17、B

本题考查中国特色社会主义理论体系。

A项错误，题干的关键词是“人民”，未体现依法治国、依法行政。

B项正确，中国共产党人的初心和使命，是为中国人民谋幸福，为中华民族谋复兴。党员干部要铭记这个初心和使命，坚持立党为公、执政为民，一切工作围绕人民群众的利益，以人民群众为中心，践行全心全意为人民服务的根本宗旨。

C项错误，作风建设，是指端正党组织和党员的思想作风、工作作风和生活作风、学习作风。与题干无关。

D项错误，当前正处于决胜全面建成小康社会的关键时期，必须始终把保障和改善民生紧紧抓在手上，切实解决好民生领域的各种现实难题，为全面建成小康社会奠定坚实基础。与题干无关。

故正确答案为B。

18、A

本题考查经济法。

A项错误，根据题干，《中华人民共和国外商投资法》是由全国人大表决通过，可知立法的主体是人大，而非政府，故所以说政府科学立法错误。

B项正确，全国人大及其常委会制定立法计划、审议通过法律草案，是人民当家作主在立法程序中的体现，是符合我国依法治国理念的。

C项正确，《中华人民共和国外商投资法》第一条明确规定：“为了进一步扩大对外开放，积极促进外商投资，保护外商投资合法权益，规范外商投资管理，推动形成全面开放新格局，促进社会主义市场经济健康发展，根据宪法，制定本法。”故选项表述正确。

D项正确,《中共中央关于全面推进依法治国若干重大问题的决定》中明确指出:“坚持党的领导,是社会主义法治的根本要求,是党和国家的根本所在、命脉所在,是全国各族人民的利益所系、幸福所系,是全面推进依法治国的应有之义。”因此,坚持党对外商投资立法工作的领导,体现了社会主义法治的根本要求。

本题为选非题,故正确答案为A。

19、D

本题考查中国特色社会主义理论体系。

A项错误,为人民服务是我国政府的职责和宗旨,但这不是我国政府重视民生的根本原因。

B项错误,选项表述错误。民主具有阶级性,社会主义民主是人民享有的民主,而不是全民享有的民主,不包括破坏社会主义事业的敌人,以及因违法犯罪被剥夺政治权利的人。

C项错误,选项表述错误。我国是人民当家作主的国家,国家赋予了公民广泛的政治权利和自由,规定了公民履行应尽的政治性义务。

D项正确,政府关注民生问题的根本原因在于我国是人民民主专政的社会主义国家。社会主义的本质是解放生产力,发展生产力,消灭剥削,消除两极分化,最终达到共同富裕。而民生问题如果得不到解决,就不可能实现共同富裕。因此,政府关注民生问题是由社会主义的本质决定的。

故正确答案为D。

20、B

本题考查中国特色社会主义体系。

A项错误,选项表述正确,但与题干无关。文化对人具有深远持久和潜移默化的影响。

B项正确,八项规定属于政治性规定,随着八项规定的推进,党风政风得以改善,唤醒了党员干部的敬畏之心都属于对文化的影响。

C项错误,题干未体现“塑造健全人格”相关内容。

D项错误,题干体现的是民主政治的发展对文化的影响。

故正确答案为B。

21、B

本题考查中国特色社会主义理论体系。

我国政府坚持对人民负责的工作原则,这要求政府及国家工作人员要坚持为人民服务的工作态度,树立求真务实的工作作风,坚持从群众中来到群众中去的工作方法。

A项错误,坚持为人民服务的工作态度,就是政府及其工作人员牢固树立为人民服务、真心实意对人民负责的思想,为人民谋利益。县领导在凌晨扫大街受到群众质疑的主要原因并非是未坚持为人民服务的工作态度。

B项正确,求真务实,所谓“求真”,就是追求真理,透过现象把握本质,查明事实真相、揭示客观本质、

掌握变化规律；所谓“务实”，就是把说实话、办实事、求实效作为认识和实践的主要内容，就是付诸实践、见诸行动、取得实效。某县领导在凌晨扫大街，引起网民的强烈质疑。之所以被讽刺为作秀，就是因为没有说实话、办实事、求实效，只是为了宣传“形象”，因此这一事件体现了政府及国家工作人员必须树立求真务实的工作作风。

C项错误，加强政务信息公开是提高政府工作的透明度、建设法治政府的要求，是为了充分发挥政府对人民群众生产、生活和经济社会活动的服务作用。县领导在凌晨扫大街受到群众质疑的主要原因并非是未履行政务信息公开。

D项错误，从群众中来到群众中去的工作方法，要求政府及国家工作人员深入实际、深入基层、深入群众，在实事求是掌握民情的基础上准确地分析民意，抓住人民最关心、最直接、最现实的利益问题，办群众最需要、最受欢迎、最能得到实惠的事。县领导在凌晨扫大街受到群众质疑的主要原因并非是未坚持从群众中来到群众中去的工作方法。

故正确答案为B。

22、D

本题考查宪法。根据《监察法》第一条规定：“为了深化国家监察体制改革，加强对所有行使公权力的公职人员的监督，实现国家监察全面覆盖，深入开展反腐败工作，推进国家治理体系和治理能力现代化，根据宪法，制定本法。”

A项错误，我国的人民民主专政的最大特点是它与剥削阶级掌握的国家政权不同，对占全国人口绝大多数的人民实行民主，对极少数敌视和破坏社会主义事业的敌人实行专政。监察委员会的组建不是为了扩大人民民主专政的对象。

B项错误，居民委员会、村民委员会是居民和村民自我管理、自我教育、自我服务的基层群众性自治组织，监察委员会的组建未体现基层民主自治。

C项错误，打击犯罪主要是司法机关的职能，而非政府职能，而且政府职能应当由政府履行，监察委员会是行使国家监察职能。

D项正确，国家治理体系是在党领导下管理国家的制度体系，包括经济、政治、文化、社会、生态文明和党的建设等各领域体制机制、法律法规安排，是一整套紧密相连、相互协调的国家制度。监察委员会将村非党员基层干部的腐败问题进行立案，填补了过去对村非党员基层干部廉洁问题监管“空白区”，体现了监察委员会的组建推动了国家治理体系的不断完善。

故正确答案为D。

23、B

本题考查宪法。

A项错误，民主和专政的关系并非是根本对立的，两者是辩证统一的关系，这种辩证统一关系主要体现在

两个方面：一方面，民主与专政是相互区别的，两者适用的范围、实施方式和功能均不同。另一方面，民主与专政又是相辅相成、互为前提的，民主是专政的社会政治基础；同时，专政是民主的政治保障。

B 项正确，我国对极少数敌人实行专政。国家依法打击极少数敌对分子和敌对势力的破坏活动，依法打击各种犯罪活动，维护社会治安和社会秩序，保护国家、集体和公民的合法权益不受侵犯，保障人民民主，保卫社会主义现代化建设，都是国家专政职能的体现。腐败分子对我国的社会主义事业造成极大危害，国家推进反腐工作，利用法律严惩腐败分子，体现了国家行使专政职能。

C 项错误，新中国成立以来特别是改革开放 40 多年来，中国的立法工作取得了举世瞩目的成就，中国特色社会主义法律体系已经形成。但是完善中国特色社会主义法律体系尚未完备，依然任重道远。

D 项错误，党在社会主义初级阶段的基本路线确定了我国当前一切工作的中心是经济建设。

故正确答案为 B。

24、C

本题考查马克思主义哲学。

①正确，“其他国家也纷纷通过摄影、雕塑、论坛、影视等活动和作品反思战争、呼唤和平”，说明人们的精神活动离不开物质活动，精神产品离不开物质载体，表明了通过这些文化载体，有利于人们在潜移默化中获得正确的价值取向。

②错误，题目设问是从文化角度来看，“引导人们反对霸权强权，维护和平秩序”并非从文化角度。

③正确，通过文化活动和文化作品反思战争、呼唤和平，说明文化与政治相互影响、相互交融，表明文化反映政治并对政治产生反作用。

④错误，文化作为一种精神力量，具有相对独立性，但是本题主要强调的是文化与政治相互影响，与题意不符。

故正确答案为 C。

25、C

本题考查中国特色社会主义理论体系。

A 项错误，重大事项公示制度是决策机关将涉及公共利益的各项决策进行公示，重在满足公民的知情权，而非让市民参与民主决策。

B 项错误，专家咨询制度是指重大决策事项，在提交决策前，先交由专家进行咨询论证，从而促进政府决策的科学化、民主化和制度化。本题是市民参与民主决策，而非专家进行咨询论证。

C 项正确，在创建全国卫生城市过程中，公民利用纸笔等形式来对城市的发展提出相关的意见和建议，有关部门会根据人民群众的意愿来制定相关的决策，这是一种参与民主决策的现象，由于意见和建议是在决策之前，所以是市民通过社情民意反映制度来参与民主决策。

D 项错误，民主决策的方式有社情民意反映制度、专家咨询制度、社会公示制度、社会听证制度。舆论制

度属于民主监督的方式。

故正确答案为C。

26、C

本题考查中国特色社会主义理论体系。

A项错误，民主权利具有真实的特点体现在我国人民当家作主的权利有制度、法律和物质上的保障，随着经济发展和社会进步，广大人民的利益得到日益充分实现。题中未体现。

B项错误，社会民主具有法律保障表现了民主权利具有真实性的特点。题中未体现。

C项正确，各个民族各条战线的人大代表和政协委员中，既有德高望重的长者，也有朝气蓬勃的年轻人，这充分说明我国民主主体具有最广泛的特点。

D项错误，习近平总书记在党的十九大报告中强调：“我国社会主义民主是维护人民根本利益的最广泛、最真实、最管用的民主。”可以说，社会主义民主是人类历史上新的更高类型的民主，而中国特色社会主义民主更是具有鲜明特色和独特优势的民主，实现了对西式民主的超越。题中未体现。

故正确答案为C。

27、C

本题考查宪法。

根据《宪法》序言规定：“中国人民政治协商会议是有广泛代表性的统一战线组织，过去发挥了重要的历史作用，今后在国家政治生活、社会生活和对外友好活动中，在进行社会主义现代化建设、维护国家的统一和团结的斗争中，将进一步发挥它的重要作用。中国共产党领导的多党合作和政治协商制度将长期存在和发展。”政治协商、民主监督、参政议政是人民政协的主要职能。

A项错误，经济建设和社会建设是国务院及地方各级政府的职能，并非人民政协的职能。

B项错误，人民代表和政协委员都有提案权，政协委员享有提交议案权，正表明了人民政协履行参政议政的职能。

C项正确，参政议政是对政治、经济、文化和社会生活中的重要问题以及人民群众普遍关心的问题，开展调查研究，反映社情民意，进行协商讨论。通过调研报告、提案、建议案或其他形式，向中国共产党和国家机关提出意见和建议。政协委员们就实施“十三五规划”等关系国计民生的重大问题进行了调研，并递交了提案，这表明人民政协履行参政议政职能。

D项错误，人民政协是中国共产党领导的多党合作和政治协商的重要机构，题中强调了人民政协的参政议政职能，因此与题意不符。

故正确答案为C。

28、D

本题考查宪法。

根据《宪法》第三十六条规定：“中华人民共和国公民有宗教信仰自由。任何国家机关、社会团体和个人不得强制公民信仰宗教或者不信仰宗教，不得歧视信仰宗教的公民和不信仰宗教的公民。国家保护正常的宗教活动。任何人不得利用宗教进行破坏社会秩序、损害公民身体健康、妨碍国家教育制度的活动。宗教团体和宗教事务不受外国势力的支配。”

A项错误，我国保护公民的宗教信仰自由，但不鼓励人们信教，我国不支持、不鼓励宗教事业的发展，因此这一说法本身错误。

B项错误，题中强调国家保护正常的宗教活动，没有涉及宗教领域贯彻落实依法治国方略。

C项错误，宗教信仰从本质上说属于意识形态范畴，反映的是人们精神世界的问题，是人们的一种思想认识，并没有发生变化。

D项正确，活佛作为藏传佛教特有的活动和传承方式得到国家的尊重，宗教文化和历史定制得到批准和认同，体现了正常的宗教活动受到了国家的保护。

故正确答案为D。

29、A

本题考查中国特色社会主义理论体系。

A项正确，当前国际竞争的实质是以经济实力和科技实力为基础的综合国力的较量。2017年4月中国第一艘航母从大连造船厂正式下水，充分展现了我国综合国力的提升，符合当前国际竞争就是综合国力的较量这一辩论议题。

B项错误，国家利益是国际关系的决定性因素，题干未体现。

C项错误，近年来，我国积极倡导人类命运共同体意识，在追求本国利益时兼顾他国合理关切，题干未体现。

D项错误，独立自主是中国外交一以贯之的基本原则，题干未体现。

故正确答案为A。

30、C

本题考查中国特色社会主义理论体系。

A项错误，人民海军不仅是维护我国国家利益，也是维护世界和平的重要力量，选项说法片面。

B项错误，海军用行动证明，人民海军有信心、有能力维护国家主权、完整、安全、发展利益，这说明我国军队建设取得重大成就，国防力量不断增强。但该项未体现题干中提及的“始终致力于做世界和平与共同发展的促进者，始终致力于做海洋命运共同体构建者、维护者和贡献者”。

C项正确，海军用行动证明，人民海军有信心、有能力维护国家主权、完整、安全、发展利益，始终致力于做世界和平与共同发展的促进者，始终致力于做海洋命运共同体构建者、维护者和贡献者，体现了人民海军是维护我国国家利益和世界和平的重要力量。

D项错误，选项表述错误。中国在国际事务中，反对霸权主义和强权政治，维护世界和平，促进人类进步，推动构建人类命运共同体，推动建设持久和平、共同繁荣的和谐世界。

故正确答案为C。

31、B

本题考查行政管理。

我国的行政监督根据主体的不同分为行政体制内部监督和外部监督两大类。外部监督是指行政机关以外的权力与非权力主体对行政机关及其工作人员实施的监督，包括国家权力机关的监督、国家司法机关的监督、中国共产党组织作为执政党实施的行政监督，以及外部非权力的监督。内部监督可以划分为专门监督和非专门监督两类。内部专门监督主要是指政府专设的监督机构实施的行政监督以及各类专业性行政监督，包括行政监察、审计监督、物价监督和质量监督等；内部非专门监督包括上下层级监督和平行部门监督。

A项错误，权力机关的监督属于外部监督。

B项正确，审计部门的监督属于内部监督。

C项错误，监察机关不是行政机关，而是政治机关，监察机关的监督属于外部监督。

D项错误，司法机关的监督属于外部监督。

故正确答案为B。

32、C

本题考查宪法。

人民民主专政是我国的国体，其本质是人民当家作主。在我国，人民民主具有广泛性和真实性。广泛性不仅表现在人民享有广泛的民主权利，而且表现在民主主体的广泛性。真实性表现在人民当家作主的权利有制度、法律和物质的保障，人民能够自己管理国家，也表现在随着经济发展和社会的进步，广大人民的利益得到日益充分的实现。

A项错误，制度保障主要指通过制度来保障人民当家作主，如人民代表大会制度等，材料中未体现。

B项错误，法律保障主要指通过出台具体的法律来保障人民当家作主，材料中未体现。

C项正确，物质保障主要指从物质层面来保障人民当家作主，题干中的“民生需求”“民生水平”“聚焦贫困地区”，以及“国家财政资金”体现了这一点。

D项错误，我国人民民主没有“政治保障”这一说法。

故正确答案为C。

33、A

本题考查行政管理。我国政府的职能主要有保障人民民主和国家的长治久安、组织社会主义经济建设、组织社会主义文化建设、加强社会建设、推进生态文明建设。

A项正确，加强社会建设指政府要加快健全基本公共服务体系，保证人民学有所教、劳有所得、病有所依、

老有所养、住有所居。

B项错误，推进生态文明建设指政府要坚持节约资源和保护环境的基本国策。

C项错误，组织社会主义经济建设指政府要进行经济调节、市场监管、社会管理、公共服务，以促进社会经济发展，提高生产力水平和人民生活水平。

D项错误，组织社会主义文化建设指政府要宣传马克思主义科学理论，组织和发展科教文卫事业。

故正确答案为A。

34、B

本题考查宪法。

人大代表依法履行职责所享有的特定的行为权，包括代表在人大会议期间、闭会期间的权利以及代表执行代表职务的保障。根据宪法和有关法律规定，人大代表主要享有审议权，表决权，提名权，选举权，提出议案权，质询权，提出罢免案权，提出建议、批评、意见权，提议权，言论表决免究权，人身特别保护权，执行代表职务保障权等。

根据《宪法》第七十六条规定：“全国人民代表大会代表必须模范地遵守宪法和法律，保守国家秘密，并且在自己参加的生产、工作和社会活动中，协助宪法和法律的实施。全国人民代表大会代表应当同原选举单位和人民保持密切的联系，听取和反映人民的意见和要求，努力为人民服务。”

A项正确，开设微信公众号向选民征集各方面意见属于人大代表听取和反映人民的意见和要求，符合《宪法》规定。

B项错误，调研沿河企业，强制排污超标的企业停产整顿属于环保部门行使的执法权，人大代表没有此项权利。

C项正确，在即将召开的人代会上联名提出“关爱空巢老人”的提案属于人大代表依法行使提出议案权。

D项正确，列出水土保持中存在的问题，在人代会期间向有关人员提出质询属于人大代表依法行使质询权。

本题为选非题，故正确答案为B。

35、C

本题考查宪法。

根据宪法和有关法律的规定，公民享有言论自由等权利；人大代表享有提出建议、批评、意见权，并且应听取和反映人民的意见和要求，努力为人民服务；国务院对全国人民代表大会负责并报告工作，有根据宪法和法律，规定行政措施，制定行政法规，发布决定和命令的权利；总理领导国务院的工作。

A项错误，公民依法享有监督权，包括对国家机关及其工作人员有批评、建议、申诉、控告、检举并依法取得赔偿的权利，但是公民没有决策权。

B项错误，题干中人大代表行使提出建议权，督促政府作出调整。

C项正确，题干中政府和总理倾听人民群众的呼声，采纳人大代表的建议体现了政府以人民为中心，坚持为人民服务的工作态度。

D项错误，公民依法享有监督权，包括对国家机关及其工作人员有批评、建议、申诉、控告、检举并依法取得赔偿的权利。题干中群众的呼声通过人大代表行使提出建议权传递给政府，并未体现监督。

故正确答案为C。

36、D

本题考查马克思主义政治经济学。

货币具有价值尺度、流通手段、贮藏手段、支付手段和世界货币五大职能，其中价值尺度和流通手段是货币最基本的职能。价值尺度是指货币用来衡量和表现商品价值的职能；流通手段是指货币充当商品交换媒介的职能；贮藏手段是指货币退出流通领域充当独立的价值形式和社会财富的一般代表而储存起来的职能；支付手段是指货币作为独立的价值形式进行单方面运动（如清偿债务、缴纳税款、支付工资和租金等）时所执行的职能；世界货币是指货币在世界市场上执行一般等价物的职能。

题干中小李领到8000元工资是货币执行支付手段职能；标价为2998元的平板是货币执行价值尺度职能；最终以2898元成交是货币执行流通手段职能，顺序为④①③。

故正确答案为D。

37、D

本题考查马克思主义政治经济学。

移动支付是指移动客户端利用手机等电子产品来进行电子货币支付，移动支付将互联网、终端设备、金融机构有效地联合起来，形成了一个新型的支付体系。

A项错误，货币的本质是固定地充当一般等价物的商品，体现商品生产者之间的社会经济关系；货币具有价值尺度、流通手段、贮藏手段、支付手段和世界货币等职能，其中价值尺度和流通手段是货币最基本的职能。移动支付的普及不会改变货币的本质和基本职能。

B项错误，通货膨胀是指在货币流通条件下，因货币实际需求小于货币供给，也即现实购买力大于产出供给，导致货币贬值，而引起的一段时间内物价持续而普遍上涨的现象。移动支付的普及并不会改变货币的数量，无法避免通货膨胀的发生。

C项错误，移动支付的普及并不会改变货币的数量，不会导致央行逐步减少货币供应量。

D项正确，移动支付的普及只是商品交易方式的创新，不会影响人民币的法定货币地位。

故正确答案为D。

38、C

本题考查微观经济。

供求法则指商品需求与供给量的变化会使商品的市场价格发生变化。在其他条件不变的情况下，如果需求

增加，市场价格上升；需求减小，市场价格下降。在其他条件不变的情况下，如果供给量增加，市场价格下降；供给量减少，市场价格上升。

A 项错误，“产量越大价格越低”实现的前提是包括需求在内的其他条件都不发生变化。

B 项错误，商品的价格由价值决定，受到供给需求的影响。

C 项正确，需求弹性是指在一定时期内商品需求量的相对变动对于该商品价格的相对变动的反应程度。农产品属于生活必需品，需求弹性小，当农场主都丰收时，供大于求，价格下降，并且需求量增加的幅度小于价格下降的幅度，所以销售总收益会减少，使农场主的收入都下降。

D 项错误，劳动收益受到供需关系等多种因素的影响，不能简单归结为与劳动生产率成反比。

故正确答案为 C。

39、C

本题考查宏观经济。

财政政策是国家制定的指导财政分配活动和处理各种财政分配关系的基本准则，在现代市场经济条件下，财政政策是国家干预经济，实现宏观经济目标的工具。减税降费属于财政政策，我国提出的减税降费具体包括税收减免和取消或停征行政事业性收费两个部分。

国家进行减税降费之后，首先能够减轻企业的负担，从而激发企业的活力，最终促进企业发展，顺序为②→③→①→④。

故正确答案为 C。

40、D

本题考查微观经济。

①错误，个人消费与国家息息相关，比如，个人消费能够为国家经济发展做贡献等。

②错误，选项表述错误。物质消费用以保持人的生理健康，精神消费用于增进人的精神健康，这是两者各自的独特作用。物质生活和精神生活是人类两个方面的生活，两者都是不可缺少的，物质消费是精神消费的基础和前提，精神消费通过提高劳动者的素质，以促进生产，进一步丰富人们的物质生活。

③正确，题干指出“人们在春节期间的消费额一般达到全年消费的 $20\% \sim 30\%$ ，有的高达 $60\% \sim 70\%$ ”，这是不太合理的消费行为，家庭消费应量入为出，适度消费。

④正确，题干指出“春节期间的消费不乏‘突击消费’‘公关消费’‘人情消费’‘超前消费’等”，这些消费行为缺乏理性和科学的规划，应提高消费的科学性和合理性。

综上所述，③④正确。

故正确答案为 D。

41、C

本题考查宏观经济。人民币是我国发行的强制使用的价值符号，它代替货币执行流通手段的职能。

A 项错误，货币购买力是指单位货币购买商品或换取服务劳动的能力。在纸币流通条件下，货币购买力的高低取决于纸币发行量与货币需求量间的差距大小，纸币发行量超过经济对货币的需求量，货币购买力就会降低。国家政策会影响纸币的购买力，但纸币的购买力不是由国家提供的。

B 项错误，选项表述正确，但与题干无关。在社会商品总量一定的前提下，纸币发行过多，单位纸币代表的价值就会下降，表现为物价上涨，这时单位纸币的购买力也就下降。

C 项正确，国家有权决定纸币的面值、发行与停止流通时间，与题干意思表述一致。

D 项错误，人民币的流通，是我国国民经济、人民生活赖以维持和发展的血脉。但题干要表达的并不是人民币的重要性。

故正确答案为 C。

42、B

本题考查微观经济。

A 项错误，选项表述正确，但与题干无关。价格是影响需求最重要的因素，一般来说，价格和需求的变动成反方向变化，即价格上涨，需求下降；价格下跌，需求上升。

B 项正确，我国出现非洲猪瘟疫情后，能够上市的合格猪肉数量减少，也就是猪肉的有效供给减少，但人们对猪肉的需求量在短时间内是没有变化的，此时猪肉市场供不应求，猪肉的价格就会上涨。

C 项错误，选项表述正确，但与题干无关。价值与价格的关系：价值是价格的基础，价格是价值的货币表现。

D 项错误，选项表述错误。时间会影响价格，但不能决定价格，商品的价格是由其价值决定的。

故正确答案为 B。

43、C

本题考查微观经济。

A、B 项错误，题干强调“强化全员质量意识，不断提高产品品质”，没有体现“创新产品”和“走出去战略”相关内容。

C 项正确，马克思主义认为，人是生产力诸因素中最活跃的因素，是把社会生产中其他因素联结起来的纽带。劳动者的素质如何，决定着一个企业的发展水平。题干强调“强化全员质量意识，激励引导员工树立‘工匠精神’”，说明该企业注重提高劳动者的素质，发挥劳动者的主体作用。

D 项错误，企业不能制定中药质量国际标准，且题干说的是“推动中药标准国际化”，没有体现制定标准的意思。

故正确答案为 C。

44、B

本题考查微观经济。

A 项正确，消费对生产具有反作用，消费为生产创造出新的劳动力，能提高劳动力的质量，提高劳动者的生产积极性。

B 项错误，生产决定消费，生产决定消费的对象、方式、质量和水平，为消费创造动力。消费对生产有重要的反作用，消费拉动经济增长、促进生产发展；消费所形成的新的需要，对生产的调整和升级起着导向作用；消费为生产创造出新的劳动力，能提高劳动力的质量，提高劳动者的生产积极性。

C 项正确，消费对生产具有反作用。消费所形成的新的需要，对生产的调整和升级起着导向作用；一个新的消费热点的出现，往往能带动一个产业的出现和成长；消费为生产创造出新的劳动力。因此消费能促进经济发展和增加就业。

D 项正确，社会再生产过程包括生产、分配、交换、消费四个环节。其中，消费是社会再生产过程中的一个重要环节，也是最终环节。

本题为选非题，故正确答案为 B。

45、B

本题考查宪法。

根据《宪法》第三十五条规定：“中华人民共和国公民有言论、出版、集会、结社、游行、示威的自由。”第五十一条规定：“中华人民共和国公民在行使自由和权利的时候，不得损害国家的、社会的、集体的利益和其他公民的合法的自由和权利。”我国公民享有言论自由，但这种自由是相对的有条件的。

A 项错误，题干并未体现否认国家保护公民的政治自由。

B 项正确，公民的权利和义务是统一的，公民在享有言论自由的同时，必须遵守宪法和法律，也不能损害他人合法的、正当的权益。小李认为在朋友圈上可以随意发表自己的见解和观点，否认了公民的权利和义务是统一的。

C 项错误，我国公民享有言论自由，但这种自由是相对的有条件的，小李认为在朋友圈上可以随意发表自己的见解和观点，这种想法否定了公民的自由是相对的有条件的。

D 项错误，小李认为在朋友圈上可以随意发表自己的见解和观点，不符合我国公民享有言论自由权的有关要求。

故正确答案为 B。

46、B

本题考查法理学。

法律是由国家制定或认可并以国家强制力保证实施的，反映由特定物质生活条件所决定的统治阶级意志的规范体系。法律是统治阶级意志的体现，是建构和维护国家统治秩序的准绳。

故正确答案为 B。

47、D

本题考查刑法。

根据《刑法》第二十九条规定：“教唆犯。教唆他人犯罪的，应当按照他在共同犯罪中所起的作用处罚。教唆不满十八周岁的人犯罪的，应当从重处罚。如果被教唆的人没有犯被教唆的罪，对于教唆犯，可以从轻或者减轻处罚。”本题中，赵某教唆李某杀死王某，但李某没有杀死王某，反而强奸了王某的妻子。被教唆人李某没有犯被教唆的罪，因此教唆犯赵某可以从轻或者减轻处罚。

故正确答案为D。

48、A

本题考查刑法。

根据《刑法》第二十条规定：“正当防卫，为了使国家、公共利益、本人或者他人的人身、财产和其他权利免受正在进行的不法侵害，而采取的制止不法侵害的行为，对不法侵害人造成损害的，属于正当防卫，不负刑事责任。正当防卫明显超过必要限度造成重大损害的，应当负刑事责任，但是应当减轻或者免除处罚。对正在进行行凶、杀人、抢劫、强奸、绑架以及其他严重危及人身安全的暴力犯罪，采取防卫行为，造成不法侵害人伤亡的，不属于防卫过当，不负刑事责任。”

A项正确，甲拿擀面杖打乙，擀面杖的威力并不会严重危及乙的人身安全，但是乙却掏出猎枪将甲打死，明显超过必要限度造成了重大损害，因此乙的行为属于防卫过当，应当负刑事责任。

B项错误，菜刀严重危及人身安全，乙加以还击，属于正当防卫。

C项错误，对正在进行行凶、杀人的暴力犯罪，采取防卫行为，造成不法侵害人伤亡的，不属于防卫过当，不负刑事责任。

D项错误，乙虽然拿枪打甲，但甲及时逃跑了，因此乙的行为并没有造成重大损害，不属于防卫过当。

故正确答案为A。

49、D

本题考查刑法。

根据《刑法》第十七条之一规定：“已满七十五周岁的人故意犯罪的，可以从轻或者减轻处罚；过失犯罪的，应当从轻或者减轻处罚。”

故正确答案为D。

50、A

本题考查民法。

A项正确，根据《专利法》第二十五条规定：“对下列各项，不授予专利权：（四）动物和植物品种，对前款第（四）项所列产品的生产方法，可以依照本法规定授予专利权。”A项为植物新品种的生产方法，因而可以按照法律规定授予专利权。

B项错误，根据《专利法》第二十五条规定：“对下列各项，不授予专利权：（三）疾病的诊断和治疗方

法。”

C项错误，根据《专利法》第五条规定：“对违反法律、社会公德或者妨害公共利益的发明创造，不授予专利权。”

D项错误，根据《专利法》第二十五条规定：“对下列各项，不授予专利权：（六）对平面印刷品的图案、色彩或者二者的结合作出的主要起标识作用的设计。”

故正确答案为A。

51、C

本题考查人文历史。

文艺复兴是14世纪中叶至16世纪在欧洲发生的思想文化运动。其本质是新兴资产阶级在复兴希腊罗马古典文化的名义下发起的弘扬资产阶级思想文化的反封建的新文化运动。其核心是人文主义，即以人为中心而不是以神为中心，肯定人的价值和尊严；主张人生的目的是追求现实生活中的幸福，倡导个性解放，反对愚昧迷信的神学思想，认为人是现实生活的创造者和主人。

A项错误，米开朗基罗的《哀悼基督》属于文艺复兴时期的作品，赞颂人文主义，强调以人为中心而不是以神为中心。

B项错误，米开朗基罗的《哀悼基督》重在强调以人为中心，并未体现人体缺陷。

C项正确，作品《哀悼基督》中，米开朗基罗一反传统，表现圣母哀痛爱子的模式，将圣母刻画得宁静与柔美，赞颂了人文主义理想，体现了人性在艺术造型中的觉醒。

D项错误，米开朗基罗的《哀悼基督》中圣母是容貌端庄的母亲，洋溢着人类最伟大最崇高的母爱的感情，体现了造型艺术开始从神殿走向世俗。

故正确答案为C。

52、B

本题考查人文历史。

尽管霍布斯构造了一套关于“个人-契约-国家”的学说，但他的结论是“利维坦式”的国家，公然为君主制辩护，他试图用君主制来维护资产阶级的利益，从本质上而言，它反映了英国大资产阶级和上层新贵族对人民的恐惧和防范。

A项错误，主权在民是由卢梭提出的，他认为一个民主的政府必须把权力完全交给这个国家的全体公民，然后再由全体公民把权力赋予给一个组织，即民选政府。

B项正确，题干中国“主权者的权威是至上的，一切法律来自主权者的认可和宣布”表明，当权者的权威和权力是至高无上、不容质疑的，具有专制主义的色彩。

C项错误，共和主义理念是指认定政治权威最终来自人民同意的原则，拒绝接受君主和王朝统治原则。

D项错误，卢梭的社会契约论，核心观点是强调国家的主权在人民，政府只是人民的受托方、法律的执行

者，是统治者与被统治者的一种契约。霍布斯为君主制辩护，与社会契约论相悖。

故正确答案为B。

53、A

本题考查人文历史。

A项正确，根据题干中“自从台湾同祖国不幸分离以来，我们之间音讯不同，来往断绝·····近三十年的分离是人为的·····”可以得知这段话出自1979年《告台湾同胞书》。1979年1月1日，全国人民代表大会常务委员会发表了《告台湾同胞书》，郑重宣示了争取祖国和平统一的大政方针，提出了结束军事对峙状态，实现两岸同胞自由往来、通航通邮通商和开展经济文化交流等重要主张。

B项错误，1992年，海峡两岸关系协会与台湾海峡交流基金会在两岸事务性商谈中就各自以口头方式表述“海峡两岸均坚持一个中国原则”达成共识，后被称为“九二共识”。

C项错误，1995年1月30日，江泽民同志在中共中央台办、国务院台办等单位举办的新春茶话会上，发表题为《为促进祖国统一大业的完成而继续奋斗》的讲话。江泽民在这一讲话中，就现阶段发展两岸关系，推进祖国和平统一进程的若干重要问题提出了八项看法和主张。

D项错误，2005年4月29日，胡锦涛在北京同中国国民党主席连战举行正式会谈。会后双方共同发布《两岸和平发展共同愿景》，这是60年来国共两党主要领导人首次会谈。

故正确答案为A。

54、D

本题考查人文历史。

A项错误，1921年7月23日，中国共产党第一次全国代表大会在上海召开，宣告了中国共产党的诞生。题干强调“国际社会主义运动在20世纪20年代之前的发展特点·····”所指的时间为1920年之前。

B项错误，习近平主席在《学习马克思主义基本理论是共产党人的必修课》的讲话中指出：“1871年爆发的巴黎公社革命，是推翻资产阶级统治、建立由人民当家作主政权的第一次伟大尝试。”因此，巴黎公社的建立符合“由理论到实践”的特点。

C项错误，1848年《共产党宣言》的发表标志着马克思主义的诞生，开辟了国际工人运动和社会主义运动的新局面，为无产阶级和全人类打开了通向未来的大门，为人的全面发展和全人类解放指明了路径，成为世界无产阶级的锐利思想武器。《共产党宣言》是第一部较为完整而系统地阐述科学社会主义基本原理的伟大著作，是马克思主义的百科全书；是马克思主义哲学、政治经济学、科学社会主义、党的建设思想的集中体现。因此，《共产党宣言》的发表符合“由空想到科学”的特点。

D项正确，习近平主席在《学习马克思主义基本理论是共产党人的必修课》的讲话中指出：“1917年11月，列宁领导十月革命取得成功，在资本主义最薄弱的链条上打开了一个缺口，建立了世界上第一个社会主义国家，实现了社会主义从理论到实践的伟大飞跃。”因此，十月革命的胜利符合“由理想到现实”的特点。

故正确答案为D。

55、C

本题考查人文历史。

①波旁王朝复辟时期：1814年3月，反法联军进入巴黎。经过与联军谈判，5月，亡命国外的路易十六的弟弟在联军的保护下登上法国王位，称为路易十八，波旁王朝复辟，开始了长达15年的复辟王朝统治。

②七月王朝时期：奥尔良王朝是1830年至1848年统治法国的君主立宪制王朝，因国王路易·菲利普出自奥尔良家族而得名，又称七月王朝，始于1830年法国七月革命，1848年法国二月革命后被法兰西第二共和国取代。

③雅各宾派专政时期：1793年6月2日，雅各宾派推翻吉伦特派统治，通过救国委员会实行专政。1794年春，罗伯斯庇尔先后将埃贝尔派和丹东派主要成员送上断头台，雅各宾派内部矛盾更加尖锐。7月27日的热月政变结束了雅各宾派政权。

④督政府时期：督政府是法国大革命时期根据1795年宪法（又称共和三年宪法）建立的政府。1795年热月党人于10月解散国民公会，11月3日成立新的政府机构督政府。它标志着政权从资产阶级激进民主派手中转到资产阶级温和派手中。

因此，正确排序为③④①②

故正确答案为C。

56、D

本题考查人文历史。

A项错误，生态环境保护是功在当代、惠及子孙的伟大事业和宏伟工程。坚持不懈地搞好生态环境保护是保证经济社会健康发展，实现中华民族伟大复兴的需要。该选项与题干无关，排除。

B项错误，民族区域自治制度是中国政府解决民族问题采取的一项基本政策，也是中国的一项重要政治制度。民族区域自治是在国家的统一领导下，各少数民族聚居的地方实行民族区域自治，设立自治机关，行使自治权，使少数民族人民当家作主，自己管理本自治地方的内部事务。题干未涉及民族区域自治，排除。

C项错误，中国各少数民族都有自己的风俗习惯，表现在服饰、饮食、居住、婚姻、礼仪、丧葬等多方面。国家尊重少数民族的风俗习惯，少数民族享有保持或改革本民族风俗习惯的权利。题干未涉及少数民族的风俗习惯，排除。

D项正确，归绥、迪化是旧中国中央政府对少数民族地区的带有一定征服心态的称呼，具有强烈的大汉族主义色彩，新中国改称呼是切实贯彻各民族平等原则的体现。在中国，各少数民族作为中华民族大家庭的平等一员，具有同等的地位。

故正确答案为D。

57、A

本题考查人文历史。

A 项正确，1931 年 9 月 18 日，日本关东军炮轰中国东北军驻地北大营，次日攻占沈阳，并相继占领东三省。九一八事变成为中国人民抗日战争的起点，揭开了世界反法西斯战争的序幕。题干中“1933 年该馆出版了新的历史教科书，书名冠以‘复兴’二字”，而九一八事变发生的时间为 1931 年，发生在该馆出版新的历史教科书之前，而“复兴”二字也紧扣当时反侵略的时代背景，故与之相关。

B 项错误，西安事变，又称“双十二事变”。1936 年 12 月 12 日张学良和杨虎城为了达到劝谏蒋介石改变“攘外必先安内的”的既定国策，停止内战，一致抗日的目的，在西安发动“兵谏”。题干中“上海商务印书馆于 1933 年该馆出版了新的历史教科书”，而西安事变发生的时间为 1936 年，故排除。

C 项错误，卢沟桥事变，又称七七事变，发生于 1937 年 7 月 7 日，是日本全面侵华开始的标志，是中华民族进行全面抗战的起点。题干中“1933 年该馆出版了新的历史教科书”，而卢沟桥事变发生的时间为 1937 年，故排除。

D 项错误，1937 年 12 月 13 日，侵华日军在中国南京开始实施长达四十多天惨绝人寰的大屠杀，制造了震惊中外的南京大屠杀惨案，三十多万人惨遭杀戮。题干中“1933 年该馆出版了新的历史教科书”，而南京大屠杀发生的时间为 1937 年，故排除。

故正确答案为 A。

58、A

本题考查人文历史。

A 项正确，题干中“城邦为他们树立墓碑，刻上所有牺牲者的名字，但并不写明他们的家世”说明古希腊城邦对于牺牲士兵的尊重与其家世无关，这些牺牲士兵在公共墓地没有阶级之分，旨在强调城邦公民的平等性。

B、C、D 项在题干中均未体现，故排除。

故正确答案为 A。

59、C

本题考查科技常识。

A 项错误，地龙又名蚯蚓，是我国重要的中药材之一。龙骨，中药名，为古代哺乳动物如象类、犀牛类、三趾马等的骨骼化石。地龙属于动物类药，龙骨属于矿物类药。

B 项错误，决明子，中药名，是豆科植物决明或小决明的干燥成熟种子，属于植物类药。牛黄，中药名，为牛科动物黄牛或水牛的胆囊、胆管或肝管中的结石，属于动物类药。

C 项正确，田七又名三七，中药名，为五加科植物三七的干燥根及根茎，具有化瘀止血、活血定痛的功效。茯苓，中药名，为多孔菌科真菌茯苓的干燥菌核。田七和茯苓都属于植物类药。

D 项错误，阿胶，中药名，为马科动物驴的皮去毛后熬制而成的胶块。蝉衣，中药名，为蝉科昆虫黑蚱羽

化后的蜕壳。阿胶和蝉衣都属于动物类药。

故正确答案为 C。

60、C

本题考查人文历史。

A 项错误，传统观念有先进和落后之分，只有优秀的传统观念才能助推传统建筑的发展，该说法片面，故排除。

B 项错误，唯物史观认为，人民群众是社会物质财富和精神财富的创造者。传统建筑是精神财富的物质载体，但题干并未强调创造精神财富的主体，而是强调物质载体与精神文化之间的关系，故排除。

C 项正确，四合院是我国传统住宅建筑的代表，蕴含着深刻的文化内涵，是中华传统文化的载体。四合院的房屋布局中所体现中国封建社会的人伦礼节说明通过传统建筑能够透视传统文化。

D 项错误，题干中所体现的是中华传统文化对于传统建筑的影响，跟社会地理环境无关，故排除。

故正确答案为 C。

61、C

本题考查国情省情。

A 项错误，2018 年末，我国约有 13.95 亿人，是目前世界上人口最多的国家。印度约有 13.53 亿人，是第二人口大国。美国约有 3.27 亿人，是世界第三人口大国。

B 项错误，我国人口分布呈现出东南部稠密、西北部稀疏的特点，主要原因有：自然条件方面，西部地区多山地和高原，降水少，比较干旱，较东部地区而言不适合人类居住；社会经济上，西北部地区气候干旱，耕地较少，农业经济不如东部地区发达，造成人口稀疏。人口的东移南迁导致西北部人口更加稀疏。

C 项正确，我国实施计划生育政策，降低人口自然增长率，是“世界 70 亿人口日”推迟 5 年的主要原因，为其他发展中国家解决人口与发展问题作出了表率，树立了负责任人口大国的良好形象。

D 项错误，计划生育政策是我国的基本国策，该政策的实施，有效控制了人口过快增长，缓解了人口对资源环境的压力，对提高妇女地位、促进优生优育、提高妇女儿童的健康水平都有重要意义，不仅仅是为了控制人口数量。

故正确答案为 C。

62、D

本题考查科技常识。

A 项正确，经线，又叫子午线，是人类为度量方便而假设出来的辅助线，为地球表面连接南极和北极的半圆弧。

B 项正确，任意两根经线的长度都是相等的，指示地球表面的南北方向，且在南极和北极相交。

C 项正确，1884 年召开的国际子午线会议决定，将经过英国格林尼治天文台的经线作为时间和经度计量的

标准参考经线，称为本初子午线。

D项错误，国际上习惯用西经 20° 和东经 160° 这两条经线组成的经线圈，作为划分东、西半球的界线。因为这个经线圈基本上是从海洋通过，避免了以 0° 和 180° 经线划界，将一个大陆或一个国家分隔在两个半球上的情况。

本题为选非题，故正确答案为D。

63、D

本题考查科技常识。

风化作用指的是地球表面的岩石受太阳辐射、温度变化以及氧气、水和生物等作用，发生化学性质改变与元素迁移的过程。风化作用按其动力学特征，分为物理风化、化学风化和生物风化。

A项正确，物理风化是指岩石发生物理疏松崩解等机械破坏，一般不引起化学成分的改变。主要原因有卸荷剥离作用、热力风化作用、冻融风化、盐风化作用等。

B项正确，化学风化是指大气和水引起的氧化、溶解、水解、水化等对岩石的分解破坏过程。主要原因有溶解作用、水化作用、水解作用、碳酸化作用和氧化作用等。

C项正确，生物风化是指生物的生命活动引起的岩石破坏过程。生物通过生物物理风化和生物化学风化，对岩石进行生物风化。生物的物理破坏是指植物根部在岩石裂隙中生长，迫使裂隙扩大，引起岩石崩解的过程；生物的化学破坏是生物通过新陈代谢及其遗体腐烂后对岩石进行分解的过程。

D项错误，风化作用不包括“腐蚀风化”。

本题为选非题，故正确答案为D。

64、C

本题考查国情省情。

A项正确，泰山，位于中国山东省中部，古称“东岳”，有“五岳独尊”“天下第一山”的美誉。杜甫在《望岳》中提到“岱宗夫如何？齐鲁青未了。”指的就是泰山。

B项正确，嵩山是“五岳”之“中岳”，位于河南省西部，地处登封市西北部。嵩山拥有“五代同堂”的地质奇观，被誉为“天然地质博物馆”“地学百科全书”。

C项错误，华山为“五岳”中的“西岳”。位于陕西省渭南市华阴市，南接秦岭，北瞰黄渭，有“奇险天下第一山”的说法。华山之得名，据清代国学大师章太炎和历代专家学者考证：“华夏民族最初形成并居住于‘华山之周’，名其国土曰‘华’，其后人迹所至，遍及九州，华之名始广。”

D项正确，衡山为“五岳”中的“南岳”，在湖南省中部的衡阳市南岳区境内，主峰为祝融峰。素以“五岳独秀”“文明奥区”“祭祀灵山”“宗教圣地”“中华寿岳”著称于世。

本题为选非题，故正确答案为C。

65、B

本题考查科技常识。

A 项错误，火星受到太阳引力的影响，沿着椭圆形轨道环绕太阳运行。火星表面发现液态水活动的证据不能推断出火星公转轨道为椭圆形。

B 项正确，液态水为生命之源，一般以是否存在液态水作为判断某个星球上是否存在生命的条件。火星表面发现了有液态水活动的证据，对推断火星上可能存在生命具有重要意义。

C 项错误，火星自转周期并不长，与地球相近，其自转一周为 24 小时 37 分 22.6 秒。火星表面发现液态水活动的证据不能推断出火星自转周期比地球长。

D 项错误，火星大气层稀薄，主要是由遗留下的二氧化碳加上氮气、氩气、微量的氧气和水汽。火星大气层稀薄主要是因为火星的质量太小，引力不足以束缚大气层中的分子；磁场薄弱导致大气层中的空气流失等。

故正确答案为 B。

66、A

本题考查科技常识。

低温症，指身体长时间处在低温环境时，由于热量流失速度快于身体产热速度，从而出现器官功能异常甚至危及生命的体温过低状态。

A 项错误，在帮助低温症患者时，可以使用热水袋装些温水，升高患者的体温。但只能用热水袋对头颈、胸部、腹部加热，不能对四肢加热。对四肢加热会使低温的血液回流到心脏、大脑，使身体核心温度下降，甚至致命。

B 项正确，因患者身上的湿衣服会带走患者的热量，应轻柔地帮助患者脱掉或剪掉湿衣服。过程中，动作应当轻柔，过于剧烈的动作可能导致患者心脏骤停。

C 项正确，严重的低温症患者可能出现心跳、呼吸骤停。如果发现患者呼吸停止或很微弱、即将停止时，应对患者进行心肺复苏。

D 项正确，当发现有人出现低温症的症状时，应立刻拨打 120。在急救人员到达之前，不要让患者躺在地面上，可以用毯子或者衣服盖住患者，帮助取暖，也可以用身体帮助患者取暖。

本题为选非题，故正确答案为 A。

67、A

本题考查科技常识。

A 项正确，过量饮水导致人体细胞肿胀后，用静脉滴注高浓度盐水，盐水中的钠离子使细胞外液渗透压升高，促使细胞内水分渗透出来，达到治疗的效果。

B 项错误，抗利尿激素是由下丘脑的视上核和室旁核的神经细胞分泌的 9 肽激素。其主要作用是提高远曲小管和集合管对水的通透性，促进水的吸收，是尿液浓缩和稀释的关键性调节激素。

C、D 项错误，用静脉滴注高浓度盐水，细胞外液渗透压升高，促进细胞内水分向外渗透，从而升高了细

胞内液的离子浓度，增加了细胞外液的液体总量。

故正确答案为 A。

68、D

本题考查科技常识。

中国航天事业发展史有三个里程碑：人造地球卫星上天，载人航天飞行，月球探测工程。

这三个里程碑分别以“东方红一号”卫星发射成功、神舟五号载人飞船上天、“嫦娥一号”月球探测器发射为重要标志。1970年4月24日，首颗人造地球卫星“东方红一号”升空。一曲“东方红”，宣告中国进入航天时代；2003年10月15日，杨利伟搭乘“神舟五号”飞船成功往返太空，成为首位叩访太空的中国航天员；2007年10月24日，中国首颗月球探测器“嫦娥一号”准确入轨，实现了中华民族千年奔月的梦想。

故正确答案为 D。

69、D

本题考查科技常识。

水银温度计和酒精温度计都是利用液体的热胀冷缩性质制成的温度计。水银的凝固点是零下 39°C ，酒精的凝固点是零下 113.5°C ，水银的凝固点比酒精的凝固点高，在零下 53.2°C 的情况下，水银已经凝固。因此黑龙江北部地区只能使用酒精温度计而不能使用水银温度计。

故正确答案为 D。

70、A

本题考查科技常识。

导体是指电阻率很小且易于传导电流的物质。导体中存在大量可自由移动的带电粒子。在外电场作用下，带电粒子做定向运动，形成明显的电流。判断物体是否为导体，主要看该物体是否存在能够做有规则定向运动的带电粒子。

A项错误，石墨是碳元素的一种同素异形体，每个碳原子的周边连结着另外三个碳原子，排列方式呈蜂巢式的多个六边形。由于每个碳原子均会放出一个电子，这些电子能够自由移动，使石墨能够导电，成为导体。

B项正确，酸碱溶液能够导电，是因为溶液内含有自由离子，这些自由离子能够做有规则的定向运动。

C项正确，金属能够导电，是因为金属中有可以自由移动的电子，这些电子能够做有规则的定向运动。

D项正确，人是一个复杂的导体，人体内含有大量的水分和矿物质，因此有能够做有规则定向运动的带电粒子，从而可以导电。

本题为选非题，故正确答案为 A。

71、D

本题考查公文的基本知识。

A项错误，根据《党政机关公文格式》第7.2.3条规定：“紧急程度 如需标注紧急程度，一般用3号黑

体字，顶格编排在版心左上角；如需同时标注份号、密级和保密期限、紧急程度，按照份号、密级和保密期限、紧急程度的顺序自上而下分行排列。”

B项错误，根据《党政机关公文格式》第7.1条规定：“公文格式各要素的划分 本标准将版心内的公文格式各要素划分为版头、主体、版记三部分。公文首页红色分隔线以上的部分称为版头；公文首页红色分隔线（不含）以下、公文末页首条分隔线（不含）以上的部分称为主体；公文末页首条分隔线以下、末条分隔线以上的部分称为版记。”

C项错误，根据《党政机关公文格式》第1条规定：“本标准规定了党政机关公文通用的纸张要求、排版和印制装订要求、公文格式各要素的编排规则，并给出了公文的式样。”第5.2.3条规定：“行数和字数 一般每面排22行，每行排28个字，并撑满版心。特定情况可以作适当调整。”行距没有具体要求，个别要素也可根据特定情况作出调整。

D项正确，公文格式是公文的表现形式，公文格式的规范性是公文的权威性、严肃性和约束力在公文形式上的具体体现。

故正确答案为D。

72、A

本题考查公文的基本知识。

根据《党政机关公文处理工作条例》第九条规定：“公文一般由份号、密级和保密期限、紧急程度、发文机关标志、发文字号、签发人、标题、主送机关、正文、附件说明、发文机关署名、成文日期、印章、附注、附件、抄送机关、印发机关和印发日期、页码等组成。……（五）发文字号。由发文机关代字、年份、发文顺序号组成。联合行文时，使用主办机关的发文字号。……”

故正确答案为A。

73、D

本题考查公文的基本知识。

A项正确，根据《党政机关公文处理工作条例》第十五条规定：“向上级机关行文，应当遵循以下规则：（一）原则上主送一个上级机关，根据需要同时抄送相关上级机关和同级机关，不抄送下级机关……”

B项正确，根据《党政机关公文处理工作条例》第十五条规定：“向上级机关行文，应当遵循以下规则：……（四）‘请示’应当一文一事。不得在报告等非请示性公文中夹带请示事项。……”

C项正确，根据《党政机关公文处理工作条例》第十五条规定：“向上级机关行文，应当遵循以下规则：……除上级机关负责人直接交办事项外，不得以本机关名义向上级机关负责人报送公文，不得以本机关负责人名义向上级机关报送公文。……”

D项错误，根据《党政机关公文处理工作条例》第八条规定：“公文种类主要有：……（十）报

告。适用于向上级机关汇报工作、反映情况，回复上级机关的询问。（十一）请示。适用于向上级机关请求指示、批准。· · · · · ·”因此，请求上级单位支持解决的事项应写在“请示”里面，报告上级单位知晓的事项应写在“报告”里面。

本题为选非题，故正确答案为D。

74、C

本题考查计算机基础知识。

A项错误，编译程序，也称为编译器，是指把用高级程序设计语言书写的源程序，翻译成等价的机器语言格式目标程序的翻译程序，属于工具软件。

B项错误，操作系统是管理计算机硬件与软件资源的计算机程序，同时也是计算机系统的内核与基石，提供一个让用户与系统交互的操作界面。操作系统是系统软件。

C项正确，教务系统管理平台充分利用互联网络B/S管理系统模式，以网络为平台，为各个学校教务系统的管理提供一个平台，帮助学校管理教务系统，用一个帐号解决学校教务教学管理，并且学校可以自由选择学校需要的教务管理系统，灵活地定制符合学校自己实际情况的教务系统。教务管理系统属于应用软件。

D项错误，汇编程序是指把汇编语言书写的程序翻译成与之等价的机器语言程序的翻译程序。汇编语言是为特定计算机或计算机系列设计的一种面向机器的语言，由汇编执行指令和汇编伪指令组成。汇编语言程序属于工具软件。

故正确答案为C。

75、A

本题考查计算机基础知识。

A项错误，在Windows中，文件名最长可以使用255个字符。

B项正确，在Windows操作系统中，文件命名可以使用扩展名，也可以使用多间隔符的扩展名，但其文件类型由最后一个扩展名决定。

C项正确，在Windows操作系统中，文件命名不允许使用大于号、小于号、问号、冒号等符号。

D项正确，在Windows操作系统中，文件名除了开头之外任何地方都可以使用空格。

本题为选非题，故正确答案为A。

76、D

本题考查计算机基础知识。

计算机操作系统是管理计算机硬件与软件资源的计算机程序，同时也是计算机系统的内核与基石。操作系统需要处理如管理与配置内存、决定系统资源供需的优先次序、控制输入设备与输出设备、操作网络与管理文件系统等基本事务。操作系统也提供一个让用户与系统交互的操作界面。

故正确答案为D。

77、D

分析可知，此处是针对“中华文化‘走出去’”的报道选一个合适的标题，应体现中华文化“走出去”的特点，D项“文化交流”、“传播中华文化”契合“中华文化‘走出去’”的主题，当选。

A项，世界文化本身是多样的、多元化的，选项中“推动世界文化逐步趋向同一”表述错误，排除。

B项的“教育”指针对的是“孔子学院”，而《媳妇的美好时代》、“皖风徽韵美洲行”等突出的是文化的感染力和共鸣，并没有体现“教育”，排除。

C项“文化传承”不是针对“中华文化‘走出去’”的，而是侧重自身文化发展，排除。

故正确答案为D。

78、C

文段首句提到，“天津市有非常丰富的传统美食”，所以标题应该首先突出天津美食的丰富性，C项“博大精深”形容文化、学识、理论、作品等广博高深，符合文意，并且世界各地饮食各不相同，需要“求同存异，相互尊重”，才能进行交流，所以C项适合作为此次文化交流的标题。

A项错误，此次活动旨在展示自身的传统美食，没必要进行“协商”，“平等协商”与文意不符，排除。

B、D项错误，“推陈出新”指对旧的文化进行批判地继承，剔除其糟粕，吸取其精华，创造出新的文化。而此次文化交流旨在宣传、弘扬天津的传统美食，而非推翻旧的东西，并且文段也没有体现创新，故“推陈出新”不符合文意，排除。

故正确答案为C。

79、D

A项，“府上”是指对别人的家或老家的尊称，此处可以改为“寒舍”，排除。

B项，主客倒置，句中的“人大代表”即代表全市人民，所以市长对人大代表说“我代表全市人民·····”不得体，排除。

C项，书面语和口语混杂，“凡参加此次征文活动者”为书面用语，“·····就任你挑上一本了”为口语，故不得体，排除。

D项，“令尊”“令弟”“令郎”用来表示对别人亲属的尊敬，得体，当选。

故正确答案为D。

80、C

A项，“已将您生命焚尽”表示人已逝世，由“发给父亲的短信”可推知“父亲”并未逝世，所以不得体，排除。

B项，“责成学校领导研究落实”不得体，学生会无权“责成”学校领导做某事，排除。

C项，情景得体。

D项，“忽如一夜春风来，千树万树梨花开”出自岑参的《白雪歌送武判官归京》，是用来形容雪而非梨

花，排除。

故正确答案为C。

81、B

对比选项确定首句，首句分别是①和②句。观察首句，①句“大而言之”的“之”无指代对象，②句“但”开头，关联词的后半部分不适合放在首句，因此这两句均不符合常规题中的首句特征，从其它地方找解题突破口。观察句子，④句的“小而言之”与①句的“大而言之”相对，且④句的“小而言之”的“之”有指代对象，即“他对于我的热心的希望，不倦的教诲”，所以④句应排在①句之前，两句捆绑，语序为④①，排除A、C、D项。

故正确答案为B。

【文段出处】《藤野先生》

82、A

观察首句，①句有指代词“这些”，若置于首句则指代不明，故不适合作为首句，排除B、D项。比较A、C项，②句的位置不同，②句“我们可以设定初始条件”，恰与③句的“我们可以选择”句式相同，且均强调我们的控制权多，与④句“但是在此之后，我们的控制权就少的可怜了”构成转折，所以②句应置于④句之前，③②捆绑，排除C项。

故正确答案为A。

【文段出处】《〈人工智能时代〉思享录》

83、B

观察选项，以①、③两句开头，分析内容无法判定首句。寻找其他解题线索，分析给定句子，⑤句强调我们党面临的问题，④句是针对问题给出的对策，所以⑤句应在④句之前，排除A、C项。比较B、D项，②、③两句的先后顺序不一致。③句提出观点，强调政党、政权的前途命运取决于人心向背，②句给出对策，指出要根据人民群众的反对和痛恨之处进行防范和纠正，所以此两句的顺序为③②，排除D项。

故正确答案为B。

【文段出处】《习近平在中国共产党第十九次全国代表大会上的报告》

84、C

观察选项，以①、⑥两句开头，①句有指代词“那里”，若置于首句则指代不明，故不合作首句，排除B、D两项。A、C两项中，①句之前为②、⑤句，分析可知，①句的“那里”指的是⑤句的“红堡”，所以⑤①捆绑，排除A项。

故正确答案为C。

【文段出处】《冰与火之歌系列之〈权力的游戏〉》

85、D

观察选项，以③、⑥两句开头，③句阐述公（关羽）令佗（华佗）割，⑥句阐述佗（华佗）提示公（关羽）要开始割了，按照事情发展先后顺序，应先提出让“佗”割，然后“佗”才能提示“公”要开始了，因此③句应在⑥句之前，排除 A、C 项。再对比 B、D 项，分别是③④①和③④⑥的顺序，故需要对比①和⑥的顺序，看①句，阐述割肉刮骨的具体过程，而⑥句时提示“公”要开始了，应该是先提示后又具体的过程，所以①应置于⑥句之后，排除 B 项。

故正确答案为 D。

【文段出处】《三国演义》

86、A

根据平方差公式 $(a-b)(a+b) = a^2 - b^2$ ，原式 = $2019 \times 2019 - (2019 + 1) \times (2019 - 1)$
 $= 2019^2 - (2019^2 - 1) = 1$ 。

故正确答案为 A。

87、A

$\frac{10}{3} \approx 3.33$ ， $\pi \approx 3.14$ ， $\sqrt{10} \approx 3.16$ ， $\frac{10}{3}$ 最大。

故正确答案为 A。

88、C

设有 x 只蜘蛛、 y 只蜻蜓、 z 只蝉。根据三个昆虫共 18 只可得： $x + y + z = 18 \dots\dots\dots ①$ ，根据共有 118 只脚可得： $8x + 6y + 6z = 118 \dots\dots\dots ②$ ，根据共 20 对翅膀可得： $2y + z = 20 \dots\dots\dots ③$ 。联立这三个方程可解得： $x = 5$ ， $y = 7$ ， $z = 6$ 。

故正确答案为 C。

89、B

倒出了 60 克酒精溶液，是原溶液 120 克的一半，因此，溶质也倒出了一半，那么，烧杯里还剩下原来溶质的一半；此时再加入 60 克海水，则溶液质量还是和原来一样。因为溶质剩下原来的一半，而溶液没有变化，因此浓度就变成原来的一半。重复以上步骤两次，而每次都是浓度变成原来的一半。整个过程一共是三次，因此最终烧杯中酒精溶液浓度为 $80\% \times \frac{1}{2} \times \frac{1}{2} \times \frac{1}{2} = 10\%$ 。

故正确答案为 B。

90、D

这批背包共 100 件，大号和小号各占一半，即大号 50 件、小号 50 件。15% 是黑色的，85% 是蓝色的，即黑色有 15 件、蓝色有 85 件。其关系如下表所示：

	大号	小号	总计
黑色	10	①	15
蓝色		②	85
总计	50	50	100

则小号黑色① = $15 - 10 = 5$ 件，小号蓝色② = $50 - 5 = 45$ 件。

故正确答案为D。

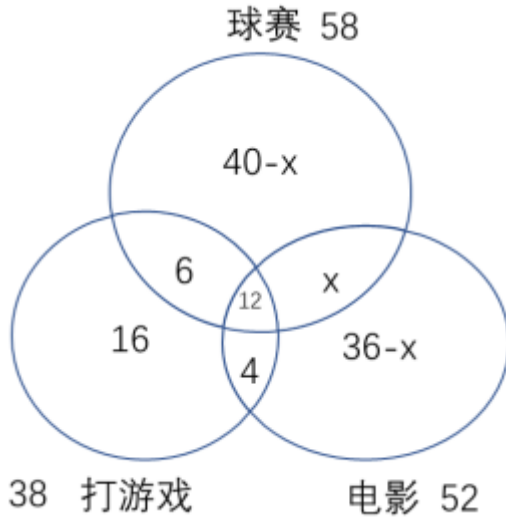
91、C

根据直线两端多次相遇结论可知，两人第一次相遇共走了一个AB全程，第二次相遇共走了三个AB全程，两次相遇总路程之比为 $1:3$ ，因为速度和不变，所以两次相遇时间之比也为 $1:3$ 。当他们第一次相遇时，甲离B地相距118米，乙从B地出发，说明第一次相遇时乙行驶的路程为118米；乙的速度不变，两次时间之比为 $1:3$ ，则路程之比也为 $1:3$ 。乙第一次相遇时的路程为118，设AB全程为 S ，则乙第二次相遇时的总路程为 $2S - 52$ ，则 $118 : (2S - 52) = 1 : 3$ ，解方程得 $S = 203$ 米。

故正确答案为C。

92、B

本题中求“只喜欢看电影”的人数，无法直接使用公式计算得到。因此使用画图的方法，从内到外，逐一标数。如下所示：



根据总人数为100列式可得： $38 + 40 - x + 36 - x + x = 100$ ，解得 $x = 14$ ，则只喜欢电影的人数为 $36 - x = 36 - 14 = 22$ 人。

故正确答案为B。

93、A

第一步：分析问题

本题为工程问题，且只给定了工作时间的具体量，故为给定时间型。故可将工程量赋值为两人单独工作所需时间的公倍数以简化计算。由于甲编织第一天，从第二天起每天均由上一天未编织的人编织，故可知应是甲、

乙、甲、乙、……每人一天进行循环工作，则可将每两天作为一个周期，计算出完成一半的工程量共进行了多少个周期，进而求得编织一半时，乙编织的天数。

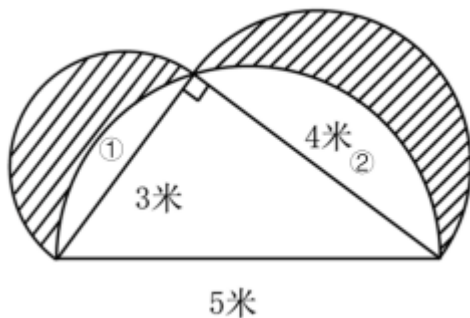
第二步：计算过程

将工程总量赋值为 350，则甲的效率为：350/35=10，乙的效率赋值为 350/25=14。由于甲、乙轮流做，每人做一天，则可将每两天作为一个周期，一个周期的效率为 10+14=24。一半的工程量为 350/2=175，由于 175/24=7……7，即甲、乙轮流工作，共进行了 7 个周期，还余 7 个工程量没做完，剩下的 7 个工程量轮到甲做，甲的效率为 10，即甲 1 天能将 7 个工程量完成。故乙做的天数均在 7 个周期中，即乙做的天数为 7。

第三步：再次标注答案

故正确答案为 A。

94、B



要求阴影部分面积，应该用两个小的半圆减去①和②的面积，由于图中三角形为直角三角形，直角所对的边为直径，则空白区域为直径为 5 米的半圆，①和②的面积又等于大的半圆减去直角三角形的面积，则有

① + ② = $\frac{1}{2}\pi(5 \div 2)^2 - \frac{1}{2} \times 3 \times 4 = 3.125\pi - 6$ ；两个小的半圆面积分别为 $\frac{1}{2}\pi(3 \div 2)^2 + \frac{1}{2}\pi(4 \div 2)^2 = 3.125\pi$ ，则阴影部分面积 = $3.125\pi - (3.125\pi - 6) = 6$ 。

故正确答案为 B。

95、B

根据圆锥体积公式为 $V = \frac{1}{3}sh = \frac{1}{3}\pi r^2 h$ ，由于已装水的圆锥高度为原来的一半，则其半径也为原来的一半，则已装水的圆锥体积 = $\frac{1}{3}\pi(\frac{r}{2})^2(\frac{h}{2}) = \frac{1}{24}\pi r^2 h = 3$ ，则大圆锥体积为 $V = \frac{1}{3}sh = \frac{1}{3}\pi r^2 h = 3 \times 8 = 24$ ，因此还可以装水的体积为 $24 - 3 = 21$ 升水。

故正确答案为 B。

96、C

数列无明显特征，优先考虑做差。作差得到新数列：3，4，（ ），（ ），4，5，说明括号中的两个数应为 5，3，此时，差为周期数列 3，4，5，3，4，5。所以原数列括号中的数为 $8 + 5 = 13$ 。

故正确答案为 C。

97、A

数列特征明显都是幂次数，考虑幂次数列。原数列分别是 1^2 ， 2^2 ， 4^2 ， 7^2 ， 11^2 ，底数直接观察无规律，考虑作差，底数作差后所得差分别为1，2，3，4，则下一个差是5，所以下一个底数是16，因此下一个数为 $16^2 = 256$ 。

故正确答案为A。

98、B

数列特征明显都是幂次数，考虑幂次数列。原数列分别是 3^3 ， 4^2 ，（ ）， 6^0 ， 7^{-1} ，所以括号中的数应为 $5^1 = 5$ 。

故正确答案为B。

99、D

图形数列有中心凑中心，优先考虑对角线。 $(1 \times 6) - (2 + 3) = 1$ ， $(5 \times 9) - (6 + 7) = 32$ ，所以 $?$
 $= (8 \times 3) - (2 + 9) = 13$ 。

故正确答案为D。

100、D

最后一排三个数都是平方数，优先考虑每列的前三个数运算完平方得到第四个数。第一列：
 $(23 + 8 - 22)^2 = 81$ ；第二列： $(24 + 6 - 21)^2 = 81$ ；第四列： $(26 + 1 - 19)^2 = 64$ ；所以第三列：
 $? = (25 + 3 - 20)^2 = 64$ 。

故正确答案为D。

101、D

观察发现，题干相同小元素重复出现，考虑元素遍历。题干每幅图第一行均出现“v”、“|”、“→”，
 ?处缺少“→”，因此排除C项。再次观察发现，题干每幅图第二行均出现“小圆圈”、“小矩形”、“小三角”，
 ?处缺少“小圆圈”，因此排除AB项，只有D项符合。经验证，第三行?处缺少“大圆圈”，第四行
 缺少“三条竖线”，D选项均符合题干要求。

故正确答案为D。

102、A

元素组成不同，且无明显属性规律，考虑数量规律。观察发现，题干均出现很多小元素，考虑元素的种类
 和个数。题干前两行均为4个3种小元素，因此第三行第四行也应是三种小元素，根据第三行，排除BD选项，
 BD选项代入题干第三行均只有两种元素。对比AC选项，发现只有第三行黑白两个圆的位置不同，此时考虑纵
 向看。观察发现，每一列也均符合4个3种小元素，据此排除C项，C项代入题干第三列只有两种小元素，不
 符合题干要求。

故正确答案为A。

103、D

观察发现，题干均由两个封闭图形相交组成，考虑图形间关系。观察发现，图①③⑥均相交于一条公共边，图②④⑤均相交于两条公共边。因此①③⑥一组，②④⑤一组。

故正确答案为D。

104、A

本题为不规则图形折纸盒问题，根据展开图上下各有一个“L”型，折完之后只有A选项符合。

故正确答案为A。

105、B

第一步：找出题干关键词。

“遵循的道德准则”、“主要包括个人生活习惯、行为风度、性格特点以及处理爱情、婚姻、家庭问题的道德等”。

第二步：逐一分析选项。

A项：穿戴新潮服饰是个人的生活习惯，符合定义，排除；

B项：遵纪守法属于法律层面，不是道德准则，不符合定义，当选；

C项：做家务活属于家庭问题的道德，符合定义，排除；

D项：与邻居相处属于行为风度、性格特点，符合定义，排除。

本题为选非题，故正确答案为B。

106、B

第一步：找出定义关键词。

“在社会关系空间中从一个地位向另一个地位的移动”或“地理空间的流动”

第二步：逐一分析选项。

A项：班主任当上校长，符合“在社会关系空间中从一个地位向另一个地位的移动”，符合定义，排除；

B项：由佼佼者变成差生，不符合“在社会关系空间中从一个地位向另一个地位的移动”，也不符合“地理空间的流动”，不符合定义，当选；

C项：先从事农业生产，后来从事城市服务发展，符合“在社会关系空间中从一个地位向另一个地位的移动”，符合定义，排除；

D项：从偏远的农村到北京，符合“地理空间的流动”，符合定义，排除。

本题为选非题，故正确答案为B。

107、C

第一步：找出定义关键词。

“为获得相对于竞争对手的市场优势”、“不正当手段收买能够影响市场交易的有关人员”

第二步：逐一分析选项。

A项：做宣传不符合“不正当手段收买能够影响市场交易的有关人员”，不符合定义，排除；

B项：优先办理手续，不涉及市场交易，不符合“不正当手段收买能够影响市场交易的有关人员”，不符合定义，排除；

C项：设备提供商为李某在国外读书的女儿免费提供食宿，符合“为获得相对于竞争对手的市场优势”、“不正当手段收买能够影响市场交易的有关人员”，符合定义，当选；

D项：某建筑商出资建立孤儿院，不符合“不正当手段收买能够影响市场交易的有关人员”，不符合定义，排除。

故正确答案为C。

108、B

第一步：找出定义关键词。

“体现人民群众对自己祖国深厚感情的崇高精神”

第二步：逐一分析选项。

A项：献身于促进祖国统一的事业，符合“体现人民群众对自己祖国深厚感情的崇高精神”，符合定义，排除；

B项：宣传国际主义运动，不符合“体现人民群众对自己祖国深厚感情的崇高精神”，不符合定义，当选；

C项：在现阶段献身于建设和保卫社会主义事业，符合“体现人民群众对自己祖国深厚感情的崇高精神”，符合定义，排除；

D项：在新民主主义革命时期推翻帝国主义，封建主义和官僚资本主义反动统治，符合“体现人民群众对自己祖国深厚感情的崇高精神”，符合定义，排除。

本题为选非题，故正确答案为B。

109、A

第一步：找出定义关键词。

“两种或两种以上物质相互作用后所产生的效果”

第二步：逐一分析选项。

A项：小王通过网络每天更新关于自己生活的博客，不符合“两种或两种以上物质相互作用后所产生的效果”，不符合定义，当选；

B项：甲乙公司通过网络视频签订了一个项目的协议，符合“两种或两种以上物质相互作用后所产生的效果”，符合定义，排除；

C项：某网络研究小组成员通过网络分享各自的研究成果，符合“两种或两种以上物质相互作用后所产生

的效果”，符合定义，排除；

D项：某电子商务网站推出了一款限量商品引来大量顾客抢购，符合“两种或两种以上物质相互作用后所产生的效果”，符合定义，排除。

本题为选非题，故正确答案为A。

110、D

第一步：找出论点和论据。

论点：微粒和心脏病之间有密切联系。

论据：空气污染导致的最常见的疾病是哮喘，最致命的危险是导致心脏病。人们每次呼吸都往肺部深处吸入大约50万个微粒。可是在受到污染的环境中，吸入的微粒比这多100倍。

第二步：逐一分析选项。

A项：说的是微粒和呼吸道疾病的关系，而不是论点说的心脏病，无关项，排除；

B项：指出微粒的来源，并不是论点所说的微粒的影响，无关项，排除；

C项：只能说明微粒多，并不能说明微粒对于心脏的影响，无关项，排除；

D项：微粒进入人体后产生有害物质，可能会造成心脏病，能够解释论点，补充论据加强，当选。

故正确答案为D。

111、B

第一步：找出论点和论据。

论点：工具的使用减弱了咀嚼的力量，从而导致人类脸型的变化。

论据：约200万年前，人类开始使用石器处理食物，同时，人类逐渐演化形成较小的牙齿和脸型，以及更弱的咀嚼肌和咬力。

论点包含因果关系，可以用因果倒置和他因削弱的方式削弱。

第二步：逐一分析选项。

A项：与人类接近的灵长类动物咀嚼时间长脸型更大，说的是灵长类动物，而不是论点提到的人类，无关项，排除；

B项：指出人类食物类型的变化加速了人类脸型的变化，同一时间其他的原因影响了人类的脸型，属于他因削弱，当选；

C项：说明工具的使用使得食物变得易于咀嚼，补充论据支持了论点的前半句话，不能削弱，排除；

D项：大脑体积的增大与脸型变化无关，无关项，排除。

故正确答案为B。

112、D

第一步：找出论点和论据。

论点：人们认为睡前喝牛奶是促进睡眠非常有效的方法

论据：牛奶中含有一种名为色氨酸的氨基酸能够穿过血脑屏障，制造诱发睡眠的荷尔蒙 5-羟色胺

第二步：逐一分析选项。

A 项：强调皮肤温度上升会加快入睡速度，类比热牛奶、热水浴对睡眠的促进作用，说明可能不是牛奶的色氨酸导致的睡眠好，而是“热”这个条件导致温度高，所以睡眠好，也就是说“热”也可能是导致快速入睡的一个原因，属于他因削弱，暂且保留；

B 项：强调无论是喝小份牛奶还是大量的牛奶，只是喝的量有差别，其实还是在喝牛奶，喝大量牛奶助眠效果才会好，能够说明喝牛奶是可以促进睡眠，属于加强项，排除；

C 项：题干讨论的是牛奶对睡眠的影响，选项说米饭对睡眠的影响，论题不一致，属于无关项，排除；

D 项：强调其他的氨基酸会降低色氨酸穿过血脑屏障的能力，这直接对牛奶中的色氨酸穿越血脑屏障制造困难，进而牛奶中可以诱发睡眠荷尔蒙 5-羟色胺的产生就会受到干扰，补充反面论据为牛奶促眠设置障碍，暂且保留；

比较 AD，A 项属于他因削弱，D 项属于削弱论据，D 项的削弱力度大于 A 项。

故正确答案为 D。

注：若对该题 A 项仍有疑问的同学可进一步参照以下的原文表述。

A 项对应的原文表述如下：

其实，让人感觉有助入睡的很可能是牛奶的热度而非牛奶本身。有研究证明，皮肤温度上升则入睡速度加快。但大部分时候，一杯到胃肠道里的牛奶并不足以让你的皮肤有明显上升。相比之下，一个热水浴会有效得多。

这段话先是告知了我们“皮肤温度升高会有助睡眠”，之后进一步列举热牛奶和热水浴的促眠作用，且强调了热水浴的促眠作用大于热牛奶，但不论谁的作用更大更小，无非还是想说“热”对于快速睡眠是有促进作用的。故 A 项是他因削弱。

D 项对应的原文表述如下：

另外，我们脆弱的大脑与血液之间有一道“血脑屏障”，保护自己免受外来物质的入侵，但同时也阻碍了一些有益物质的进入。所以，任何要起安眠作用的物质首先必须能穿过这个屏障才能起效。牛奶中富含包括色氨酸在内的各种氨基酸，但这种蛋白质丰富的食物会造成血液中各种种类氨基酸含量的普遍上升，各种氨基酸会争抢穿过血脑屏障的通道——就像高峰时间段的地铁入口一样——反而会降低色氨酸穿过血脑屏障的能力。

这段话先是告知我们“任何要起安眠作用的物质首先必须要穿过血脑屏障”，说明穿越血脑屏障是发挥促眠作用的关键；之后又说一旦各类氨基酸普遍上升便会争抢通道，降低色氨酸的穿越屏障能力，说明争抢后的

色氨酸穿越屏障的能力将直接受到影响。与D项的表述一致。

故通过比照原文，我们更加确定A项就是一个他因削弱的表述，而D项是更直接地对牛奶促眠这一关键过程的实现设置了障碍，属于削弱论据，显然D项的力度大于A项。

更多资料可参考：<http://health.qqyy.com/article/141008/3450b.html>

113、A

先找到确定信息“1号和10号文件柜放各处室材料”“4号文件柜放本局材料，5号文件柜放上级文件”。由已知条件知，1号、10号放处室材料，4号放本局文件，5号放上级文件，由放本局文件连号知3号放本局文件，由基层单位材料与本局文件不连号知2号放处室材料，“两个放本局文件的文件柜连号”可得本局另外一个文件柜不可能是5号，那么只能是3号；题干要求“放基层单位材料的文件柜与放本局文件的文件柜不连号”，所以2号文件柜不能放基层单位材料，故6、7、8、9号放基层单位材料。

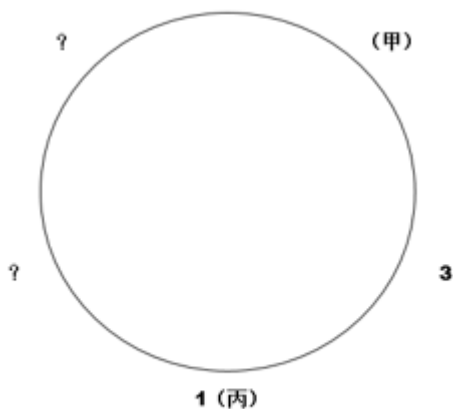
故正确答案为A。

114、B

根据题干，圆桌边放着标有1-5号的五张座椅，注意1-5号并不是按照顺序排列的。

- (1) 甲坐在1号座椅右边第二张座椅上；
- (2) 乙坐在5号座椅左边第二张座椅上；
- (3) 丙坐在3号座椅左边第一张座椅上；
- (4) 丁坐在2号座椅左边第一张座椅上；
- (5) 丙坐在1号座椅上。

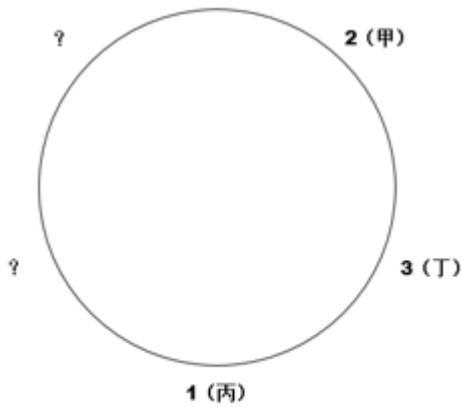
可从确定信息(5)开始推理，丙坐在1号座椅上，则根据(1)可确定甲的位置(注意：左右是根据就餐人员面对桌子的朝向确定的)，根据(3)可确定3号座椅在丙(即1号)右边的第一张座椅上。如图①所示：



图①

则甲只可能坐在2号、4号、5号座椅的其中一个，排除B选项。

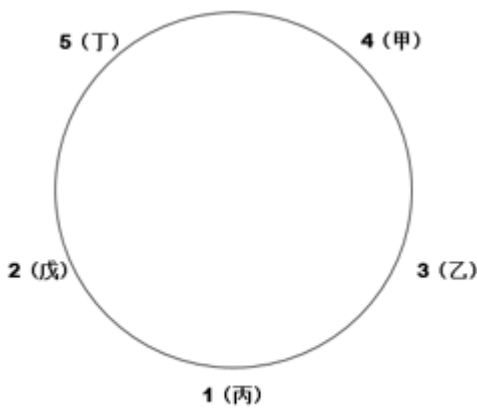
1、假设甲坐 2 号座椅，根据 (4) 可知，丁坐在 3 号座椅上。如图②所示：



图②

则 2 个问号处位置有一个是 5 号座椅；但根据 (2) 乙坐在 5 号座椅左边第二张座椅上，即乙的位置是 2 号或者 3 号座椅，但是 2 号和 3 号已经确定有人坐，不可能是乙坐。故假设不成立。

2、假设甲坐在 4 号位置，根据条件 (2)，则 4 号座椅的右边是 5 号座椅（如果 4 号座椅的右边不是 5 号座椅，5 号座椅只能在 1 号座椅左边，则根据 (2)，乙坐在 4 号，这与假设条件“甲坐在 4 号位置”矛盾，因此 4 号座椅的右边只能是 5 号座椅），即乙坐在 3 号座椅。根据条件 (4) 可知，丁坐在 5 号位置，戊坐在 2 号位置。如图③所示：



图③

假设成立。

3、假设甲坐在 5 号位置，根据条件 (2)，乙坐在 1 号位置，这与题干条件 (5) 矛盾，故假设不成立。

综上所述，甲坐在 4 号座椅，即 B 选项。

故正确答案为 B。

115、C

第一步：判断题干词语间的逻辑关系。

温室效应可能是由于二氧化碳所引起的，二者是因果对应关系。

第二步：判断选项词语间的逻辑关系。

- A 项：石油与煤炭都是能源的形式，因此二者之间构成并列关系，与题干逻辑关系不符，排除；
- B 项：汽车可以在公路上行驶，因此二者之间是位置对应，与题干逻辑关系不符，排除；
- C 项：洪水可能会引发水灾，因此二者是因果对应，与题干逻辑关系一致，当选；
- D 项：投资是有风险的，风险可以是投资的属性，因此二者是属性对应关系，与题干逻辑关系不符，排除。

故正确答案为 C。

116、B

将选项代入到题干中去验证。

A 项：理论指导实践，理论也来源于实践，二者是对应关系，规划与设计属于近义关系，前后逻辑关系不一致，排除；

B 项：理论需要建构，建构理论构成了动宾关系，图纸需要设计，设计图纸构成了动宾关系，前后逻辑关系一致，当选；

C 项：理论需要完善，完善理论构成了动宾关系，二者是语法关系，严密的设计，二者是偏正关系，前后逻辑关系不一致，排除；

D 项：系统的理论，二者是偏正关系，设计程序构成了动宾关系，前后逻辑关系不一致，排除。

故正确答案为 B。

117、A

第一步：判断题干词语间的逻辑关系。

黄色、白色和红色是三种不同的颜色，三者是并列关系。

第二步：判断选项词语间的逻辑关系。

A 项：忧伤、高兴和愤怒是三种不同的情绪，三者是并列关系，与题干逻辑关系一致，当选；

B 项：女医生和男医生都属于医生，前两者是并列关系，与第三个词构成种属关系，与题干逻辑关系不一致，排除；

C 项：科学与非科学构成矛盾关系，伪科学与非科学构成全同关系，与题干逻辑关系不一致，排除；

D 项：左右与右手构成并列关系，举手是用左手或者右手所发出的动作，与题干逻辑关系不一致，排除。

故正确答案为 A。

118、C

将选项代入到题干中去验证。

A 项：主编属于编辑，二者是种属关系，工人生产产品，二者是对应关系，前后逻辑关系不符，排除；

B 项：编辑报纸，二者是语法关系，工人在厂房里工作，二者是对应关系，前后逻辑关系不符，排除；

C 项：编辑在报社工作，二者是对应关系，工人在工厂里工作，二者是对应关系，前后逻辑关系一致，当

选;

D项:编辑在出版社工作,二者是对应关系,工人在车间里工作,二者是对应关系,但车间是具体的工作地点,出版社是一个单位,前后逻辑关系不符,排除。

故正确答案为C。

119、A

第一步:判断题干词语间的逻辑关系。

西藏和新疆是中国的自治区,西藏在南,新疆在北,二者相邻。

第二步:判断选项词语间的逻辑关系。

A项:陕西和内蒙古是中国的省和自治区,陕西在南,内蒙古在北,二者相邻,前后逻辑关系一致,当选;

B项:广西和广东是中国的自治区和省,广西在西,广东在东,二者相邻,但方向不对,前后逻辑关系不符,排除;

C项:甘肃和宁夏是中国的省和自治区,甘肃半包围着宁夏,二者相邻,但方向不对,前后逻辑关系不符,排除;

D项:重庆和天津都是中国的直辖市,但二者不相邻,前后逻辑关系不符,排除。

故正确答案为A。

120、B

定位文字材料“2018年全年各类自然灾害造成经济损失2042亿元,因海洋灾害造成直接经济损失约为332亿元,因地质灾害造成经济损失约36.5亿元,因地震灾害造成直接经济损失约26亿元”。故2018年除海洋、地质、地震灾害外,其它自然灾害造成直接经济损失 $=2042-332-36.5-26=1647.5$ 亿元。

故正确答案为B。

121、D

根据题干“与2017年相比2018年.....减幅最高的是”,判定本题为降幅比较。定位文字材料“亿元GDP生产事故死亡人数为0.7人,下降18.5%。工矿商贸企业从业人员生产安全事故10万人死亡人数为3.85人,下降6.8%。煤矿百万吨死亡人数为2.81人,下降8.7%。道路交通万车死亡人数为7.6人,下降23.7%”。故降幅最大的是道路交通万车死亡人数,降幅为23.7%。

故正确答案为D。

122、B

根据题干“2017年受灾森林面积占农作物受灾面积.....”,判定本题为基期比重计算问题。定位文字材料“全年农作物受灾面积3882万公顷,上升4.6%。全年发生特大森林火灾3起,因森林火灾造成受灾森林面积7.3万公顷,下降48.4%”。根据基期比重公式: $\frac{7.3}{3882} \times \frac{1+4.6\%}{1-48.4\%} \approx \frac{7.3}{388} \times \frac{1.05}{0.516} \approx 0.38\%$ 。

故正确答案为 B。

123、A

根据题干时间“2017年……”，结合材料 2018 年，判定本题为基期计算问题。

A 项，定位文字材料“全年因海洋灾害造成直接经济损失约为 332 亿元，增加 5.1 倍。”因此 2017 年因

海洋灾害造成直接经济损失约为 $\frac{332}{1+5.1} \approx 54.4$ 亿 < 55 亿，正确；

B、C、D 项，材料只给出 2018 年的现期量，基期量由于缺少数据无法得知。

故正确答案为 A。

124、C

A 项，定位文字材料“全年农作物受灾面积 3882 万公顷，上升 4.6%，其中绝收 460 万公顷上升 5.4%”因

此 2017 年占比为 $\frac{460}{3882} \times \frac{1+4.6\%}{1+5.4\%} \approx \frac{46}{388} \times \frac{1+4.6\%}{1+5.4\%} \approx 11.76\%$ ，说法错误，排除；

B 项，定位材料“2018 年全年发生赤潮 82 次，减少 14 次，累计赤潮面积约 27070 平方公里，上升 1.7%”，故 2017 年全年发生赤潮次数 = $82 + 14 = 96$ 次，并非 68 次，说法错误，排除；

C 项，定位材料“2018 年全年各类自然灾害造成经济损失 2042 亿元，比上年上升 27.4%”，故 2017 年全年各类自然灾害造成经济损失 = $\frac{2042}{1+27.4\%} \approx 1602.8$ 亿元，正确，当选；

D 项，定位材料“全年发生道路交通事故数为 450254 起，造成 9.9 万人死亡，47 万人受伤，直接财产损失 18.8 亿元。道路交通万车死亡人数为 7.6 人，下降 23.7%”，故 2017 年全年发生道路交通事故造成死亡人数 = $\frac{9.9}{1-23.7\%} \approx 13$ 万人，错误，排除。

故正确答案为 C。

125、B

由题干“2016 年我国快递业务量 X 约为”，结合材料已知数据为 2018 年，判定本题为间隔基期问题。定位图 1 数据可得，2018 年快递业务量为 507.1 亿件，比上年增长 26.6%，2017 年比上年增长 28.0%。代入公式：

间隔增长率 = $r_1 + r_2 + r_1 \times r_2 = 26.6\% + 28\% + 26.6\% \times 28\% \approx 62\%$ ；间隔基期 = $\frac{\text{现期}}{1 + \text{间隔增长率}} = \frac{507.1}{1 + 62\%} \approx \frac{507.1}{1.6} \approx 316.9$ 亿件，与 B 项最接近。

故正确答案为 B。

126、A

由题干“2018 年快递业务量比 2014 年快递业务量增加了约”，结合选项为倍数，可判定本题为现期倍数问题。定位图 1 数据可知，2018 年快递业务量为 507.1 亿件，2014 年快递业务量为 139.6 亿件。代入公式：

多几倍 = 是几倍 - 1 = $\frac{507.1}{139.6} - 1 \approx \frac{507.1}{140} - 1 \approx 3.62 - 1 = 2.62$ 倍，与 A 项最接近。

故正确答案为 A。

127、C

由题干“2015-2018年当年移动宽带用户与固定互联网宽带接入用户比最大的年份是”，可判定本题为比值比较问题。定位图2数据可知，2015-2018年移动宽带用户依次为70611万户、94075万户、113152万户、130565万户；2015-2018年固定互联网宽带接入用户依次为25947万户、29721万户、34854万户、40738万户。2015-2018年题干所求比值分别为：

2015年： $\frac{70611}{25947} < 3$ ；2016年： $\frac{94075}{29721} \approx 3.17$ ；2017年： $\frac{113152}{34854} \approx 3.25$ ；2018年： $\frac{130565}{40738} \approx 3.20$ ，故比值最大的是2017年。

故正确答案为C。

128、B

由题干“2017年全年移动互联网用户接入流量约为”，可判定本题为基期计算问题。定位文字材料可知，

(2018年)全年移动互联网用户接入流量711亿GB，比上年增长189.1%。代入公式：
$$\text{基期} = \frac{\text{现期}}{1 + \text{增长率}}$$
$$= \frac{711}{1 + 189.1\%} \approx \frac{711}{2.89} \approx 246 \text{GB}。$$

故正确答案为B。

129、D

由题干“2015-2018年移动宽带用户年增长率和固定互联网宽带接入用户年增长率最高的年份分别是”，可判定本题为一般增长率的比较问题。定位图2数据可知，2014-2018年移动宽带用户依次为58254万户、70611万户、94075万户、113152万户、130565万户；2014-2018年固定互联网宽带接入用户依次为20048万户、25947万户、29721万户、34854万户、40738万户。代入公式：

$$\text{增长率} = \frac{\text{现期} - \text{基期}}{\text{基期}}$$
，则2015-2018年移动宽带用户年增长率依次为：2015年： $\frac{70611 - 58254}{58254} = \frac{12357}{58254} < 30\%$ ，2016年： $\frac{94075 - 70611}{70611} = \frac{23464}{70611} > 30\%$ ，2017年： $\frac{113152 - 94075}{94075} = \frac{19077}{94075} < 30\%$ ，2018年： $\frac{130565 - 113152}{113152} = \frac{17413}{113152} < 20\%$ ，故移动宽带用户年增长率最大的是2016年。结合选项，只有D项符合。

故正确答案为D。

130、ABD

本题考查时事政治。

2019年1月25日，中共中央政治局在人民日报社就全媒体时代和媒体融合发展举行第十二次集体学习。习近平指出：“我们要把握国际传播领域移动化、社交化、可视化的趋势，在构建对外传播话语体系上下功夫，在乐于接受和易于理解上下功夫，让更多国外受众听得懂、听得进、听得明白，不断提升对外传播效果。”

故正确答案为ABD。

131、AC

本题考查社会主义市场经济。

A 项正确，党的十八届三中全会提出，公有制经济和非公有制经济都是社会主义市场经济的重要组成部分，都是我国经济社会发展的重要基础。

B 项错误，我国社会主义初级阶段实行以公有制为主体，多种所有制经济共同发展的基本经济制度。因此，我国国民经济的主体是公有制经济。

C 项正确，我国 75% 以上的技术创新、80% 以上的新产品开发都是民营企业完成的，因此，民营经济的发展可以促进技术创新和企业转型升级。

D 项错误，在我国，国有经济是社会主义公有制经济的重要成分，是国民经济的主导力量，在国民经济中起主导作用。

故正确答案为 AC。

132、BD

本题考查中国特色社会主义理论体系。

A 项错误，“公民应做到知法守法用法”强调的是法治的要求，而不是法治的原因。

B 项正确，实施依法治国基本方略、建设社会主义法治国家，是经济发展、社会进步的客观要求。市场经济健康发展离不开法治的保障。建设现代化经济体系，其根本前提就是要不断完善社会主义市场经济法治体系。

C 项错误，“政府要做到法定职责必须为，法无授权不可为”强调的是法治的要求，而不是法治的原因。

D 项正确，依法治国是国家治理体系与治理能力现代化必然要求，坚持和完善中国特色社会主义制度，推进国家治理体系和治理能力现代化，实现具有中国特色的“中国之治”，法治是制度基础，是根本保障。因此，强调法治，是因为建设法治国家是推进国家治理体系和治理能力现代化的必然要求。

故正确答案为 BD。

133、CD

本题考查中国特色社会主义理论体系。

A 项错误，选举权和被选举权是公民的基本民主权利，“中国共产党全国代表大会代表的产生”体现的是党员的选举权和被选举权，不是全体公民的基本民主权利。

B 项错误，等额选举可以比较充分地考虑当选者结构的合理性，而不是差额选举。

C 项正确，差额选举的方式产生中国共产党全国代表大会代表，是一种党内民主，这种选举方式可以以党内民主带动人民民主，营造风清气正的政治生态。

D 项正确，差额选举的实施，不仅为选举人依法行使选举权提供了选择的余地，而且也在被选举人的选择上形成了相应的竞争机制，有助于从制度上切实提高选举的民主化程度，也有利于人才的选拔，使优秀人才得以脱颖而出。

故正确答案为 CD。

134、ABCD

本题考查道德。

《新时代公民道德建设实施纲要》中指出，新时代公民道德建设的重点任务包括筑牢理想信念之基、培育和践行社会主义核心价值观、传承中华传统美德、弘扬民族精神和时代精神。

A 项正确，筑牢理想信念之基。人民有信仰，国家有力量，民族有希望。信仰信念指引人生方向，引领道德追求。要坚持不懈用习近平新时代中国特色社会主义思想武装全党、教育人民，引导人们把握丰富内涵、精神实质、实践要求，打牢信仰信念的思想理论根基。

B 项正确，培育和践行社会主义核心价值观。社会主义核心价值观是当代中国精神的集中体现，是凝聚中国力量的思想道德基础。要持续深化社会主义核心价值观宣传教育，增进认知认同、树立鲜明导向、强化示范带动，引导人们把社会主义核心价值观作为明德修身、立德树人的根本遵循。

C 项正确，传承中华传统美德。中华传统美德是中华文化精髓，是道德建设的不竭源泉。要以礼敬自豪的态度对待中华优秀传统文化，充分发掘文化经典、历史遗存、文物古迹承载的丰厚道德资源，弘扬古圣先贤、民族英雄、志士仁人的嘉言懿行，让中华文化基因更好植根于人们的思想意识和道德观念。

D 项正确，弘扬民族精神和时代精神。以爱国主义为核心的民族精神和以改革创新为核心的时代精神，是中华民族生生不息、发展壮大的坚实精神支撑和强大道德力量。

故正确答案为 ABCD。

135、ABCD

本题考查时事政治。

2019 年 9 月 17 日，第十三届全国人民代表大会常务委员会第十三次会议通过关于授予国家勋章和国家荣誉称号的决定。决定授予下列人士“共和国勋章”：于敏、申纪兰（女）、孙家栋、李延年、张富清、袁隆平、黄旭华、屠呦呦（女）。

故正确答案为 ABCD。

136、BCD

本题考查马克思主义哲学。

A 项正确，时势造英雄是指客观存在造就了英雄及其主观感情，这是唯物史观的看法，而英雄造时势是指英雄对社会的影响，它是一种意识，体现了唯心史观。两者的主要分歧在于谁是历史创造者，唯物史观认为，人民群众是实践和认识的主体，是物质财富和精神财富的创造者，是历史的创造者；唯心史观认为，英雄是历史的创造者，过分地夸大了英雄的作用。

B 项错误，机械唯物主义也就是近代形而上学唯物主义，是唯物主义哲学发展的历史形态之一。机械唯物主义是唯物主义，它承认世界的本原是物质，物质是第一性，意识是第二性。机械唯物主义用机械的力学解释

一切，认为一切物质的运动都是外力推动的机械运动，甚至认为“人是机械”。用孤立、静止、片面的观点认识 and 解释世界和事物，而不把世界和事物理解为历史的发展着的过程。不能把对自然界的唯物主义观点贯彻到社会领域，坚持的是唯心主义的历史观。“时势造英雄”体现的是唯物历史主义，而非机械唯物主义。

C、D 项错误，“时势造英雄”和“英雄造时势”并未体现世界本原问题。

本题为选非题，故正确答案为 BCD。

137、ABD

本题考查宏观经济常识。

A 项错误，我国 CPI 的统计范围包括食品、烟酒及用品、衣着、家庭设备用品及服务、医疗保健及个人用品、交通和通信、娱乐教育文化用品及服务、居住八大类。居民消费价格反映的是居民用于消费支出的物品和商品的价格变动。根据国民经济核算分类，商品房购买属于投资范畴，不在 CPI 统计范围内。

B 项错误，生产者物价指数，简称 PPI，是衡量工业企业产品出厂价格变动趋势和变动程度的指数，是反映某一时期生产领域价格变动情况的重要经济指标，也是制定有关经济政策和国民经济核算的重要依据。当 PPI 指数增幅很大而且持续加速上升时，该国央行应该采取加息对策，防止通货膨胀。

C 项正确，消费者物价指数，简称 CPI，是世界各国普遍编制的一种指数，属于滞后性数据，其用于分析市场价格的基本动态，是政府制定物价政策和工资政策的重要依据。

D 项错误，CPI 会对 PPI 产生影响。PPI 反映生产环节价格水平，CPI 反映消费环节的价格水平。从生产—流通—消费的价值链来看，PPI 是 CPI 的上游，并形成 PPI 上升推动 CPI 上升，PPI 下降拉动 CPI 下降的传导关系，通常称之为正向传导。在特殊情况下，PPI 与 CPI 之间还存在后者向前者的逆向传导。

本题为选非题，故正确答案为 ABD。

138、AC

本题考查宏观经济常识。

A 项正确、B 项错误，人民币对美元汇率中间价由 687.55 走低至 671.01，说明人民币对美元升值，则同等数额的人民币可以兑换更多的美元，出境旅游费用下降，中国居民赴境外旅游热情会高涨。

C 项正确、D 项错误，人民币升值会导致中国商品在美国市场价格上升，不利于发挥中国商品的价格优势。

故正确答案为 AC。

139、CD

本题考查民法。

A 项错误，根据《继承法》第二十一条规定：“遗嘱继承或者遗赠附有义务的，继承人或者受遗赠人应当履行义务。没有正当理由不履行义务的，经有关单位或者个人请求，人民法院可以取消他接受遗产的权利。”由此可见，遗赠可以附义务。因此，在本案中，甲对丁的遗赠所附属的义务是合法有效的，甲的遗嘱是合法有

效的，并不因其存在遗赠附属义务而部分有效。因此甲的遗嘱有效。

B项错误，根据《最高人民法院关于贯彻执行〈中华人民共和国继承法〉若干问题的意见》第五十三条规定：“继承开始后，受遗赠人表示接受遗赠，并于遗产分割前死亡的，其接受遗赠的权利转移给他的继承人。”丁接受遗赠的权利并不因其死亡而消灭。

C项正确，根据《继承法》第二十五条第二款规定：“受遗赠人应当在知道受遗赠后两个月内，作出接受或者放弃受遗赠的表示，到期没有表示的，视为放弃受遗赠。”如果丁在知道受遗赠后，2个月内没有作出接受遗赠的意思表示，视为放弃接受遗赠。

D项正确，根据《合同法》第三百七十四条规定：“保管期间，因保管人保管不善造成保管物毁损、灭失的，保管人应当承担损害赔偿责任，但保管是无偿的，保管人证明自己没有重大过失的，不承担损害赔偿责任。”本案中，乙对于古画的保管是无偿的，对于古画灭失主观上不存在重大过失。因此，丁无权要求乙赔偿。

故正确答案为CD。

140、AB

本题考查宪法。

A项正确，根据《香港特别行政区基本法》第十八条第四款规定：“全国人民代表大会常务委员会决定宣布战争状态或因香港特别行政区内发生香港特别行政区政府不能控制的危及国家统一或安全的动乱而决定香港特别行政区进入紧急状态，中央人民政府可发布命令将有关全国性法律在香港特别行政区实施。”根据《澳门特别行政区基本法》第十八条第四款规定：“在全国人民代表大会常务委员会决定宣布战争状态或因澳门特别行政区内发生澳门特别行政区政府不能控制的危及国家统一或安全的动乱而决定澳门特别行政区进入紧急状态时，中央人民政府可发布命令将有关全国性法律在澳门特别行政区实施。”

B项正确，根据《香港特别行政区基本法》第一百五十九条第一款规定：“本法的修改权属于全国人民代表大会。”根据《澳门特别行政区基本法》第一百四十四条第一款规定：“本法的修改权属于全国人民代表大会。”修改特别行政区的基本法是全国人民代表大会的职权。

C项错误，根据《香港特别行政区基本法》第十七条第一、二款规定：“香港特别行政区享有立法权。香港特别行政区的立法机关制定的法律须报全国人民代表大会常务委员会备案。备案不影响该法律的生效。”根据《澳门特别行政区基本法》第十七条第一、二款规定：“澳门特别行政区享有立法权。澳门特别行政区的立法机关制定的法律须报全国人民代表大会常务委员会备案。备案不影响该法律的生效。”制定适用于特别行政区的基本法律是特别行政区立法机关的权力。

D项错误，根据《香港特别行政区基本法》第十九条第一款规定：“香港特别行政区享有独立的司法权和终审权。”根据《澳门特别行政区基本法》第十九条第一款规定：“澳门特别行政区享有独立的司法权和终审权。”

故正确答案为AB。

141、ACD

本题考查科技常识。

A 项正确，俄罗斯位于 $30^{\circ}\sim 180^{\circ}E$ 、 $50^{\circ}\sim 80^{\circ}N$ ，跨欧亚两洲，位于欧洲东部和亚洲大陆的北部，其欧洲领土的大部分是东欧平原。

B 项错误，俄罗斯北邻北冰洋，东濒太平洋，西接大西洋，西北临波罗的海、芬兰湾。

C 项正确，俄罗斯面积 1709.82 万平方公里（占原苏联领土面积的 76.3%，占地球陆地面积的 11.4%），水域面积占 13%，是世界上面积最大的国家。东西长为 9000 公里，横跨 11 个时区；南北宽为 4000 公里，跨越 4 个气候带。

D 项正确，俄罗斯虽有四分之三的土地在亚洲，但俄罗斯人口和城市主要集中分布在西部的欧洲部分。西部为平原，较东部地势低，气候温暖，西部农业基础好，农业带有东欧平原和顿河流域，且西部发展历史早，工业基础好，因此俄罗斯大部分城市和首都莫斯科均在欧洲。

故正确答案为 ACD。

142、ABCD

本题考查科技。

A 项正确，季节更迭的根本原因是地球的自转轴与其公转轨道平面不垂直，偏离的角度是 23 度 26 分（黄赤交角）。在不同的季节，南北半球所受到的太阳光照不相等，且周期性变换。日照更多的半球是夏季，另一半是冬季。

B 项正确，为了准确地反映各地的实际气温变化情况，在气候学上，我国划分四季常采用近代学者张宝堃的分类法，即“候平均气温”划分四季。

C 项正确，在张宝堃的《中国四季之分配》一文中，提出以候（五天）平均气温低于 $10^{\circ}C$ 为冬季，高于 $22^{\circ}C$ 为夏季， $10\sim 22^{\circ}C$ 之间为春秋过渡季，并划出各地四季的长短。

D 项正确，天文季节是以地球在黄道上的位置决定的，即以立春至立夏为春，立夏至立秋为夏，立秋至立冬为秋，立冬至立春为冬。其热效应比太阳辐射效应落后一个月左右，所以为了使天文季节与气候季节相结合，北半球常把阳历 3、4、5 月作为春季；6、7、8 月作为夏季；9、10、11 月作为秋季；12、1、2 月作为冬季。

故正确答案为 ABCD。

143、ABD

本题考查科技。

A 项正确，白马寺位于河南省洛阳市洛龙区白马寺镇内，创建于东汉永平十一年（公元 68 年），被称为“中国第一古刹”，距今已有 1900 多年的历史。现存的遗址古迹为元、明、清时所留。

B 项正确，灵隐寺，又名云林寺，位于浙江省杭州市，背靠北高峰，面朝飞来峰，被誉为江南禅宗“五山”之一。

C项错误，少林寺，位于河南省郑州市登封市嵩山五乳峰下，因坐落于嵩山腹地少室山茂密丛林之中，故名“少林寺”，现为世界文化遗产。

D项正确，寒山寺位于苏州市姑苏区，寺内古迹甚多，有张继诗的石刻碑文，文徵明、唐寅所书碑文残片等。

故正确答案为 ABD。

144、ABCD

本题考查人文历史。

A项正确，1842年，清朝在与英国的第一次鸦片战争中战败。清政府代表在泊于南京（时称江宁）下关江面的英军旗舰康华丽号上与英国签署《南京条约》，这是中国近代史上与外国签订的第一个丧权辱国的不平等条约。

B项正确，《北京条约》包括《中英北京条约》《中法北京条约》《中俄北京条约》，是1860年中国清朝政府于第二次鸦片战争后在北京分别与英国、法国、俄国签订的不平等条约。清政府委任钦差大臣奕訢作为谈判及签约代表。该条约的签订进一步加深了中国的半殖民地半封建社会程度。

C项正确，《天津条约》是1858年第二次鸦片战争中英国、法国、俄国、美国强迫清政府在天津分别签订的不平等条约。

D项正确，《展拓香港界址专条》是在1898年6月9日由清政府和英国在北京签订的一份租借九龙以北深圳河以南的土地条约。专条的主要内容是：中国将1860年英国所夺占的尖沙咀以外的九龙半岛的其余部分，即从深圳湾到大鹏湾的九龙半岛的全部，租与英国99年；租期内租借地归英国管辖。这一专条是一个赤裸裸的掠夺性条约。

故正确答案为 ABCD。

145、ACD

本题考查科技常识。

A项错误，用脐带血中的干细胞不能治疗这个孩子所有的疾病，如传染性疾病等。

B项正确，如果要移植用他的干细胞培育出的器官，需要用细胞培养技术，然后发育成器官。

C项错误，自体器官移植不会发生免疫排斥反应，所以自体移植后不需要用免疫抑制药物。

D项错误，用干细胞培育出人体需要的器官用来移植治病，不需要激发细胞的所有全能性，只需诱导干细胞分化形成相应的组织即可。

本题为选非题，故正确答案为 ACD。

146、ACD

本题考查科技常识。

A项错误，石英的用途非常广泛，除了用于生产光导纤维，还可以制石英玻璃、石英钟，做精密仪器的轴

承、研磨材料、玻璃陶瓷等工业原料。

B项正确，“地沟油”是一种质量极差、极不卫生的非食用油。它会破坏人们的白血球和消化道黏膜，引起食物中毒，甚至致癌的严重后果。所以“地沟油”是严禁用于食用油领域的。地沟油的主要成分是油脂，可使其在碱性条件下水解制肥皂。

C项错误，从海水中提取的物质有多种，有些必须通过化学反应获得，如海水提镁；有些不用通过化学反应获得，利用物理方法即可，如海水提取食盐的过程是蒸发水析出氯化钠晶体。

D项错误，合理使用食品添加剂可以防止食品腐败变质，保持或增强食品的营养，改善或丰富食物的色、香、味等。但过度使用，则会危害人的健康。

本题为选非题，故正确答案为ACD。

147、BD

本题考查马克思主义政治经济学。

A项错误，生产不仅为消费创造材料，而且决定着消费的性质，为消费创造需要。题干中体现的是生产对消费的决定作用，消费升级有助于推动供给侧结构性改革强调的是消费对生产的反作用。

B项正确，5G手机和折叠手机的问世体现了厂商研发创造出新型产品，有助于刺激消费，扩大再生产。

C项错误，消费方式是指消费者消费生活资料或劳务所采取的方法、途径和形式，材料中没有体现消费方式的改变。

D项正确，厂商生产新型智能手机吸引消费者购买的同时也就扩大了市场占有率。

故正确答案为BD。

148、BCD

本题考查公文的基本知识。

A项错误，请示是“适用于向上级请求指示、批准”的公文。请示属于上行文。凡是本机关无权、无力决定和解决的事项可以向上级请示，而上级则应及时回复。所以在不相隶属的机关或部门不能发请示。报告使用范围很广，按照上级部署或工作计划，每完成一项任务，一般都要向上级写报告，反映工作中的基本情况、工作中取得的经验教训、存在的问题以及今后工作设想等，以取得上级领导部门的指导。所以也属于向上级的发文，不适用于不相隶属的部门或机关。在不相隶属的机关或部门之间不可以发请示和报告，一般使用的是函。

B项正确，根据《党政机关公文处理工作条例》第八条规定：“（二）决定。适用于对重要事项作出决策和部署、奖惩有关单位和人员、变更或者撤销下级机关不适当的决定事项。”知照性决定一般用来向人们告知某一问题的主张、态度和解决问题的结果，应内容单一，文字简短，多采用“篇段合一”的结构形式。

C项正确，上行文是指下级机关或业务部门向所属上级领导机关或业务主管部门的一种行文，如请示、报告。下行文是指上级领导机关或业务主管部门对所属的下级机关的一种行文。在有隶属关系的上下级机关之间应使用上行文和下行文。

D 项正确，根据《党政机关公文处理工作条例》第二十条规定：“公文文稿签发前，应当由发文机关办公厅（室）进行审核。审核的重点是：（一）行文理由是否充分，行文依据是否准确。（二）内容是否符合党的理论路线方针政策和国家法律法规；是否完整准确体现发文机关意图；是否同现行有关公文相衔接；所提政策措施和办法是否切实可行。（三）涉及有关地区或者部门职权范围内的事项是否经过充分协商并达成一致意见。（四）文种是否正确，格式是否规范；人名、地名、时间、数字、段落顺序、引文等是否准确；文字、数字、计量单位和标点符号等用法是否规范。（五）其他内容是否符合公文起草的有关要求。”

故正确答案为 BCD。

149、ACD

本题考查计算机基础知识。

A 项正确，ALT+F4 是一个热键或快捷键，它主要的功能用来关闭窗口。一般用于利用键盘快速退出或者结束当前正在运行的应用程序，通常应用程序会提示用户是否保存当前已变更的操作；如无提示，通常退出后修改不被保存。

B 项错误，CTRL+F4 主要的功能是用来关闭当前窗口，但如果同时打开多个 PowerPoint 窗口，则不会退出应用程序。

C 项正确，单击“文件”菜单下的“退出”按钮，可以退出 PowerPoint 程序。

D 项正确，单击 PowerPoint 窗口标题栏右端的关闭按钮可以退出 PowerPoint 程序。

故正确答案为 ACD。

150、

本题考查时事政治。

根据《中华人民共和国统计法》和《全国人口普查条例》的明确规定，2020 年开展第七次全国人口普查。第七次全国人口普查的标准时点为 2020 年 10 月 31 日 24 时。截止目前，还没有开展第十次人口普查的相关规定。

故表述错误。

151、

本题考查时事政治。

2019 年 9 月 25 日 16 时 23 分起，来自七家国内航空公司的七架大型客机依次从北京大兴国际机场起飞，分别前往广州、上海、成都、延安、杭州、福州、厦门，标志着北京大兴国际机场正式通航。

故表述正确。

152、

本题考查马克思主义哲学。

马克思主义哲学是以实践为基础的科学性和革命性相统一的哲学，实践性是它区别于一切旧哲学最主要、

最显著的特征，阶级性则是它的另一显著特征。

故表述正确。

153、

本题考查宏观经济。

提高基准利率可以减少或者消灭负利率，促使大家将钱存入银行，从而减少货币流通，抑制通货膨胀。

故表述错误。

154、

本题考查刑法。

根据 2013 年 4 月 4 日《最高人民法院 最高人民检察院关于办理盗窃刑事案件适用法律若干问题的解释》第三条规定，二年内盗窃三次以上的，应当认定为“多次盗窃”。

故表述正确。

155、

本题考查科技。

光年，长度单位，指光在真空中行走的距离，它是由时间和速度计算出来的，光行走一年的时间叫“一光年”。一光年即约九万四千六百亿公里。

故表述正确。

156、

本题考查科技常识。

南极洲大陆平均海拔近几千米，是地球上平均海拔最高的大洲。欧洲是世界上地势最低的一洲，平均高度只有 340 米。

故表述错误。

157、

本题考查人文历史。

我国京剧脸谱色彩丰富，红色代表忠勇侠义，白色代表阴险狡诈，黑色代表忠耿正直。

故表述错误。

158、

本题考查时事政治。

大亚湾核电站拥有两台百万千瓦级压水堆机组，于 1994 年 5 月正式投入商业运行。大亚湾核电站是中国大陆第一座大型商用核电站，也是全球最大的轻水压水堆核电基地。

故表述错误。

159、

本题考查公文的基本知识。

公文落款处所标明的日期是指成文日期。根据《党政机关公文处理工作条例》第九条规定：“（十二）成文日期。署会议通过或者发文机关负责人签发的日期。联合行文时，署最后签发机关负责人签发的日期。”公文落款处的日期可能是发文机关负责人签发的日期，也可能是会议通过的日期。

故表述正确。



美好的事情即将发生...

something wonderful is about to happen



公考通