



**2023 年军队文职考试公共科目试题及答案**  
**( 考生回忆版 )**

永岸公考网校

[www.chinaexam.org](http://www.chinaexam.org)

## 2023 年军队文职考试公共科目试题（考生回忆版）

## 第一部分 基本知识

一、单项选择题（请根据题目要求，在四个选项中选出一个最恰当的答案。共 50 题，每题 0.5 分，共 25 分。）

1. 习近平同志在中国共产党第二十次全国代表大会上所作报告的题目是：

- A. 坚定不移沿着中国特色社会主义道路前进 为全面建成小康社会而奋斗
- B. 高举中国特色社会主义伟大旗帜 全面建设社会主义现代化国家而团结奋斗
- C. 决胜全面建成小康社会 夺取新时代中国特色社会主义伟大胜利
- D. 全面建设社会主义现代化国家 向第二个百年奋斗目标进军

2. 社会经济的两种基本形态是：

- A. 计划经济与商品经济
- B. 公有制经济与非公有制经济
- C. 产品经济与商品经济
- D. 自然经济与商品经济

3. 当前和今后一个时期，经济发展和经济工作的主线是：

- A. 完善我国社会主义基本经济制度
- B. 完善社会主义市场经济体制
- C. 推进供给侧结构性改革
- D. 建设现代化经济体系

4. 列宁得出社会主义可能在一国或数国首先取得胜利的结论，其依据是：

- A. 帝国主义时代资本主义政治经济发展不平衡的规律
- B. 资本主义必然灭亡、社会主义必然胜利的规律
- C. 资本主义国家无产阶级与资产阶级之间矛盾和斗争的规律
- D. 无产阶级是最先进、最革命的阶级与暴力革命的规律

5. 在世界上首次提出“航天员”概念的是中国科学家：

- A. 钱学森
- B. 王淦昌
- C. 钱三强
- D. 邓稼先

6. 大自然是人类赖以生存发展的基本条件。必须牢固树立和践行“绿水青山就是金山银山”的理念，站在（ ）的高度谋划发展。

- A. 人与自然互惠互利
- B. 人与自然和谐共生
- C. 人与自然平等互惠
- D. 人与自然相互改造

7. 国防是国家生存和发展的安全保障。( ) 是国防最基本的手段。

- A. 政治博弈
- B. 军事活动
- C. 经济建设
- D. 外交斡旋

8. 决定我国现阶段多种所有制形式并存的根本原因是：

- A. 产品经济的存在
- B. 社会生产力的多层次性
- C. 物质利益的差别
- D. 劳动就业的需要

9. 关于联合国，下列说法正确的是：

- A. 联合国是第一次世界大战后建立的国际组织
- B. 《联合国宪章》签署地是法国巴黎
- C. 联合国宗旨是维护成员国之间友好关系
- D. 中国是联合国五大创始成员国之一

10. 党的二十大报告指出，全面加强( )，巩固拓展国防和军队改革成果，完善军事力量结构编成，体系优化军事政策制度。

- A. 科学管理
- B. 战略管理
- C. 依法治军
- D. 军事治理

11. 神话是古代先民对世界起源、自然现象和社会生活的理解和想象。中国古代神话“夸父逐日”出自：

- A. 《列子》
- B. 《淮南子》
- C. 《山海经》
- D. 《太平御览》

12. 党的二十大报告指出，( ) 的历史车轮滚滚向前，祖国完全统一一定要实现，也一定能够实现！

- A. 国家统一、民族复兴
- B. 同胞团聚、民族复兴
- C. 国家统一、国富民安
- D. 同胞团聚，国富民交

13. 2022年11月29日，神舟十五号载人飞船发射取得圆满成功。执行神舟十五号载人飞行任务的航天员是：

- A. 聂海胜、王亚平、蔡旭哲
- B. 陈冬、刘洋、蔡旭哲
- C. 费俊龙、邓清明、张陆
- D. 翟志刚、王亚平、叶光富

14. 在人类社会的发展史上，人们很早就开始探讨道德起源并提出了种种见解和理论。其中，马克思主义道德起源观是：

- A. 生产方式论
- B. 天意神启论
- C. 情感欲望论
- D. 先天人神论

15. 全面建设社会主义现代化国家，最艰巨最繁重的任务仍然在：

- A. 城乡结合部
- B. 城市
- C. 农村
- D. 边远艰苦地区

16. 产业革命也称工业革命，始于18世纪60年代英国，首先从（ ）开始，80年代因蒸汽机的发明和应用得到进一步发展。

- A. 纺织业
- B. 交通运输业
- C. 冶金业
- D. 机器制造业

17. （ ）是社会主义初级阶段的根本任务，是中国特色社会主义政治经济学的重大原则。

- A. 实现共同富裕
- B. 解放和发展社会生产力
- C. 发展公有制经济

D. 为人民谋福利

18. 简单商品经济的基本矛盾是（ ）的矛盾。

- A. 个别劳动和必要劳动
- B. 私人劳动和社会劳动
- C. 生产力和生产关系
- D. 经济基础和上层建筑

19. 《中国人民解放军文职人员条例》规定：军队建立与军人、公务员、事业单位工作人员相独立的文职人员政策制度体系。文职人员政策制度应当体现（ ）特点，构建完善的管理、保障体制。

- A. 军民通用
- B. 军事职业
- C. 非直接参与作战
- D. 专业性、保障性、稳定性较强的

20. “安而不忘危，存而不忘亡，治而不忘乱”，这句话对我们的哲学启示是：

- A. 矛盾双方在一定的条件下是可以相互转化的
- B. 要透过现象认识事物的本质
- C. 事物的质具有不确定性
- D. 矛盾的主要方面决定事物的性质

21. 关于国企混合所有制改革，下列说法错误的是：

- A. 国企引入各类社会投资主体改制后，形成混合所有制企业
- B. 国企引入各类社会投资主体改制后，可由社会资本控股
- C. 国企和民企合作，共同投资设立混合所有制企业
- D. 混合所有制企业，可建立企业员工持股制度

22. 建立现代企业制度的基本前提是：

- A. 资产的最终所有权与财产的归属权相分离
- B. 资产的法人财产权与经营权相分离
- C. 资产的占用权与使用权相分离
- D. 资产的最终所有权与法人财产权相分离

23. 关于对外开放和自力更生的关系，下列说法错误的是：

- A. 对外开放和自力更生能够有效避免金融风险
- B. 对外开放必须以自力更生为基础和前提
- C. 坚持独立自主、自力更生，决不是闭关锁国

D. 对外开放和自力更生是相辅相成、相互促进的

24. ( ) 是中华民族精神之魂，是我们立党立国的重要原则。

- A. 独立自主
- B. 胸怀天下
- C. 开拓创新
- D. 敢于斗争

25. 马克思和恩格斯创立的 ( )，是具有革命意义的两大科学发现。

- A. 辩证唯物主义和历史唯物主义
- B. 阶级斗争和无产阶级专政学说
- C. 科学社会主义和共产主义
- D. 唯物史观和剩余价值学说

26. 1949年11月11日，中国人民解放军空军领导机构在北京成立。担任新中国首任空军司令员的是：

- A. 王海
- B. 萧劲光
- C. 刘亚楼
- D. 张廷发

27. 《宪法》规定，( ) 是中国特色社会主义最本质的特征。

- A. 中国共产党领导
- B. 人民民主专政
- C. 人民代表大会
- D. 民主集中制

28. 中国社会主义市场经济体制是同社会主义基本制度结合在一起的，就是要使市场在社会主义国家宏观调控下对资源配置起基础性作用，使经济活动要遵循 ( ) 的要求，适应供求关系的变化。

- A. 生产力发展规律
- B. 市场活动规律
- C. 价值规律
- D. 商品生产规律

29. ( ) 实现改革由局部探索到系统集成、全面深化的转变，开创了我国改革开放新局面。

- A. 党的十一届三中全会
- B. 党的十八届三中全会
- C. 党的十九届三中全会

- D. 党的十九届六中全会
30. 国防教育贯彻（）、长期坚持、讲求实效的方针。
- A. 国家主导
  - B. 全军配合
  - C. 全民参与
  - D. 学校为主
31. 《周易》是由元语言“一一”与“一”叠加变化成八卦乃至六十四卦，这种元语言类似于数学中的：
- A. 二进制
  - B. 八进制
  - C. 十六进制
  - D. 六十四进制
32. 坚持党对军队绝对领导，处于最高层次、居于统领地位的是：
- A. 党委制
  - B. 政治委员制
  - C. 支部建在连上
  - D. 军委主席负责制
33. （）成为中国全民族抗战的开端，由此开辟了世界反法西斯战争的东方主战场。
- A. 九一八事变
  - B. 平型关大捷
  - C. 淞沪会战
  - D. 卢沟桥事变
34. 根据《中国人民银行法》，货币政策的目标是（），并以此促进经济增长。
- A. 平衡财政收支
  - B. 促进货币升值
  - C. 调节社会总需求
  - D. 保持货币币值的稳定
35. （）是民族复兴的根基，社会稳定是国家强盛的前提。
- A. 强大军队
  - B. 国家安全
  - C. 巩固国防
  - D. 人民安全

36. ( ) 是社会主义民主政治的本质属性，是最广泛、最真实、最管用的民主。
- A. 全流程人民民主
  - B. 全方位人民民主
  - C. 全领域人民民主
  - D. 全过程人民民主
37. 资本主义所有制的本质特征是：
- A. 生产资料归资本家占有
  - B. 生活资料归私人占有
  - C. 资本对劳动的雇佣和剥削
  - D. 劳动者与生产资料相分离
38. 选举是公民的一项重要权利。下列关于我国选举原则和程序的表述正确的：
- A. 我国选举制度遵循平等原则，其中城乡平等体现为城乡同比例
  - B. 我国市、县、乡三级的选举实行选民直接选举制度
  - C. 经直接选举当选的代表可向选举其的人大常委会书面辞职
  - D. 如果少数民族的人口较少，则可以只要县、乡两级代表
39. ( ) 是构筑法治国家的基础。
- A. 法治政府
  - B. 法治监察
  - C. 法治社会
  - D. 法制监督
40. ( ) 是形成商品价值的唯一源泉。
- A. 社会劳动
  - B. 具体劳动
  - C. 私人劳动
  - D. 抽象劳动
41. ( ) 是全面建设社会主义现代化国家的基础性、战略性支撑。
- A. 国防、外交和经济
  - B. 教育、科技和人才
  - C. 国防、科技和教育
  - D. 教育、科技和经济
42. 《民法典》规定，处理民事纠纷，应当依照法律；法律没有规定的，可以适用习惯，但是不得：



- A. 违背个人意愿
- B. 违背公序良俗
- C. 违背基本良知
- D. 违背自然公理

43. ( ) 犯故意杀人、故意伤害罪，致人死亡或者以特别残忍手段致人重伤造成严重残疾，情节恶劣，经最高人民检察院核准追诉的，应当负刑事责任。

- A. 已满十四周岁不满十六周岁的人
- B. 已满八周岁不满十六周岁的人
- C. 已满十二周岁不满十四周岁的人
- D. 已满十周岁的人

44. 建设中国特色社会主义法治体系，要加快形成完备的法律规范体系，高效的( )，严密的法治监督体系，有力的：

- A. 党内法规体系 法治保障体系
- B. 法治实施体系 法治运行体系
- C. 党内法规体系 法治运行体系
- D. 法治实施体系 法治保障体系

45. 粮食安全是“国之大者”。要全方位夯实粮食安全根基，牢牢守住( )亩耕地红线，确保中国人的饭碗牢牢端在自己手中。

- A. 十四亿
- B. 十六亿
- C. 十八亿
- D. 二十亿

46. 价值形成过程是生产资料价值转移和( )的过程。

- A. 社会必要劳动形成
- B. 社会分工协作
- C. 资本家与工人斗争
- D. 活劳动创造新价值

47. 关于法的特征，下列表述错误的是：

- A. 法由国家制定或认可
- B. 法由国家强制力保障实施
- C. 法具有普遍性，对特定人群有效

D. 法是调整行为的社会规范

48. 《论语》中最能体现教育公平的是：

- A. 仁者爱人
- B. 有教无类
- C. 因材施教
- D. 温故知新

49. 《国防法》规定，（ ）领导和管理中国人民解放军、中国人民武装警察部队的建设，制定规划、计划并组织实施。

- A. 全国人民代表大会
- B. 中央军事委员会
- C. 国家主席
- D. 国务院

50. 《著作权法》所称的作品，是指文学、艺术和科学领域内具有（ ）并能以一定形式表现的智力成果。

- A. 新颖性
- B. 科学性
- C. 独创性
- D. 新奇性

**二、多项选择题（请根据题目要求，在五个选项中选出两个或两个以上恰当的答案，错选或多选均不得分，少选且选择正确的每个选项得 0.3 分。共 6 题，每题 1.5 分，共 9 分。）**

51. （多选题）劳动者可以解除劳动合同的情形有：

- A. 劳动者提前三十日以书面形式通知用人单位的
- B. 用人单位未按照劳动合同约定提供劳动保护或者劳动条件的
- C. 劳动者在试用期内随时通知用人单位辞职并离岗的
- D. 用人单位未及时足额支付劳动报酬的
- E. 用人单位以暴力、威胁或者非法限制人身自由的手段强迫劳动者劳动的

52. （多选题）“大市场”和“小政府”是成熟市场经济条件下的一种合理选择。根据这一思路，属于政府职能范围的有：

- A. 制定市场规则、维护市场秩序
- B. 对资源进行配置和再配置
- C. 调节收入分配，避免两极分化
- D. 通过参与经济竞争干预经济运行

E. 制定宏观经济发展计划和产业政策

53. (多选题) 关于“一带一路”，下列说法正确的有：

- A. 促进了沿线国家共同繁荣
- B. 由发达国家发起并主导
- C. 由沿线相关合作国家共商、共建、共享
- D. 通过政策沟通、设施联通、贸易畅通、资金融通、民心相通，铺就互利共赢之路
- E. 目的是建设开放、包容、竞争、共赢的区域经济共同体

54. (多选题) 党的二十大报告指出，深入推进新时代党的建设新的伟大工程。下列表述正确的有：

- A. 用党的创新理论武装全党是党的思想建设的根本任务
- B. 全面建设社会主义现代化国家、全面推进中华民族伟大复兴。关键在党
- C. 全面从严治党永远在路上
- D. 把新时代中国特色社会主义制度转化为坚定理想
- E. 全面推进党的自我净化、自我完善、自我革新和自我提高

55. (多选题) “三个务必”是我们党从百年奋斗历程中总结出来的宝贵经验，具体内容是：

- A. 务必保持谦虚、谨慎、不骄、不躁的作风
- B. 务必一不怕苦、二不怕死
- C. 务必不忘初心、牢记使命
- D. 务必谦虚谨慎、艰苦奋斗
- E. 务必敢于斗争、善于斗争

56. (多选题) 党的二十大报告指出，我们要坚持对马克思主义的坚定信仰、对中国特色社会主义的坚定信念，坚定（ ），以更加积极的历史担当和创造精神为发展马克思主义作出新的贡献。

- A. 道路自信
- B. 理论自信
- C. 制度自信
- D. 文化自信
- E. 组织自信

复合题

党的十八大以来，我们党着眼于实现中华民族的伟大复兴的中国梦，深入推进政治建军、改革强军、科技强军、人才强军、依法治军，大力推进国防和军队现代化建设，引领强军事业取得历史性成就、发生历史性变革。

57. 以习近平同志为核心的党中央，把握强国强军时代要求，与时俱进创新党的军事指导理论，形成了：

- A. “十四个坚持”
- B. 习近平新时代中国特色社会主义思想
- C. 新时代党的强军目标
- D. 习近平强军思想

58. 十八大以来，我们党大刀阔斧深化国防和军队改革，裁减现役员额（ ）万胜利完成。

- A. 二十
- B. 三十
- C. 五十
- D. 一百

### 复合题

1950年10月19日，由中华优秀儿女组成的中国人民志愿军，雄赳赳，气昂昂，跨过鸭绿江，弘扬和光大了中国共产党和人民军队的革命精神，创建了威武雄壮的战争伟业。全国各族人民举国同心支撑起这场事关国家和民族前途命运的伟大抗争，最终用伟大胜利向世界宣告“西方侵略者几百年来只要在东方一个海岸上架起几尊大炮就可霸占一个国家的时代是一去不复返了”。

59. 全国各条战线和广大人民积极响应党和政府（ ）的伟大号召，开展了轰轰烈烈的抗美援朝运动。

- A. 抗美援朝，保家卫国
- B. 保卫和平，抵抗侵略
- C. 抵抗侵略，保家卫国
- D. 抗美援朝，保卫和平

60. 抗美援朝战争期间，许多作家亲赴朝鲜战场，用笔墨讴歌志愿军将士。其中，巴金创作了：

- A. 《谁是最可爱的人》
- B. 《上甘岭》
- C. 《我们会见了彭德怀司令员》
- D. 《三千里江山》

## 第二部分 岗位能力

一、言语理解与表达（请根据题目要求，在四个选项中选出一个最恰当的答案。共15题，每题1分，共15分。）

61. 下列各句中，没有歧义的是：

- A. 我们需要相信自己的人
- B. 三个教育局的领导听了他的课
- C. 小明和小军的哥哥在操场上踢足球

D. 请你告诉他要早一点回家做作业

62. 下列各句中，没有语病的是：

A. 上海科技开发中心聚集了一批热心于科技开发服务、善于经营管理的专业化人才

B. 每当我回忆起和他朝夕相处的一段生活，他那和蔼可亲的音容相貌，循循善诱的教导，又重新出现在我的面前

C. 《青春之歌》这部小说出色地塑造了共产党员卢嘉川、江华、林红等人的英雄事迹

D. 只有积极引导牧民开展多种经营，控制牲畜数量，降低对牧草的需求，退牧还草，才能为从根本上拯救纯种野牦牛提供可能

63. 关于“截止”和“截至”，用法正确的是：

①报名在昨天已经截止。

②截至九月中旬，该项目建设已完成全年施工计划的 90%

③截止到今天中午 12 点，第一次彩排的日期才确定下来

④截止上周日，对社区所有八十岁以上老人的健康监测均已完成

A. ①②③④

B. ①③④

C. ①②④

D. ①②③

64. 填入横线处最恰当的一组连接词是：

医德评价方式是对医学工作者的医学道德状况进行判断的特有方式。\_\_\_\_\_明确医学评价的重要作用、意义、依据和标准，\_\_\_\_\_使用一定的载体，运用一定的方式方法，\_\_\_\_\_把医学道德的原则和规范转化为医学工作者的行为，\_\_\_\_\_有效地扬善弃恶，树立良好的医德医风。

A. 首先要 才能 才能 或者

B. 除了要 还要 才能 才能

C. 不但要 而且 或者 才能

D. 只有 才能 不但 还能

65. 下面一段话中，多余的一句是：

①我们每一个人都应该去植树，不能去毁树。②植树和毁树是一对矛盾。③要做到这一点是很不容易的。④现在社会上还有毁树的现象。

A. ①

B. ③

C. ②

D. ④

66. 不言而喻，沙尘暴对人类来说，是一个气象灾害，但意想不到的是，沙尘暴对海洋来说反而是一件好事，这是为什么呢？在世界气象日主题研讨会上，气象局杨研究员解释，这是因为沙尘暴里会带着很多营养盐，这些营养盐最后会沉降在海洋里。打个比方，陆地上的植物生长需要施肥，那么海洋也是需要肥料的，这个来源分两种，一种就是从陆地上来，另一种是海洋洋流从海底带上来。所以沙尘暴这件事也是需要从两面来看，对人类来讲是一种灾害，对海洋来讲却是一件非常好的事情。

最适合做这段文字的标题是：

- A. 沙尘暴竟然还有好处？
- B. 海洋，我们的气候和天气
- C. 海洋的肥料从哪里来？
- D. 沙尘暴不再是一种灾害

67. 中国古代家训家教家风大多涉及“生活之道，待人之道，交友之道，读书之道”，具有“修齐治平”的特点。伴随着城市化进程的不断推进，现代家庭结构日益原子化，人们工作生活由原来的熟人社会进入生人社会。因此，我们在传承中华传统家训家教家风时，要对其中有关重农抑商、亲熟远生、封闭保守、轻视法治等内容进行创造性转化，以适应现代人生产生活方式和开放社会的需要。

这段文字的主旨是：

- A. 传统家训家教家风具有“修齐治平”特点。
- B. 传承传统家训家教家风需要对其进行创造性转化。
- C. 城市化导致家庭结构原子化、社会环境陌生化。
- D. 传统家训家教家风不适应现代人生活方式和开放社会的需要。

68. 作为一种购物方式，“秒杀”带来了全新体验，却也留下了复杂况味。转瞬之间，有惊喜也有失望，有欢乐也有忧愁。心理学家说，“秒杀”也是一次心理测验，淡然处之则自得其乐，而那些渴望“一击即中”、希望“马上就有”、总想“付出少收益大”的，则容易陷入纠结的泥沼。看来，“秒杀”可以有，但“秒杀心态”值得商榷。

下列诗句中，否定“秒杀心态”的是：

- A. 白发无凭吾老矣，青春不再汝知乎
- B. 人生得意须尽欢，莫使金樽空对月
- C. 大鹏一日同风起，扶摇直上九万里
- D. 千淘万漉虽辛苦，吹尽黄沙始到金

69. 下列各句中，标点符号使用有误的是：

- A. 我国南海蕴藏着丰富的海洋动力资源，如潮汐能、波能、温差能、密度差能等……

B. 唐代的刘知几在《史通·叙事》中提出：“夫国史之美者，以叙事为工；而叙事为工者，以简要为主。”

C. 京剧雍容华美，昆曲典雅精致，越剧婉转悠扬，秦腔朴实无华，梆子戏高亢悲凉；中国的戏曲艺术博大精深，异彩纷呈。

D. “我们拥有百分之百‘中国芯’，尽管许多技术已全球领先，但拼搏和创新是无止境的，我们不能停下来。”这是陈总对记者说的话。

70. 环境保护主义是一种信念，是一种重建人与自然关系的强烈愿望。要实现这一愿望，就必须树立一种自然共同体的意识，即将人在共同体中的征服者角色，转变为这一共同体中的普通一员。它暗含着对共同体中每个成员的尊敬，也包括对这个共同体本身的尊敬。只有树立了这样的一种道德意识，人才有可能在运用权利时感到所负有的对这个共同体的义务。这不仅仅依赖对自然本质的科学理解，也依赖在了解基础上建立起的对自然的感情。

上述文字最后一句话中的“这”指的是：

- A. 自然共同体意识的树立
- B. 对共同体成员的尊敬
- C. 对共同体本身的尊敬
- D. 对自然共同体的义务

71. 填入横线处最恰当的是：

苦难可以激发生机，也可以扼杀生机；可以磨炼意志，也可以摧垮意志；可以启迪智慧，也可以蒙蔽智慧；可以高扬人格，也可以贬损人格——\_\_\_\_\_。

- A. 迎难而上是唯一选择
- B. 无论你是否以苦为乐
- C. 全看受苦者素质如何
- D. 人生哪可能一帆风顺

72. 下列各句中，使用成语恰当的是：

- A. 看他低着头一言不发，不停地抽泣，定有难言之隐。
- B. 照片中两位年轻人，左边的是一位英俊的解放军战士，右边的是一位长相文静的莘莘学子。
- C. 每个人都有不足之处，你不应该求全责备他的缺点。
- D. 在语文老师的严格要求下，我逐渐改正了文不加点的毛病。

73. 填入横线处最恰当的一组连接词是：

通古今就要学习，\_\_\_\_\_我们要学习，后人\_\_\_\_\_要学习，\_\_\_\_\_学习也有它的普遍性和永久性。

- A. 不但 也 所以
- B. 因为 便 何况

- C. 假如 又 因此
- D. 一旦 更 于是

74. 虽然 17 世纪中叶起就有不少欧洲人前往中国传教、经商，但直到 18 世纪 30 年代，欧洲文艺界对中国戏剧的了解依然局限于马若瑟做了诸多删减的《赵氏孤儿》译本，以及杜赫德在《中国通志》中极为简略的介绍。所以，中国古典戏剧在欧洲传播的初期，全译本并不多，而改编创作也并非是为了深入地研究中国古典戏剧本身独有的艺术价值。

这段文字的主要观点是：

- A. 中国古典戏剧在欧洲传播历史悠久
- B. 欧洲观众对中国古典戏剧了解有限
- C. 中国古典戏剧与西方戏剧完全不同
- D. 中国古典戏剧作品在欧洲被改编演出

75. 下列语句排序正确的是：

①这一工作的价值之一在于，对内部变率如何影响季风降水的年代际变化有了更清晰的认识，为季风降水的短期预估提供了宝贵的信息。

②研究表明，当北大西洋呈暖海温异常时，或赤道东太平洋呈冷海温异常、副热带西太平洋呈暖海温异常时，海洋能够通过加热上空大气，引起热带地区和季风区对流层的温度差。

③大气环流场的年代际变化，主要受热带太平洋和北大西洋海温的调控作用。

④这就有利于对流层厚度的经向梯度增大、季风环流增强。

⑤有利于更多水汽输送至季风区，最终引起了季风降水的增多。

- A. ①②③④⑤
- B. ②③④⑤①
- C. ③②④⑤①
- D. ③④⑤②①

**二、数量关系（请根据题目要求，在四个选项中选出一个最恰当的答案。共 10 题，每题 1.5 分，共 15 分。）**

76. 现有一项工程，若由甲施工队单独施工要 10 天完成。乙施工队单独施工要 15 天完成，丙施工队单独施工要 12 天完成。计划先由丙施工队单独施工，3 天后乙施工队加入施工，乙、丙共同施工 3 天后，剩余任务由甲施工队单独完成。则完成该工程一共需用（ ）天。（注：假设各施工队的施工效率保持不变。）

- A. 9
- B. 10
- C. 11



D. 12

77. 一列匀速行驶的火车通过一座 780 米的桥梁用了 18 秒，通过一根电线杆用了 5 秒，则这列火车的长度是：

A. 150 米

B. 156 米

C.  $216\frac{2}{3}$  米

D. 300 米

78. 三角形 ABC 的面积为 S，P 为三角形 ABC 内一点，则三角形 PAB 的面积小于  $\frac{S}{4}$  的概率是：

A.  $\frac{1}{4}$

B.  $\frac{7}{16}$

C.  $\frac{9}{16}$

D.  $\frac{3}{4}$

79. 某人的藏书中，文学类占  $\frac{1}{5}$ ，科技类占  $\frac{1}{3}$ ，科技类藏书比文学类藏书多 100 册，则其文学类藏书的册数是：

A. 150

B. 250

C. 350

D. 750

80. 选择最合理的一项来填充所给数列的空缺项，使之符合原数列的排列规律：

$\frac{2}{3}, \frac{1}{4}, \frac{2}{15}, \frac{1}{12}, \frac{2}{35}, ( )$

A.  $\frac{1}{86}$

B.  $\frac{1}{32}$

C.  $\frac{1}{24}$

D.  $\frac{1}{16}$

81. 一个罐子里有 5 种颜色的糖果各 6 颗，每次随机取出一颗，为保证取用的糖果中有 5 颗颜色相同，则至少应该取（ ）次。

- A. 6
- B. 11
- C. 16
- D. 21

82. 有两个等边三角形，它们的边长之比为 3 : 2，则它们的面积之比是：

- A. 4 : 9
- B. 3 : 2
- C. 9 : 4
- D. 27 : 8

83. 选择最合理的一项来填充所给数列的空缺项，使之符合原数列的排列规律：

2, 2, 15, 41, 80, ( ), 197。

- A. 125
- B. 130
- C. 132
- D. 138

84. 若一个三位正整数等于其各位数字的立方之和，则称该数为“水仙花数”。现有 4 个三位数：152, 153, 370, 371，其中“水仙花数”的个数是：

- A. 1
- B. 2
- C. 3
- D. 4

85. 某品牌服装店有三款最畅销服装 A、B、C。店方发现：①进店客户购买 A 款服装的概率为 40%；②如果

客户购买 A 款服装，则其购买 B 款服装的概率为 60%，否则购买 B 款服装的概率为 30%；③如果客户既不购买 A 款服装也不购买 B 款服装，则其购买 C 款服装的概率为 90%，否则购买 C 款服装的概率为 10%。按进店客户购买 A、B、C 三款服装的概率大小排序，正确的是：

- A.  $A > B > C$
- B.  $C > B > A$
- C.  $B > C > A$
- D.  $A > C > B$

三、判断推理（请根据题目要求，在四个选项中选出一个最恰当的答案。共 10 题，每题 1.5 分，共 15 分。）

86. 张老师和李老师是某学院的教师，该学院的所有教职工都是运动爱好者。他们或者喜欢游泳，或者喜欢跑步。张老师喜欢游泳，李老师不喜欢跑步。如果以上论述为真，则下列各项正确的是：

- ①李老师喜欢游泳
- ②张老师不喜欢跑步
- ③该学院的教职工不喜欢游泳的人喜欢跑步
- ④该学院的教职工一半喜欢游泳，一半喜欢跑步

- A. 仅①
- B. ①、②
- C. ①、③
- D. ②、③、④

87. 根据国家统计局数据，2022 年一季度，全国工业生产者出厂价格同比上涨 8.7%。其中，3 月份同比上涨 8.3%，涨幅比上月回落 0.5 个百分点，环比上涨 1.1%。据此分析，下列结论错误的是：

- A. 2022 年 3 月份全国工业生产者出厂价格比 2022 年 2 月份上涨 1.1%
- B. 2022 年 2 月份全国工业生产者出厂价格比 2022 年 1 月份上涨 7.2%
- C. 2022 年 2 月份全国工业生产者出厂价格比 2021 年 2 月份上涨 8.8%
- D. 2022 年 1-2 月份全国工业生产者出厂价格同比涨幅超过 8.7%

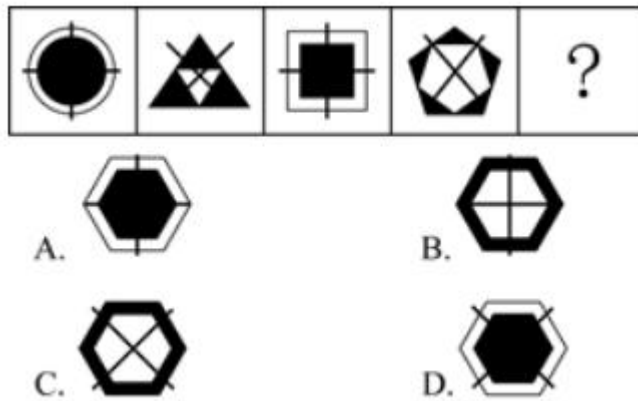
88. 职工因工作需要可以领用某种物资，该物资领用规定为：职工每月最多领用 2 件，连续三个月最多领用 4 件。下列四个选项是职工连续 12 个月的领用计划，不可行的是：

- A. 2, 2, 0, 1, 2, 1, 1, 2, 0, 2, 2, 0
- B. 2, 0, 2, 0, 2, 2, 0, 2, 2, 1, 1, 2
- C. 1, 1, 2, 1, 1, 2, 1, 1, 2, 1, 1, 2
- D. 2, 1, 1, 2, 0, 2, 2, 0, 2, 1, 1, 2

89. 甲、乙、丙、丁四人参加考试，成绩各不相同。对于谁的成绩最高，甲和乙都说“不是我”，丙说“是丁”，丁说“是乙”。已知四人中有且仅有一人的说法符合实际情况。那么四人中成绩最高的是：

- A. 甲
- B. 乙
- C. 丙
- D. 丁

90. 选择最合适的一项填入问号处，使之呈现一定的规律性的是：



- A. 如上图所示
- B. 如上图所示
- C. 如上图所示
- D. 如上图所示

91. 甲、乙、丙、丁四人参加一项测试，试题为 10 道判断题，每题 1 分。四人的答题情况如下表所示。已知四人一共答错 10 道题，成绩各不相同，且甲的成绩不是最高的。那么可以确定的是：

题号	1	2	3	4	5	6	7	8	9	10
甲	√	×	√	√	×	×	×	×	×	√
乙	×	√	√	√	√	×	×	√	√	√
丙	×	×	×	√	×	√	×	√	×	√
丁	×	√	√	√	√	×	×	×	×	√

- A. 甲得了 8 分
- B. 乙的成绩排名第二
- C. 丙得了 6 分
- D. 丁的成绩排名第一

92. 小王和小刘作为面试官对甲、乙、丙三位毕业生进行面试。面试后，小王认为可以录用甲和乙，不录用

丙。小刘表示反对。下列准确表达小刘意见的选项是：

- A. 录用丙，但不录用甲和乙
- B. 如果录用甲和丙，则不能录用乙
- C. 如果不录用丙，那么不能同时录用甲和乙
- D. 如果录用丙，那么甲和乙至多录用一人

93. 选择最合适的一项填入问号处，使之呈现一定的规律性的是：



- A. 搬
- B. 插
- C. 题
- D. 撑

94. 虎山长城遗址除一号台址发现很少的残砖之外，其他地方均没有发现城砖。虎山村及附近村庄也没有从长城上拆下城砖用于民房建筑的情况。由此可以推测，虎山长城用砖是极少的。

下列选项中最能支持上述观点的是：

- A. 此地山高坡陡，城砖难以运进运出
- B. 虎山长城遗址附近没有发现古砖窑
- C. 当地县志记载虎山长城是夯土筑成
- D. 此地土质极差，不宜烧制长城用砖

95. 某单位从甲、乙、丙、丁四人中选派若干人执行专项任务，要求如下：

①若甲去，则乙不去；②若丙去，则乙也去；③若甲不去，则丁去。

下列关于选派方案的判断，不满足要求的是：

- A. 可让甲或丁单独去，也可让该二人同去
- B. 若让乙去，则丁也要去
- C. 若丁不去，则甲单独去
- D. 可只让乙、丙二人同去

四、资料分析(请根据题目要求，在四个选项中选出一个最恰当的答案。共 15 题，每题 1 分，共 15 分。)

材料一：

2021年某省生产总值为124370亿元，同比增长8.0%，两年平均增长5.1%。其中，第一产业总值为5004亿元，同比增长7.9%，两年平均增长5.8%；第二产业总值为50219亿元，同比增长8.7%，两年平均增长5.2%；第三产业总值为69147亿元，同比增长7.5%，两年平均增长5.0%。

96. 2020年该省生产总值是（ ）亿元。

- A. 101526
- B. 115157
- C. 120245
- D. 123576

97. 2021年该省第三产业的增加值是（ ）亿元。

- A. 3425
- B. 4075
- C. 4754
- D. 4824

98. 2021年三类产业总值占该省生产总值的比重，同比增加的是：

- A. 第一产业总值
- B. 第二产业总值
- C. 第三产业总值
- D. 第一产业总值和第二产业总值

99. 2020年该省增速最快的是：

- A. 生产总值
- B. 第一产业总值
- C. 第二产业总值
- D. 第三产业总值

#### 材料二：

据报道，2021年我国网民总体规模持续增长。截至2021年12月，我国网民规模达10.32亿，较2020年12月增长4296万，互联网普及率达73.0%。其中农村网民规模已达2.84亿，农村地区互联网普及率为57.6%，较2020年12月提升1.7个百分点，城乡地区互联网普及率差异较2020年12月缩小0.2个百分点。网民人均每周上网时长达到28.5个小时，较2020年12月提升2.3个小时，互联网深度融入人民日常生活。在线办公、在线医疗、网上外卖、网约车用户规模分别达4.69亿、2.98亿、5.44亿和4.53亿，同比分别增长35.7%、38.7%、29.9%和23.9%。

100. 2021年我国网民规模同比增长：

- A. 1.6%
- B. 4.2%
- C. 4.3%
- D. 6.0%

101. 2021 年 12 月，城乡地区互联网普及率差异是（ ）个百分点。

- A. 15.4
- B. 23.6
- C. 28.4
- D. 30.8

102. 按 2020 年 12 月用户规模从高到低排序，正确的是：

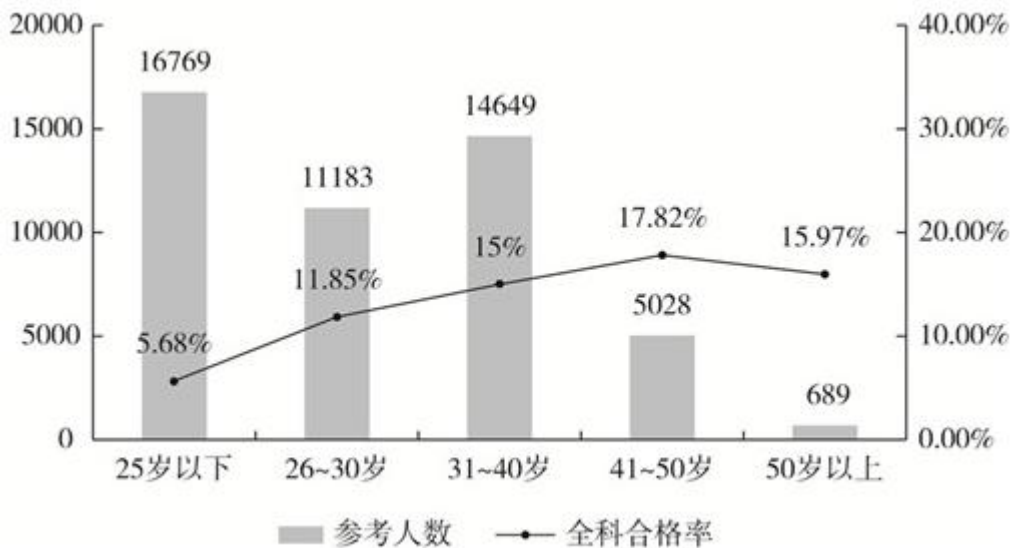
- A. 在线办公、网上外卖、网约车、在线医疗
- B. 网上外卖、网约车、在线办公、在线医疗
- C. 网上外卖、在线办公、网约车、在线医疗
- D. 在线办公、网约车、网上外卖、在线医疗

103. 2021 年 12 月，我国网民人均每周上网时长同比增长率是：

- A. 7.8%
- B. 8.1%
- C. 8.8%
- D. 9.7%

**材料三：**

2022 年某考试参考人数和全科合格率统计图



104. 2022 年该考试全科合格的 30 岁及以下人数是:

- A. 1325
- B. 2197
- C. 2277
- D. 3149

105. 2022 年该考试全科合格的人数是:

- A. 4832
- B. 5480
- C. 5800
- D. 6281

106. 下列关于 2022 年该考试全科合格率（记为  $P$ ）的判断，正确的是:

- A.  $P \leq 11.85\%$
- B.  $11.85\% < P \leq 15.00\%$
- C.  $15.00\% < P \leq 15.97\%$
- D.  $P > 15.97\%$

107. 2022 年该考试全科合格人员中，31—40 岁人员所占比例与 26—30 岁人员所占比例相比，:

- A. 低了 6.81 个百分点
- B. 低了 2.53 个百分点
- C. 高了 3.15 个百分点
- D. 高了 15.91 个百分点

**材料四:**

2021 年全国规模以上工业发电量月度走势图





108. 2021年1—12月，日均发电量实现环比增长的月份有（ ）个。（注：1—2月份合并计算。）

- A. 5
- B. 6
- C. 9
- D. 11

109. 按月度分析，2021年10月份发电量与2021年4月份相比：

- A. 增加了
- B. 减少了
- C. 一样多
- D. 无法判断

110. 2021年规模以上工业发电量超过7000亿千瓦时的月份至少有（ ）个。

- A. 1
- B. 2
- C. 3
- D. 4

## 参考答案

## 1、本题考查政治常识。

A项错误，2012年11月8日上午，中国共产党第十八次全国代表大会在人民大会堂开幕。胡锦涛代表第十七届中央委员会向大会作了题为《坚定不移沿着中国特色社会主义道路前进 为全面建成小康社会而奋斗》的报告。与题干表述无关。

B项正确，2022年10月16日上午10时，中国共产党第二十次全国代表大会在北京人民大会堂开幕。党的二十大是在全党全国各族人民迈上全面建设社会主义现代化国家新征程、向第二个百年奋斗目标进军的关键时刻召开的一次十分重要的大会。习近平代表第十九届中央委员会向大会作了题为《高举中国特色社会主义伟大旗帜 为全面建设社会主义现代化国家而团结奋斗》的报告。

C项错误，2017年10月18日上午，中国共产党第十九次全国代表大会在人民大会堂开幕。习近平代表第十八届中央委员会向大会作了题为《决胜全面建成小康社会 夺取新时代中国特色社会主义伟大胜利》的报告。与题干表述无关。

D项错误，中国共产党第二十次全国代表大会，是在全党全国各族人民迈上全面建设社会主义现代化国家新征程、向第二个百年奋斗目标进军的关键时刻召开的一次十分重要的大会。与题干表述无关。

故正确答案为B。

## 2、本题考查经济常识。

A项错误，计划经济是指以国家指令性计划来配置资源的经济形式，是一种配置资源的手段。不属于社会经济基本形态范畴。

B项错误，公有制经济与非公有制经济是按照生产资料所有者的不同而划分的两种经济成分。在我国，公有制经济，是指国有经济、集体经济以及混合所有制经济中的国有成分和集体成分。而非公有制经济则主要包括个体经济、私营经济、外资经济等。公有制经济与非公有制经济不属于社会基本经济形态范畴。

C项错误，产品经济是以生产力高度发达为基础，以全社会经济利益的一致性为前提，是马克思主义对未来共产主义的设想。不属于人类社会目前所经历的两种基本经济形态。

D项正确，自然经济和商品经济是人类社会发展至今所经历的两种基本经济形态。自然经济是与较低的社会生产力发展水平相适应的经济形态，是为了直接满足生产者自己或本经济单位需要的、自给自足的经济形态。商品经济是以社会化大生产为基础、以交换为目的的经济形态。商品经济经历了简单商品经济和发达商品经济两个发展阶段，市场经济是商品经济的发达阶段。

故正确答案为D。

## 3、本题考查政治常识。

推进供给侧结构性改革，是以习近平同志为核心的党中央深刻洞察国际国内形势变化，科学把握发展规律和我国现阶段经济运行主要矛盾，作出的具有开创性、全局性、长远性的重大决策部署，是习近平新时代中国

特色社会主义思想的重要理论创新成果，也是解决突出矛盾和问题、推动经济社会持续健康发展的治本良方。

《中共中央关于制定国民经济和社会发展第十四个五年规划和二〇三五年远景目标的建议》强调，“十四五”时期我国经济运行主要矛盾仍然是供给侧结构性的，必须坚持以供给侧结构性改革为主线不动摇。

故正确答案为 C。

4、本题考查政治常识。

19 世纪末 20 世纪初，自由资本主义发展到帝国主义阶段，资本主义世界的经济政治情况发生了新的变化。资本主义各国经济政治发展不平衡的状况进一步加剧和尖锐化。列宁总结了当时变化了的新情况，深刻论述了社会主义革命可能首先在一个或者几个国家内获得胜利的理论。列宁于 1915 年 8 月在《论欧洲联邦口号》一文中明确指出，经济和政治发展的不平衡是资本主义的绝对规律。由此就应得出结论：社会主义可能首先在少数甚至在单独一个资本主义国家内获得胜利。

故正确答案为 A。

5、1967 年 9 月 11 日，钱学森在返回式卫星方案论证会（即“9·11 会议”）开幕式的讲话中，首次提出了“航天”一词。1970 年，钱学森提出了“航天员”一词。当时，国外一般称“宇航员”。钱学森说：“我们还是叫‘航天员’好，因为我们有天、海、空的领域划分，这样比较规范。”

故正确答案为 A。

6、党的二十大报告指出，大自然是人类赖以生存发展的基本条件。尊重自然、顺应自然、保护自然，是全面建设社会主义现代化国家的内在要求。必须牢固树立和践行绿水青山就是金山银山的理念，站在人与自然和谐共生的高度谋划发展。我们要推进美丽中国建设，坚持山水林田湖草沙一体化保护和系统治理，统筹产业结构调整、污染治理、生态保护、应对气候变化，协同推进降碳、减污、扩绿、增长，推进生态优先、节约集约、绿色低碳发展。

故正确答案为 B。

7、国防的手段是指为达到国防目的而采取的方法和措施。根据《中国人民解放军军语》关于国防概念的释义，我国国防的手段包括军事活动以及与军事有关的政治、经济、外交、科技、教育等方面的活动。只要是有利于捍卫国家的主权、保卫国家的统一、领土完整和安全的国防目的，都是国防的重要手段。在对国家利益的各种形式的侵犯中，威胁和危害最大的是武装侵犯，包括军事威胁、军事干预、占领部分领土、武装掠夺经济资源、发动侵略战争等。对付武装入侵和武装暴乱最根本的和最有效的莫过于采取军事手段，因此，在实现国防目的的诸手段中，军事手段始终是国防的最主要手段，也是最基本的手段。

故正确答案为 B。

8、生产力是人类改造自然并从自然界获得生存和发展的物质资料的能力。从根本上来说，我国以公有制为主体，多种所有制经济共同发展的基本经济制度是由社会主义初级阶段的生产力发展水平所决定的。因为现阶段，我国还处于社会主义初级阶段，各方面发展还不均衡。最大的矛盾是人民日益增长的美好生活需要和不平

衡不充分的发展之间的矛盾。因此，我国社会生产力多层次性是现阶段多种所有制形式并存的根本原因。而产品经济的存在、物质利益的差别以及劳动就业的需要都是影响因素，并非根本原因。

故正确答案为B。

9、本题考查世界历史。

A项错误，联合国是第二次世界大战后成立的一个由主权国家组成的政府间国际组织。

B项错误，《联合国宪章》签署地是美国旧金山。1945年10月24日，在美国旧金山签订的《联合国宪章》生效，联合国正式成立。

C项错误，《联合国宪章》中规定，联合国的宗旨为：

一、维持国际和平及安全；并为此目的：采取有效集体办法，以防止且消除对于和平之威胁，制止侵略行为或其他和平之破坏；并以和平方法且依正义及国际法之原则，调整或解决足以破坏和平之国际争端或情势。

二、发展国际以尊重人民平等权利及自决原则为根据之友好关系，并采取其他适当办法，以增强普遍和平。

三、促成国际合作，以解决国际属于经济、社会、文化及人类福利性质之国际问题，且不分种族、性别、语言或宗教，增进并激励对于全体人类之人权及基本自由之尊重。

四、构成一协调各国行动之中心，以达成上述共同目的。

D项正确，中国是联合国五大创始成员国之一，是第一个在《联合国宪章》上签字的国家。1945年6月26日，50国代表签署了《联合国宪章》。同年10月24日，中、法、苏、英、美和其他多数签字国递交批准书后，宪章生效，联合国正式成立。

故正确答案为D。

10、本题考查时事政治。

习主席在党的二十大报告中指出，全面加强军事治理，巩固拓展国防和军队改革成果，完善军事力量结构编成，体系优化军事政策制度，实施国防科技和武器装备重大工程，建强新型军事人才培养体系，加强依法治军机制建设和战略规划。

故正确答案为D。

11、本题考查人文历史。

A项错误，《列子》又名《冲虚经》，属于道家的一部经典著作。其思想主旨近于老庄，追求了一种冲虚自然的境界。

B项错误，《淮南子》（又名《淮南鸿烈》《刘安子》），是西汉皇族淮南王刘安及其门客收集史料集体编写而成的一部哲学著作。

C项正确，“夸父追日”出自《山海经》。相传在黄帝时期，夸父族首领夸父想要把太阳摘下，于是开始逐日，和太阳赛跑，在口渴时喝干了黄河、渭水之后，在奔于大泽路途中渴死，手杖化作桃林，身躯化作夸父山。夸父逐日的故事，反映了中国古代先民了解自然、战胜自然的愿望。

D项错误,《太平御览》是宋代著名的类书,由李昉、李穆、徐铉等学者奉敕编纂。全书以天、地、人、事、物为序,分成五十五部,可谓包罗古今万象。

故正确答案为C。

12、本题考查时事政治。

习主席在党的二十大报告中指出,国家统一、民族复兴的历史车轮滚滚向前,祖国完全统一一定要实现,也一定能够实现!

故正确答案为A。

13、本题考查政治常识。

2022年11月29日23时08分,搭载神舟十五号载人飞船的长征二号F遥十五运载火箭在酒泉卫星发射中心点火发射,约10分钟后,神舟十五号载人飞船与火箭成功分离,进入预定轨道,航天员乘组状态良好,发射取得圆满成功。神舟十五号飞行乘组由航天员费俊龙、邓清明和张陆组成。

故正确答案为C。

14、本题考查政治常识。

A项正确,马克思主义道德起源观是生产方式论。马克思说:“物质生活的生产方式制约着整个社会生活、政治生活和精神生活的过程。”因此道德的起源只能从人们的生产方式和生活方式以及人们在其中形成的社会关系去思索和把握。

B项错误,天意神启论是把道德起源归结为上天的命令或上帝的启示。

C项错误,情感欲望论是认为道德根源于人们的情感欲望,是人们为实现情感欲望而形成的行为要求。

D项错误,先天人性论主张道德是先天存在的良心;主张道德是人的理性本身的善良意志;主张道德是先天存在的理念或精神。

故正确答案为A。

15、本题考查政治常识。

习近平总书记在党的二十大报告中指出:“全面建设社会主义现代化国家,最艰巨最繁重的任务仍然在农村。”

故正确答案为C。

16、本题考查人文常识。

工业革命又叫产业革命,在18世纪60年代首先开始于英国的纺织业,80年代由于蒸汽机的发明和采用而进一步发展到化学、冶金、采掘和机器制造业。

哈格里夫斯发明了“珍妮纺纱机”,揭开了工业革命的序幕,所以首先从纺织业开始。

故正确答案为A。

17、本题考查政治常识。

我国正处于并将长期处于社会主义初级阶段，是我们党对当代中国基本国情的科学判断。解放和发展社会生产力是社会主义初级阶段的根本任务，是中国特色社会主义政治经济学的重大原则。在社会主义初级阶段，与生产力发展水平相适应的基本经济制度就是公有制为主体、多种所有制经济共同发展的基本经济制度。

故正确答案为 B。

18、本题考查经济常识。

A 项错误，商品的使用价值和价值的矛盾、生产商品的具体劳动和抽象劳动的矛盾，根源于私人劳动和社会劳动的矛盾。私人劳动和社会劳动的矛盾是商品经济的基本矛盾。无个别劳动和必要劳动的矛盾这一说法。

B 项正确，在以私有制为基础的商品经济中，商品生产者的劳动具有两重性，既是具有社会性质的社会劳动，又是具有私人性质的私人劳动。商品生产者的劳动的社会性质是由社会分工决定的。在社会分工条件下，每个商品生产者在社会分工体系中从事的是某一种商品的生产，商品生产者之间相互联系、相互依存，彼此交换所生产的商品。这样，每个商品生产者的劳动都是社会总劳动的一部分，是具有社会性质的社会劳动。商品生产者的劳动的私人性质是由生产资料私有制决定的。由于生产资料私有制的存在，每个商品生产者作为私有者，都独立地进行商品生产活动，拥有生产出来的劳动产品，并自负盈亏。因此，在私有制条件下，商品生产者的劳动又是按照自己的利益和要求进行的，是具有私人性质的私人劳动。私人劳动和社会劳动的矛盾构成私有制商品经济的基本矛盾，这一矛盾贯穿商品经济发展过程的始终，决定着商品经济的各种内在矛盾及其发展趋势。

C、D 项错误，生产力和生产关系的矛盾、经济基础和上层建筑的矛盾，是贯穿人类社会始终的基本矛盾。生产关系一定要适合生产力状况的规律，上层建筑一定要适合经济基础状况的规律，是在任何社会中都起作用的普遍规律。

故正确答案为 B。

19、本题考查军队国防。

根据《中国人民解放军文职人员条例》总则第五条规定：“军队建立与军人、公务员、事业单位工作人员相独立的文职人员政策制度体系。文职人员政策制度应当体现军事职业特点，构建完善的管理、保障机制。军队对文职人员实行分类分级管理，提高管理效能和科学化水平。”

故正确答案为 B。

20、本题考查政治常识。

A 项正确，矛盾的同一性，是矛盾双方相互吸引、相互联结的属性和趋势。它有两方面的含义：一是矛盾双方相互依赖，一方的存在以另一方的存在为前提，双方共处于一个统一体中；二是矛盾双方相互贯通，即相互渗透、相互包含，在一定条件下可以相互转化。“君子安而不忘危，存而不忘亡，治而不忘乱”出自《周易·系辞下》，意思是君子在国家安定的时候要不忘危险，国家存续的时候要不忘败亡，国家大治的时候要不忘变乱。

表明“安”和“危”、“存”和“亡”、“治”和“乱”一定条件下可以相互转变，要居安思危，有危机意识。体现出矛盾的同一体性，说明矛盾双方在一定的条件下是可以相互转化的。

B项错误，本质与现象是揭示事物内在联系和外表现的一对范畴。本质是事物的根本性质，是构成事物的诸要素之间的内在联系。现象是事物的外部联系和表面特征，是事物本质的外在表现。所以，我们要坚持透过现象认识事物的本质。该选项说法正确，但题干中并未体现要透过现象认识事物的本质。

C项错误，质是使一个事物成为它自身并区别于其他事物的内在规定性。质和具体事物的存在是直接同一的，特定的事物总有自己特定的质，事物一旦丧失了自己的质，就不再是它自己而变成了别的事物，因此质具有确定性。该选项说法错误。

D项错误，事物的性质主要是由主要矛盾的主要方面决定的。该选项表述错误。

故正确答案为A。

21、本题考查经济常识。

A项正确，混合所有制企业是指由公有资本与非公有制资本共同参股组建而成的新型企业形式。《国务院关于国有企业发展混合所有制经济的意见》中指出：“鼓励非公有资本参与国有企业混合所有制改革。非公有资本投资主体可通过出资入股、收购股权、认购可转债、股权置换等多种方式，参与国有企业改制重组或国有控股上市公司增资扩股以及企业经营管理。”

B项错误，《国务院关于国有企业发展混合所有制经济的意见》中指出：“对主业处于关系国家安全、国民经济命脉的重要行业和关键领域、主要承担重大专项任务的商业类国有企业，要保持国有资本控股地位，支持非国有资本参股。”所以，以上类别的国企引入各类社会投资主体改制后，不可由社会资本控股。B项直接说“国企可由社会资本控股”表述过于绝对，故错误。

C项正确，《国务院关于国有企业发展混合所有制经济的意见》中指出：“鼓励国有企业通过投资入股、联合投资、并购重组等多种方式，与非国有企业进行股权融合、战略合作、资源整合，发展混合所有制经济。支持国有资本与非国有资本共同设立股权投资基金，参与企业改制重组。”所以，国企和民企可以合作，共同投资设立混合所有制企业。

D项正确，《国务院关于国有企业发展混合所有制经济的意见》中指出：“探索实行混合所有制企业员工持股。坚持激励和约束相结合的原则，通过试点稳妥推进员工持股。”所以，混合所有制企业，可建立企业员工持股制度。

本题为选非题，故正确答案为B。

22、本题考查经济常识。

现代企业制度是指符合社会化大生产特点，适应市场经济的需求，以完善的企业法人制度为主体，以公司制为核心，以公司法人治理结构为主要形态，以产权明晰、权责明确、政企分开、管理科学为基本特征的新型企业制度。

资产的最终所有权是指出资者按投入企业的资本额享有所有者的权益，即资产受益、重大决策和选择管理者的权利；法人财产权是指企业法人依照法律、法规对企业实际拥有的财产的直接占有权、使用权和处置权。前者指的是财产的归属权，后者指的是财产运营权。法人财产权是现代企业制度的根本特征。资产的最终所有权与法人财产权相分离是建立现代企业制度的基本前提。

故正确答案为D。

23、本题考查政治常识。

A项错误，金融风险是一定量金融资产在未来时期内预期收入遭受损失的可能性，金融风险具有传染性。对外开放和自力更生与避免金融风险无关。

B、C、D项正确，自力更生与对外开放是相互促进、相互联系的，一方面，坚持自力更生是实现对外开放的前提和基础；另一方面，发展对外经济，实行对外开放又可以促进我国经济发展，提高独立自主、自力更生的能力。我们要正确处理二者的关系，不能将二者对立起来，也不能片面强调一个方面而忽视另一个方面。闭关自守、盲目排外，会扼杀我国市场经济的活力，延缓社会主义现代化建设的进程；不顾条件、不加选择地盲目开放，则会造成国民经济的混乱，损害国家的经济安全，甚至丧失经济上的主权。

本题为选非题，故正确答案为A。

24、本题考查政治常识。

A项正确，十九届六中全会通过的《中共中央关于党的百年奋斗重大成就和历史经验的决议》中指出：“坚持独立自主。独立自主是中华民族精神之魂，是我们立党立国的重要原则。走自己的路，是党百年奋斗得出的历史结论。”

B项错误，十九届六中全会通过的《中共中央关于党的百年奋斗重大成就和历史经验的决议》中指出：“中国共产党坚持胸怀天下。党始终以世界眼光关注人类前途命运，从人类发展大潮流、世界变化大格局、中国发展大历史正确认识和处理同外部世界的关系，坚持开放、不搞封闭，坚持互利共赢、不搞零和博弈，坚持主持公道、伸张正义，站在历史正确的一边，站在人类进步的一边。”

C项错误，十九届六中全会通过的《中共中央关于党的百年奋斗重大成就和历史经验的决议》中指出：“坚持开拓创新。创新是一个国家、一个民族发展进步的不竭动力。”

D项错误，十九届六中全会通过的《中共中央关于党的百年奋斗重大成就和历史经验的决议》中指出：“坚持敢于斗争。敢于斗争、敢于胜利，是党和人民不可战胜的强大精神力量。”

故正确答案为A。

25、本题考查政治常识。

马克思和恩格斯在新的历史条件下创立的唯物史观和剩余价值学说，是具有革命意义的两大科学发现。前者揭示了人类历史的发展规律，后者揭示了资本主义生产方式及其社会形态的运动规律。



唯物史观即历史唯物主义，是哲学中关于人类社会发展一般规律的理论，马克思主义哲学的重要组成部分，科学的社会历史观和认识、改造社会的一般方法论。历史唯物主义认为，一切重要历史事件的终极原因和伟大动力是社会的经济发展，是生产方式和交换方式的改变，是由此产生的社会被划分为不同的阶级，是这些阶级彼此之间的斗争。

剩余价值学说是指剥削劳动者所生产的新价值中的利润（劳动创造的价值和工资之间的差异），即“劳动者创造的被资产阶级无偿占有的劳动”。

故正确答案为D。

26、本题考查人文常识。

A项错误，王海，空军原司令员，空军上将军衔。抗美援朝爆发后，年轻的志愿军空军承载着历史使命入朝参战，当时王海被任命为空3师第9团第1大队大队长，这个大队也就是后来的“英雄的王海大队”。2021年2月17日，王海被评为“感动中国2020年度人物”。

B项错误，萧劲光，无产阶级革命家、军事家。中华人民共和国成立后，历任人民解放军海军司令员、国防部副部长、第五届全国人大常委会副委员长等职，为人民海军的建设和发展做出了卓越的贡献。1955年被授予大将军衔。

C项正确，刘亚楼，中国人民解放军开国上将，历任空军司令员、国防部副部长等职。1949年11月11日，中国人民解放军空军领导机构在北京成立，刘亚楼任新中国首任空军司令员。

D项错误，张廷发，中国共产党的优秀党员，久经考验的忠诚的共产主义战士，无产阶级革命家，中国人民解放军杰出的军事领导人。曾任空军政治委员、司令员，中央军委委员、常委，中顾委委员，中共第十一、十二届中央政治局委员。1955年被授予空军少将军衔。

故正确答案为C。

27、本题考查法律常识。

A项正确，根据《宪法》第一条第二款规定：“社会主义制度是中华人民共和国的根本制度。中国共产党领导是中国特色社会主义最本质的特征。禁止任何组织或者个人破坏社会主义制度。”

B项错误，根据《宪法》第一条第一款规定：“中华人民共和国是工人阶级领导的、以工农联盟为基础的人民民主专政的社会主义国家。”因此，人民民主专政是我国的国体即国家性质，并非中国特色社会主义最本质的特征。

C项错误，根据《宪法》第二条第二款规定：“人民行使国家权力的机关是全国人民代表大会和地方各级人民代表大会。”因此，人民代表大会是我国的国家权力机关，并非中国特色社会主义最本质的特征。

D项错误，根据《宪法》第三条第一款规定：“中华人民共和国的国家机构实行民主集中制的原则。”因此，民主集中制是我国国家机构的组织原则，并非中国特色社会主义最本质的特征。

故正确答案为A。

28、本题考查经济常识。

1992年10月，党的十四大提出我国经济体制改革的目标是建立社会主义市场经济体制。按照党的十四大确定的建立社会主义市场经济体制的目标和任务，中共中央、国务院作出一系列相应的体制改革和政策调整，同时抓紧制定总体规划，并有计划、有步骤地加以实施，目的就是要使市场在社会主义国家宏观调控下对资源配置起基础性作用，使经济活动遵循价值规律的要求，适应供求关系的变化。

故正确答案为C。

29、本题考查政治常识。

党的十一届三中全会是划时代的，开启了改革开放和社会主义现代化建设新时期。党的十八届三中全会也是划时代的，实现改革由局部探索、破冰突围到系统集成、全面深化的转变，开创了我国改革开放新局面。党的十八届三中全会通过的《中共中央关于全面深化改革若干重大问题的决定》指出，经济体制改革是全面深化改革的重点。其核心问题是如何处理好政府和市场的关系，使市场在资源配置中起决定性作用和更好地发挥政府作用。

故正确答案为B。

30、本题考查国防常识。

根据《中华人民共和国国防法》第四十四条规定：“国防教育贯彻全民参与、长期坚持、讲求实效的方针，实行经常教育与集中教育相结合、普及教育与重点教育相结合、理论教育与行为教育相结合的原则。”

故正确答案为C。

31、本题考查文化常识。

《周易》的元语言“—”与“— —”，即阳和阴，类似二进制中的1和0。阴阳是相反相成的事物或性质的抽象，例如天地、男女、夫妇、刚柔等，“— —”与“—”叠加又组合成八个基本图像，象征天、地、雷、风、水、火、山、泽等八种自然现象。这八个图像就是八卦，分别命名为乾、坤、震、巽、坎、离、艮、兑。八卦再两两相重，就组合成六十四卦，每一卦都有卦象、卦名和卦辞。卦象由爻组成，每卦有六爻，每一爻也有爻象，“— —”为阴爻，“—”为阳爻。

故正确答案为A。

32、本题考查中国特色社会主义。

A、B项错误，党委制、政治委员制、政治机关制是党对军队绝对领导的组织支撑。党在团和相当于团级以上部队的单位设立党的委员会、政治委员和政治机关。这些制度实现了党的组织结构与军队体制编制的有机结合，明确了开展政治工作的责任主体和主管部门，是党从思想上政治上组织上建设和掌握部队的重要支撑。

C项错误，作为党在军队最基层的一级组织，党支部是我们党团结和联系广大官兵最直接最重要的形式，是党在军队的战斗堡垒。支部建在连上，是党指挥枪原则落地生根的坚实基础。

D项正确，坚持党对军队绝对领导是有一整套制度作保证的，其中处于最高层次、居于统领地位的是军委主席负责制，这是坚持党对军队绝对领导的根本制度和根本实现形式。各级必须把贯彻军委主席负责制作为最高政治要求来遵守、最高政治纪律来维护，坚决贯彻军委主席负责中央军委全面工作、领导指挥全国武装力量、决定国防和军队建设一切重大问题的要求，始终在党的绝对领导下行动和战斗。

故正确答案为D。

33、本题考查中国历史。

A项错误，九一八事变，是1931年9月18日，日本驻中国东北地区的关东军突然袭击沈阳，以武力侵占东北的事件。九一八事变是由日本蓄意制造并发动的侵华战争，是日本帝国主义企图以武力征服中国的开端，是中国抗日战争的起点，标志着中国局部抗战的开始。

B项错误，平型关大捷，是1937年9月25日，八路军在平型关为了配合第二战区的友军作战，阻挡日军攻势，由115师师长林彪、副师长聂荣臻指挥，充分发挥近战和山地战的特长，首次集中较大兵力对日军进行的一次成功伏击战，八路军在平型关取得首战大捷。

C项错误，淞沪会战，爆发于1937年8月13日，是中日双方在抗日战争中的第一场大型会战，也是整个中日战争中进行的规模最大、战斗最惨烈的一场战役。淞沪会战，使日军被迫转移战略主攻方向，粉碎了日本“三个月灭亡中国”的计划。

D项正确，卢沟桥事变，又称七七事变，发生于1937年7月7日，成为中国全民族抗战的开端，由此开辟了世界反法西斯战争的东方主战场。

故正确答案为D。

34、D项正确，A、B、C项错误，根据《中国人民银行法》第三条规定：“货币政策目标是保持货币币值的稳定，并以此促进经济增长。”

故正确答案为D。

35、本题考查政治常识。

党的二十大报告中指出：“国家安全是民族复兴的根基，社会稳定是国家强盛的前提。必须坚定不移贯彻总体国家安全观，把维护国家安全贯穿党和国家工作各方面全过程，确保国家安全和社会稳定。”

故正确答案为B。

36、本题考查政治常识。

党的二十大报告中指出：“全过程人民民主是社会主义民主政治的本质属性，是最广泛、最真实、最管用的民主。必须坚定不移走中国特色社会主义政治发展道路，坚持党的领导、人民当家作主、依法治国有机统一，坚持人民主体地位，充分体现人民意志、保障人民权益、激发人民创造活力。”

故正确答案为D。

37、本题考查经济常识。

资本主义所有制的本质特征是资本对劳动的雇佣和剥削。资本主义所有制的本质特征是资本家凭借对生产资料的占有，在等价交换原则的掩盖下雇佣工人从事劳动，占有雇佣工人的剩余价值。当资本实现对劳动力的雇佣后，资本主义生产过程随之展开。

故正确答案为 C。

38、本题考查法律常识。

A 项正确，根据《选举法》第十五条规定：“地方各级人民代表大会代表名额，由本级人民代表大会常务委员会或者本级选举委员会根据本行政区域所辖的下一级各行政区域或者各选区的人口数，按照每一代表所代表的城乡人口数相同的原则，以及保证各地区、各民族、各方面都有适当数量代表的要求进行分配。在县、自治县的人民代表大会中，人口特少的乡、民族乡、镇，至少应有代表一人。”

B 项错误，根据《选举法》第三条规定：“全国人民代表大会的代表，省、自治区、直辖市、设区的市、自治州的人民代表大会的代表，由下一级人民代表大会选举。不设区的市、市辖区、县、自治县、乡、民族乡、镇的人民代表大会的代表，由选民直接选举。”因此，县、乡两级的选举，实行选民直接选举制度。

C 项错误，根据《选举法》第五十五条第二款规定：“县级的人民代表大会代表可以向本级人民代表大会常务委员会书面提出辞职，乡级的人民代表大会代表可以向本级人民代表大会书面提出辞职。……”

D 项错误，根据《选举法》第十八条规定：“全国少数民族应选全国人民代表大会代表，由全国人民代表大会常务委员会参照各少数民族的人口数和分布等情况，分配给各省、自治区、直辖市的人民代表大会选出。人口特少的民族，至少应有代表一人。”

故正确答案为 A。

39、本题考查政治常识。

2022 年 10 月 16 日，习近平在中国共产党第二十次全国代表大会上作《高举中国特色社会主义伟大旗帜为全面建设社会主义现代化国家而团结奋斗》的报告。报告指出，七、坚持全面依法治国，推进法治中国建设：（一）完善以宪法为核心的中国特色社会主义法律体系。坚持依法治国首先要坚持依宪治国，坚持依法执政首先要坚持依宪执政，坚持宪法确定的中国共产党领导地位不动摇，坚持宪法确定的人民民主专政的国体和人民代表大会制度的政体不动摇；（二）扎实推进依法行政。法治政府建设是全面依法治国的重点任务和主体工程；（三）严格公正司法。公正司法是维护社会公平正义的最后一道防线；（四）加快建设法治社会。法治社会是构筑法治国家的基础。

故正确答案为 C。

40、本题考查经济常识。

A、C 项错误，在以私有制为基础的商品经济中，商品生产者的劳动具有两重性，既是具有社会性质的社会劳动，又是具有私人性质的私人劳动。（1）商品生产者的劳动的社会性质是由社会分工决定的。在社会分工条件下，每个商品生产者在社会分工体系中从事的是某一种商品的生产，商品生产者之间相互联系、相互依存，

彼此交换所生产的商品。这样，每个商品生产者的劳动都是社会总劳动的一部分，是具有社会性质的社会劳动。

(2) 商品生产者的劳动的私人性质是由生产资料私有制决定的。由于生产资料私有制的存在，每个商品生产者作为私有者，都独立地进行商品生产活动，拥有生产出来的劳动产品，并自负盈亏。因此，在私有制条件下，商品生产者的劳动又是按照自己的利益和要求进行的，是具有私人性质的私人劳动。私人劳动和社会劳动的矛盾构成私有制商品经济的基本矛盾，这一矛盾贯穿商品经济发展过程的始终，决定着商品经济的各种内在矛盾及其发展趋势。

B 项错误，D 项正确，劳动的二重属性，即劳动是具体劳动和抽象劳动的统一。具体劳动和抽象劳动并不是两次劳动，而是同一劳动过程的两个方面。具体劳动是生产不同商品的不同性质和不同形式的劳动，是劳动的外在表现形式，它生产使用价值；抽象劳动是无差别的一般的人类劳动，是看不见的内在体力、脑力的消耗，生产商品的价值，是价值的实体，是价值的唯一源泉。

故正确答案为 D。

41、本题考查政治常识。

党的二十大指出：教育、科技、人才是全面建设社会主义现代化国家的基础性、战略性支撑。必须坚持科技是第一生产力、人才是第一资源、创新是第一动力，深入实施科教兴国战略、人才强国战略、创新驱动发展战略，开辟发展新领域新赛道，不断塑造发展新动能新优势。

故正确答案为 B。

42、本题考查法律常识。

根据《民法典》第十条规定：“处理民事纠纷，应当依照法律；法律没有规定的，可以适用习惯，但是不得违背公序良俗。”

故正确答案为 B。

43、本题考查法律常识。

根据《刑法》第十七条第三款规定：“已满十二周岁不满十四周岁的人，犯故意杀人、故意伤害罪，致人死亡或者以特别残忍手段致人重伤造成严重残疾，情节恶劣，经最高人民检察院核准追诉的，应当负刑事责任。”

故正确答案为 C。

44、本题考查政治常识。

党的十九届四中全会审议通过的《中共中央关于坚持和完善中国特色社会主义制度、推进国家治理体系和治理能力现代化若干重大问题的决定》明确提出，“加快形成完备的法律规范体系、高效的法治实施体系、严密的法治监督体系、有力的法治保障体系，加快形成完善的党内法规体系”。五大体系彼此联系、相辅相成。

故正确答案为 D。

45、本题考查政治常识。

习近平总书记在党的二十大报告中指出：“全方位夯实粮食安全根基，全面落实粮食安全党政同责，牢牢守住十八亿亩耕地红线，逐步把永久基本农田全部建成高标准农田，深入实施种业振兴行动，强化农业科技和装备支撑，健全种粮农民收益保障机制和主产区利益补偿机制，确保中国人的饭碗牢牢端在自己手中。”

故正确答案为 C。

46、本题考查经济常识。

价值形成过程是生产要素价格的转移和活劳动创造新财富的过程，这两重过程是以生产商品的劳动二重性为基础的。生产商品的劳动是具体劳动和抽象劳动的统一。相应地，商品生产过程是具体劳动创造使用价值的劳动过程和抽象劳动形成价值的价值形成过程的统一。

故正确答案为 D。

47、本题考查法律常识。

法是由国家制定或认可并由国家强制力保障实施的，反映由特定物质生活条件决定的统治阶级意志，以权利和义务为基础，以确认、保护和发展统治阶级所期望的社会关系和社会秩序为目的的行为规范体系。

法的特征可以归纳为：①法是调整人的行为的一种社会规范；②法是由国家制定或认可的社会规范；③法是以国家强制力保证其实施的社会规范；④法是具有普遍性的社会规范，即法作为一般的行为规范，在国家主权管辖范围内具有普遍适用的效力和特性。⑤法是具有严格、明确的程序的社会规范。⑥法式具有可诉性的社会规范。

本题为选非题，故正确答案为 C。

48、本题考查人文常识。

A 项错误，“仁者爱人”出自《孟子·离娄下》，意思是仁者是充满慈爱之心，满怀爱意的人。

B 项正确，“有教无类”出自《论语·卫灵公》，意思是不管什么人都可以受到教育，不因为贫富、贵贱、智愚、善恶等原因把一些人排除在教育对象之外。体现了教育的公平性。

C 项错误，“因材施教”出自《论语·为政》，意思是针对学习的人的志趣、能力等具体情况进行不同的教育。

D 项错误，“温故知新”出自《论语·为政》，意思是温习旧知识从而得知新的理解与体会。

故正确答案为 B。

49、本题考查军队国防。

根据《国防法》第十五条规定：“中央军事委员会领导全国武装力量，行使下列职权：……（三）领导和管理中国人民解放军、中国人民武装警察部队的建设，制定规划、计划并组织实施；……”

故正确答案为 B。

50、本题考查法律常识。

根据《著作权法》第三条规定：“本法所称的作品，是指文学、艺术和科学领域内具有独创性并能以一定形式表现的智力成果，包括：（一）文字作品；（二）口述作品；（三）音乐、戏剧、曲艺、舞蹈、杂技艺术作品；（四）美术、建筑作品；（五）摄影作品；（六）视听作品；（七）工程设计图、产品设计图、地图、示意图等图形作品和模型作品；（八）计算机软件；（九）符合作品特征的其他智力成果。”

故正确答案为 C。

51、本题考查法律常识。

A 项正确、C 项错误，根据《劳动合同法》第三十七条规定：“劳动者提前三十日以书面形式通知用人单位，可以解除劳动合同。劳动者在试用期内提前三日通知用人单位，可以解除劳动合同。”

B 项正确，根据《劳动合同法》第三十八条第一款第一项规定：“用人单位有下列情形之一的，劳动者可以解除劳动合同：（一）未按照劳动合同约定提供劳动保护或者劳动条件的……”

D 项正确，根据《劳动合同法》第三十八条第一款第二项规定：“用人单位有下列情形之一的，劳动者可以解除劳动合同：……（二）未及时足额支付劳动报酬的……”

E 项正确，根据《劳动合同法》第三十八条第二款规定：“用人单位以暴力、威胁或者非法限制人身自由的手段强迫劳动者劳动的，或者用人单位违章指挥、强令冒险作业危及劳动者人身安全的，劳动者可以立即解除劳动合同，不需事先告知用人单位。”

故正确答案为 ABDE。

52、本题考查经济常识。

“大市场”“小政府”市场经济模式是发达经济体普遍实行的市场经济体制。在“大市场”“小政府”模式中，市场在资源配置中发挥主导作用，政府职能仅限于提供公共服务，包括维护市场秩序，进行有限的宏观经济干预等，不直接参与社会经济服务。

A 项正确，政府为确保市场运行畅通、保证公平竞争和公平交易、维护企业合法权益来制定市场规则，对企业和市场进行管理和监督。

B 项错误，市场在资源配置中发挥决定性作用。政府配置的资源主要是社会公共资源，而在经济运行过程中，主要还是市场机制对资源进行分配组合及再分配与再组合。

C 项正确，政府通过各种政策工具，参与一定时期国民收入的初次分配与再分配，实现收入在全社会各部门、各地区、各单位，以及各社会成员之间进行合理分割，缩小收入差距，体现社会公平。

D 项错误，宏观调控职能是指政府通过制定和运用财政政策和货币政策，对整个国民经济运行进行间接的、宏观的调控，并不是通过参与经济竞争干预经济运行。

E 项正确，制定宏观经济发展计划和产业政策属于提供公共产品和服务职能。提供公共产品和服务职能是指政府通过政府管理、制定产业政策、计划指导、就业规划等方式对整个国民经济实行间接控制；同时，还要发挥社会中介组织和企业的力量，与政府一道共同承担提供公共产品的任务。

故正确答案为 ACE。

53、本题考查政治常识。

A 项正确，“一带一路”战略构想的提出，契合沿线国家的共同需求，为沿线国家优势互补、开放发展开启了新的机遇之窗，促进了沿线国家共同繁荣。

B 项错误，2013 年 9 月 7 日，国家主席习近平在哈萨克斯坦纳扎尔巴耶夫大学作题为《弘扬人民友谊 共创美好未来》的演讲，提出共同建设“丝绸之路经济带”。2013 年 10 月 3 日，习近平主席在印度尼西亚国会发表题为《携手建设中国—东盟命运共同体》的演讲，提出共同建设“21 世纪海上丝绸之路”。

C、D 项正确，“一带一路”战略是沿线国家及更多国家和地区共同参与的合作战略，坚持共商、共建、共享原则，通过推进政策沟通、道路联通、贸易畅通、货币流通、民心相通，与沿线国家携手推动更大区域、更高水平、更深层次的大开放、大交流、大融合，合力打造平等互利、合作共赢、共同发展的大平台，是对国际合作理念与合作模式的重大创新。

E 项错误，“一带一路”是互利共赢之路，要秉持和平合作、开放包容、互学互鉴、互利共赢的理念，全方位推进务实合作，打造政治互信、经济融合、文化包容的利益共同体、命运共同体和责任共同体。

故正确答案为 ACD。

54、本题考查政治常识。

A 项正确，党的二十大报告指出：“坚持不懈用新时代中国特色社会主义思想凝心铸魂。用党的创新理论武装全党是党的思想建设的根本任务。”

B 项正确，党的二十大报告指出：“全面建设社会主义现代化国家、全面推进中华民族伟大复兴，关键在党。我们党作为世界上最大的马克思主义执政党，要始终赢得人民拥护、巩固长期执政地位，必须时刻保持解决大党独有难题的清醒和坚定。”

C 项正确，党的二十大报告指出：“全党必须牢记，全面从严治党永远在路上，党的自我革命永远在路上，决不能有松劲歇脚、疲劳厌战的情绪，必须持之以恒推进全面从严治党，深入推进新时代党的建设新的伟大工程，以党的自我革命引领社会革命。”

D 项错误，党的二十大报告指出：“坚持学思用贯通、知信行统一，把新时代中国特色社会主义思想转化为坚定理想、锤炼党性和指导实践、推动工作的强大力量。”

E 项正确，党的二十大报告指出：“我们要落实新时代党的建设总要求，健全全面从严治党体系，全面推进党的自我净化、自我完善、自我革新、自我提高，使我们党坚守初心使命，始终成为中国特色社会主义事业的坚强领导核心。”

故正确答案为 ABCE。

55、本题考查政治常识。



A项错误，“两个务必”是1949年毛泽东同志在党的七届二中全会上提出的，具体内容为：“务必使同志们继续地保持谦虚、谨慎、不骄、不躁的作风，务必使同志们继续地保持艰苦奋斗的作风。”

B项错误，“一不怕苦，二不怕死”是中共党史上的八十句口号之一，反映了人民解放军官兵在战争年代表现出来的一种革命精神。

C、D、E项正确，党的二十大报告指出：“我们党立志于中华民族千秋伟业，致力于人类和平与发展崇高事业，责任无比重大，使命无上光荣。全党同志务必不忘初心、牢记使命，务必谦虚谨慎、艰苦奋斗，务必敢于斗争、善于斗争，坚定历史自信，增强历史主动，谱写新时代中国特色社会主义更加绚丽的华章。”

故正确答案为CDE。

56、本题考查政治常识。

党的二十大报告指出：“必须坚持自信自立。中国人民和中华民族从近代以后的深重苦难走向伟大复兴的光明前景，从来就没有教科书，更没有现成答案。党的百年奋斗成功道路是党领导人民独立自主探索开辟出来的，马克思主义的中国篇章是中国共产党人依靠自身力量实践出来的，贯穿其中的一个基本点就是中国的问题必须从中国基本国情出发，由中国人自己来解答。我们要坚持对马克思主义的坚定信仰、对中国特色社会主义的坚定信念，坚定道路自信、理论自信、制度自信、文化自信，以更加积极的历史担当和创造精神为发展马克思主义作出新的贡献，既不能刻舟求剑、封闭僵化，也不能照抄照搬、食洋不化。”

故正确答案为ABCD。

57、本题考查政治常识。

2022年8月24日，中共中央宣传部、中央军委政治工作部发出关于认真组织学习《习近平强军思想学习问答》的通知，其中指出：“党的十八大以来，以习近平同志为核心的党中央，把握强国强军时代要求，与时俱进创新党的军事指导理论，形成习近平强军思想。这一思想是习近平新时代中国特色社会主义思想的重要组成部分，是党的军事指导理论最新成果，是坚持走中国特色强军之路、全面推进国防和军队现代化的行动纲领。”

故正确答案为D。

58、本题考查政治常识。

党的二十大报告指出：“我们确立党在新时代的强军目标，贯彻新时代党的强军思想，贯彻新时代军事战略方针，坚持党对人民军队的绝对领导，召开古田全军政治工作会议，以整风精神推进政治整训，牢固树立战斗力这个唯一的根本的标准，坚决把全军工作重心归正到备战打仗上来，统筹加强各方向各领域军事斗争，大抓实战化军事训练，大刀阔斧深化国防和军队改革，重构人民军队领导指挥体制、现代军事力量体系、军事政策制度，加快国防和军队现代化建设，裁减现役员额三十万胜利完成，人民军队体制一新、结构一新、格局一新、面貌一新，现代化水平和实战能力显著提升，中国特色强军之路越走越宽广。”

故正确答案为B。

59、本题考查人文常识。

1950年10月8日，朝鲜政府请求中国出兵援助。中国应朝鲜政府的请求，作出“抗美援朝、保家卫国”的决策，迅速组成中国人民志愿军入朝参战。

在中国人民志愿军入朝作战的同时，党领导全国人民迅速开展了轰轰烈烈的抗美援朝运动。在“抗美援朝，保家卫国”的号召下，全国各条战线和广大人民积极响应党和政府号召，通过募集慰问品、慰问金，写信慰问志愿军等各种形式支援前线，表达对志愿军的崇敬之情。抗美援朝运动在全国燃起的浓厚爱国热情，形成了同仇敌忾、战胜一切困难和强大敌人的无穷力量。

故正确答案为A。

60、本题考查人文常识。

A项错误，《谁是最可爱的人》是作家魏巍从朝鲜战场归来后所著报告文学，最先于1951年4月11日在《人民日报》刊登。后入选中学语文课本，影响了数代中国人。从此之后，志愿军广泛地被人们亲切地称为“最可爱的人”。

B项错误，《上甘岭》作者是陆柱国，本小说主要讲述了中国人民志愿军与美军在上甘岭的一场战役。

注：同名电影《上甘岭》，是由长春电影制片厂出品的战争故事片，于1956年12月1日上映。影片改编自电影文学剧本《二十四天》，讲述了上甘岭战役中，志愿军某部八连，在连长张忠发的率领下坚守阵地，与敌人浴血奋战，最终取得胜利的故事。

C项正确，1952年3月，著名作家巴金带领一个创作组到朝鲜战场采访。3月22日，巴金和17位文艺工作者一起，与中国人民志愿军司令员彭德怀见面。由于会见内容的丰富和主人公的感染力，巴金先生在25日晚上，满怀激情，用了三个多小时，一气呵成了《我们会见了彭德怀司令员》一文。

D项错误，《三千里江山》由杨朔著，是最早反映中国铁路工人参加抗美援朝斗争的一部中篇小说。

故正确答案为C。

61、A项，“相信自己的人”存在歧义，可理解为“自信的人”或“相信与自己同一阵营的人”，存在歧义，排除；

B项，“三个”修饰的对象不清，可理解为“三个不同的教育局”或“同一个教育局的三个领导”，存在歧义，排除；

C项，“小明和小军的哥哥”存在歧义，可理解为“小明”和“小军的哥哥”两人在踢球，或“小明的哥哥”和“小军的哥哥”两人在踢球，或小明、小军是兄弟，“哥哥”一人在踢球，存在歧义，排除；

D项，表述明确，当选。

本题为选非题，故正确答案为D。

62、A项，句意完整，表述无误，当选；

B项，“……的教导，又重新出现在我的面前”搭配不当，表述不合逻辑，“相貌”可以出现在“眼前”，“教导”无法出现在“眼前”，应修改为“……的教导，又重新出现在我的耳边”，排除；

C项，“塑造了……的事迹”搭配不当，应修改为“塑造了……人物形象”，排除；

D项，“降低……需求”搭配不当，应修改为“减少……需求”，排除。

本题为选非题，故正确答案为A。

63、辨析“截止”与“截至”。“截止”表示到某个时间停止，强调“停止”，在用法上，置于表示时间的词语之后，如“检查工作已于昨日截止”；而“截至”表示停止于某个时间，强调“时间”，用法上，其后须带时间词语，置于表示时间的词语之前，如“截至2月19日”。

①句时间在前，使用“截止”，正确；②句时间在后，使用“截至”，正确；③句“截止到”相当于“截至”，时间在后，正确。④句“截止”后不能直接加时间，错误。因此①②③句词语使用正确。

故正确答案为D。

64、突破口在第三空与第四空。根据第三空前“使用一定的载体、方式方法”，说明第三空后“转化为医学工作者的行为”“树立良好的医德医风”为前文产生的不同结果，推知两者之间是并列关系或递进关系，而不应该是选择关系，A项与C项中的“或者”表示选择关系，排除A项和C项。

第一、二空，文中“明确意义及标准”与“使用载体、方法”并不是条件与结果的关系，而D项“只有……才能”为必要条件关系，排除。B项“除了要……还要”为并列关系，符合文意。

故正确答案为B。

65、分析句子。①句侧重应植树而不能毁树。②句说明植树和毁树矛盾。③句中的“做到这一点”应该指的是“去植树而不毁树”这一做法。④句提出现在依然有毁树现象。

③④句均围绕①句的中心意思进行说明，而②句“植树和毁树矛盾”与前后脱节，后文并没有提出为何矛盾，与整个文段的中心无关。

本题为选非题，故正确答案为C。

66、文段开篇引出“沙尘暴”的话题，随后通过“但令人意想不到的是”进行转折，强调沙尘暴对海洋来说是件好事，然后提问原因并进行解释，尾句通过“所以”进行总结，再次强调沙尘暴可以带来好处。故文段为总分总结构，主题为“沙尘暴”，总句同义替换为A项。

B、C项，缺少主题词“沙尘暴”，排除；

D项，“不再是一种灾害”过于绝对，排除。

故正确答案为A。

67、文段开篇介绍了中国古代家训家教家风具有“修齐治平”的特点，后指出现代随着城市化进程推进，所处社会环境、家庭和工作生活发生了变化。最后通过结论词“因此”总结前文，提出对策，即在传承中华传统家训家教家风时，要进行创造性转化，同义替换为B项。

A、C项，均属于结论前的内容，非重点，排除；

D项，“不适应现代人生活方式和开放社会的需要”为问题表述，非重点，排除。

故正确答案为B。

68、首先定位原文，“秒杀心态”出现在文段结尾，需结合前文内容进行理解，根据“那些渴望‘一击即中’、希望‘马上就有’、总想‘付出少收益大’”可知，“秒杀心态”即指急功近利的心态。故对于“秒杀心态”的否定即指要长久的坚持和付出，D项“千淘万漉虽辛苦，吹尽黄沙始到金”是指历尽辛苦之后，价值会被发现，体现了长期的付出，符合题意，当选。

A项“白发无凭吾老矣，青春不再汝知乎”比喻珍惜时间，奋发图强；

B项“人生得意须尽欢，莫使金樽空对月”是指人活在世上就要尽情的享受欢乐；

C项“大鹏一日同风起，扶摇直上九万里”是指人的志向伟大，三项均与否定“秒杀心态”无关，均可排除。

故正确答案为D。

69、A项，句尾“……”表示节略原文或语句未完的作用，与前文“等”用法重复，应将“……”改为“。”，故使用错误，当选。

B、C、D项标点符号使用均无误，排除。

本题为选非题，故正确答案为A。

70、本题为词句理解题，“这”为指代词且出现在尾句，应根据就近原则向前寻找指代对象。前句出现必要条件关系关联词“只有……才”，重点突出“树立了这样的一种道德意识”，尾句“这”指代前文进行总结，故其指代内容为前文必要条件，即“树立了这样的一种道德意识”。而该句依然出现了代词“这样”，故仍需向前进一步寻找指代对象。前文和“意识”相关的仅出现“自然共同体的意识”，因此最后一句话中的“这”指的就是“树立自然共同体的意识”，对应A项。

B项“对共同体成员的尊敬”、C项“对共同体本身的尊敬”对应文中“它暗含着对共同体中每个成员的尊敬，也包括对这个共同体本身的尊敬”，均为“自然共同体意识”的解释说明，并非指代对象本身，排除；

D项，“对自然共同体的义务”对应文段“人才有可能在运用权利时感到所负有的对这个共同体的义务”，为必要条件关系“才”之后，非重点，排除。

故正确答案为A。

71、横线出现在文段结尾，起总结前文的作用。前文从“生机”“意志”“智慧”“人格”的角度论证苦难的两面性，强调其既可以对人产生积极作用，也可以对人产生不利影响。因此横线处应继续围绕“苦难”这一话题，论述其具体产生何种影响取决于人，对应C项。

A项，“唯一选择”无中生有，且表述过于绝对，排除；

B项，“以苦为乐”无中生有，排除；

D项，缺少文段核心话题“苦难”，排除。

故正确答案为C。

72、A项，“难言之隐”指隐藏在内心深处不便说出口的原因或事情，对应前文“低着头一言不发，不停地抽泣”，符合文段语境，成语使用得当，当选；

B项，“莘莘学子”指众多的学生，与前文“一位”搭配不当，排除；

C项，“求全责备”指苛责别人，要求完美无缺，置于此处用法不当，可删去“他的缺点”，改为“不应该对他求全责备”，排除；

D项，“文不加点”形容文思敏捷，写作技巧纯熟，与后文“毛病”矛盾，排除。

故正确答案为A。

73、根据“我们要学习，后人要学习”可知，第一空与第二空所填关联词应体现递进关系，A项“不但……也……”符合语境，当选。B项“因为”表示因果关系，“我们要学习”与“后人要学习”两句不构成因果关系，故填入此处不合语境，排除；C项“假如”表示假设关系，与“又”搭配不当，排除；D项“一旦”表示假设关系，与“更”搭配不当，且“我们要学习”与“后人要学习”两句不构成假设关系，排除。

第三空代入验证，“所以”表示因果关系，填入此处可体现出“我们要学习，后人要学习”与“学习有普遍性和永久性”之间的逻辑关系，符合语境，当选。

故正确答案为A。

74、文段开篇指出尽管不少欧洲人曾去过中国，但直到18世纪30年代，欧洲文艺界对中国戏剧的了解依然有限，并举例论证。尾句通过“所以”进行总结，再次强调中国古典戏剧在欧洲的传播不够，其艺术价值也未被深入了解，即欧洲观众不够了解中国古典戏剧。故尾句为中心句，对应B项。

A项，对应总结之前，非重点，排除；

C项，“与西方戏剧完全不同”文段未提及，无中生有，排除；

D项，“被改编演出”偏离文段重点，排除。

故正确答案为B。

75、对比选项，判断首句。①句中出现指代词“这一工作”，且指代不清，无法作首句，排除A项；②句具体论述北大西洋海温异常或其他海温异常对大气的影 响；③句指出大气环流场的年代际变化主要受北大西洋海温等因素的影响，根据“观点+解释说明”的逻辑顺序，②句应在③句之后，排除B项。

寻找其他线索。对比C项和D项，首句后衔接不同，④句中出现代词“这”，论述“这”对季风增强等有利，而③句中并未出现有利因素，故③④两句无法构成捆绑，排除D项。③②两句符合“观点+解释说明”，故C项正确。

故正确答案为C。

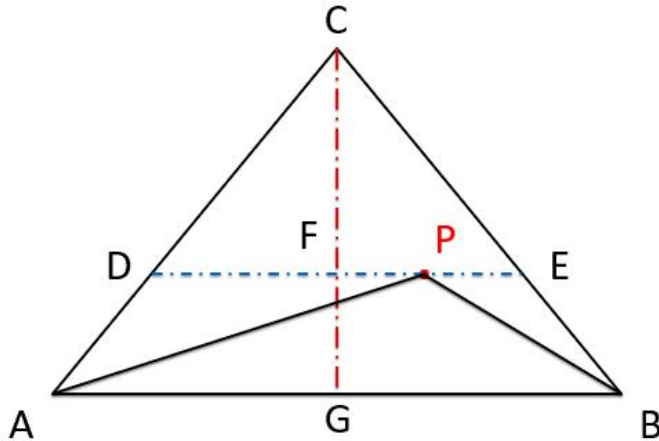
76、赋工作总量为60，则甲、乙、丙的效率分别为  $\frac{60}{10} = 6$ 、 $\frac{60}{15} = 4$ 、 $\frac{60}{12} = 5$ 。设剩余的任务由甲单独完成需要  $t$  天，根据题意可列方程： $5 \times 3 + (4+5) \times 3 + 6 \times t = 60$ ，解得  $t = 3$ ，故完成该工程一共需要  $3+3+3 = 9$  天。

故正确答案为 A。

77、设火车的长度为  $L$  米，速度为  $V$  米/秒。根据题意可列方程： $780 + L = v \times 18 \dots\dots\dots ①$ ， $L = v \times 5 \dots\dots\dots ②$ ，解得  $v = 60$ ， $L = 300$ 。

故正确答案为 D。

78、如图所示，过 P 点作  $DE // AB$ ，过 C 点作  $CG \perp AB$  交 DE 于点 F。假设  $\triangle PAB$  的面积等于  $\frac{S}{4}$ 。 $\triangle ABC$  和  $\triangle PAB$  底边相等，则面积之比为高之比，故  $\frac{GF}{GC} = \frac{S_{\triangle PAB}}{S_{\triangle ABC}} = \frac{\frac{S}{4}}{S} = \frac{1}{4}$ ，即  $\frac{CF}{CG} = \frac{3}{4}$ 。 $\triangle CDE \sim \triangle CAB$ ，则面积之比等于相似比的平方，故  $\frac{S_{\triangle CDE}}{S_{\triangle ABC}} = (\frac{3}{4})^2 = \frac{9}{16}$ 。若使  $\triangle PAB$  的面积小于  $\frac{S}{4}$ ，则 P 点应在四边形 ABED 中的某处，故所求概率  $= \frac{16-9}{16} = \frac{7}{16}$ 。



故正确答案为 B。

79、方法一：设某人藏书总量为  $x$  册，则其文学类藏书为  $\frac{1}{5}x$  册，科技类藏书为  $\frac{1}{3}x$  册。根据题意可列方程： $\frac{1}{3}x - \frac{1}{5}x = 100$ ，解得： $x = 750$ 。则文学类藏书册数是  $\frac{1}{5} \times 750 = 150$ 。

方法二：根据题意可知，文学类与科技类藏书册数之比为  $3:5$ ，则文学类藏书册数是 3 的整数倍，排除 B、C 项。代入 A 选项，当文学类藏书为 150 册时，科技类藏书为 250 册，此时科技类藏书比文学类藏书多 100 册，满足题意，当选。D 选项无需验证。

故正确答案为 A。

80、数列中各项均为分数，考虑分数数列。将原数列的分子统一为 2，新数列为： $\frac{2}{3}, \frac{2}{8}, \frac{2}{15}, \frac{2}{24}, \frac{2}{35}$ 。分子构成常数列。

方法一：分母两两作差得到：5, 7, 9, 11，是公差为 2 的等差数列，下一项为 13，则所求分母为  $35+13=48$ ；

方法二：分母可转化为： $2^2-1, 3^2-1, 4^2-1, 5^2-1, 6^2-1$ ，则所求分母为  $7^2-1=48$ ；

方法三：分母可转化为： $1 \times 3, 2 \times 4, 3 \times 5, 4 \times 6, 5 \times 7$ ，则所求分母为  $6 \times 8=48$ 。

因此所求项为  $\frac{2}{48} = \frac{1}{24}$ 。

故正确答案为 C。

81、要保证取用的糖果中有 5 颗颜色相同，最不利情况为：每种颜色的糖果各取 4 颗。在此基础上再任意取 1 颗，即能满足要求，则至少取出  $5 \times 4 + 1 = 21$  颗。

故正确答案为 D。

82、两个等边三角形为相似图形，则面积之比为边长之比的平方，因此面积之比为  $9:4$ 。

故正确答案为 C。

83、数列无明显特征，优先考虑作差。作差后得到新数列为 0, 13, 26, 39, ( ), ( ), 为公差是 13 的等差数列，因此新数列下两项为  $39+13=52$ ,  $52+13=65$ 。故所求原数列括号内的数值为  $80+52=132$ ，验证： $132+65=197$ 。

故正确答案为 C。

84、根据题意，分别计算这四个三位数各位数字立方之和，满足题干要求即可。

152:  $1^3 + 5^3 + 2^3 = 1 + 125 + 8 = 134 \neq 152$ ，不满足；153:  $1^3 + 5^3 + 3^3 = 1 + 125 + 27 = 153$ ，满足；370:

$3^3 + 7^3 + 0^3 = 27 + 343 + 0 = 370$ ，满足；371:  $3^3 + 7^3 + 1^3 = 27 + 343 + 1 = 371$ ，满足。故满足水仙花数有：153、

370、371，共 3 个。

故正确答案为 C。

85、由题意可知，

客户购买 A 款服装的概率为 40%；

购买 B 款服装时有两种情况：①购买 A 款服装，其概率为  $40\% \times 60\% = 24\%$ ，

②未购买 A 款服装，其概率为  $(1-40\%) \times 30\% = 18\%$ ，

因此购买 B 款服装的概率 =  $24\% + 18\% = 42\%$ ；

根据题意可得，客户既不购买 A 款服装又不购买 B 款服装的概率为  $(1 - 40\%) \times (1 - 30\%) = 60\% \times 70\% = 42\%$ ，因此购买 C 款服装时有两种情况：

①既不购买 A 又不购买 B： $42\% \times 90\% = 37.8\%$ ，

②否则： $(1 - 42\%) \times 10\% = 5.8\%$ ，

因此购买 C 款服装的概率 =  $37.8\% + 5.8\% = 43.6\%$ 。

因此购买 A、B、C 三款服装的概率大小排序为： $C > B > A$ 。

故正确答案为 B。

86、第一步：翻译题干。

①教职工 → 运动爱好者；

②游泳或跑步；

③张老师喜欢游泳；

④李老师不喜欢跑步。

第二步：逐一分析选项。

根据条件②④，利用否一推一的原则，可知：李老师喜欢游泳，因此①句正确；

根据条件③张老师喜欢游泳，不能推断出张老师是否喜欢跑步，因此②句不确定真假；

根据条件②，利用否一推一的原则，可知：不喜欢游泳的人喜欢跑步，因此③句正确；

题干未涉及喜欢游泳和喜欢跑步的人数，无法推出，因此④句不确定真假。

综上，正确的是①和③。

故正确答案为 C。

87、日常结论题，根据题干信息逐一分析选项。

A 项：题干指出 2022 年全国工业生产者出厂价格 3 月份环比上涨 1.1%，可以推出，排除；

B 项：题干未涉及 2022 年 2 月全国工业生产者出厂价格的环比上涨率，无法推出，当选；

C 项：题干指出 2022 年全国工业生产者出厂价格 3 月份同比上涨 8.3%，涨幅比上月回落 0.5 个百分点，即：2022 年 2 月同比上涨 8.8%，可以推出，排除；

D 项：题干指出 2022 年一季度，全国工业生产者出厂价格同比上涨 8.7%，其中，3 月份同比上涨 8.3%，则 1-2 月同比涨幅超过 8.7%，可以推出，排除。

本题为选非题，故正确答案为 B。

88、题干信息中，已知职工每月最多领用 2 件，连续三个月最多领用 4 件。

代入 A 项，符合每月最多领用 2 件，连续三个月最多领用 4 件，排除；

代入 B 项，其中 8 月-10 月领取的数量加起来为 5 件，不符合连续三个月最多领用 4 件，当选；



代入 C 项，符合每月最多领用 2 件，连续三个月最多领用 4 件，排除；

代入 D 项，符合每月最多领用 2 件，连续三个月最多领用 4 件，排除；

本题为选非题，故正确答案为 B。

89、第一步：整理题干信息。

甲：¬甲

乙：¬乙

丙：丁

丁：乙

第二步：分析题干。

乙和丁的话为矛盾关系，必有一真一假，结合题干条件“有且仅有一人的说法符合实际情况”，所以甲和丙的话为假，根据甲的话为假，可知成绩最高的是甲。

故正确答案为 A。

90、元素组成相似，优先考虑样式规律。观察发现，题干图形有相同元素重复出现，考虑遍历。题干图形均有两条黑色线条，并且横竖、斜向方向间隔排列，故？处应选择具有 2 条横竖线条相交的图形，排除 C、D 项。再次观察发现，题干图形颜色呈现外白内黑、外黑内白间隔排列，故？处应选择颜色外白内黑的图形，只有 A 项符合。

故正确答案为 A。

91、题干信息中，已知四人一共答错 10 道题，即一共丢失 10 分。根据表格可知，第 2、5、8 题两个人答错，两个人答对，故这三道题共丢失 6 分，第 1、3、6 和第 9 题只有 1 个人和其他人不一样，不一样的这四个人的答案为错误答案，故丢失 4 分，综上，一共丢失 10 分。

则答案为第 1 题错，第 3 题对，第 4 题对，第 6 题错，第 7 题错，第 9 题错，第 10 题对；

此时丁 7 分，甲乙 6 分，丙 5 分。

由于四人成绩各不相同，且甲的成绩不是最高的，则甲第 2、5、8 题不能全对，也不能全错，只能推出以下两种成立的情况：

第一种情况：第 2 题对，第 5 题对，第 8 题错，因此甲得 7 分，乙得 8 分，丙得 5 分，丁得 10 分，此时丁为第一名；

第二种情况：第 2 题对，第 5 题错，第 8 题错，这样甲得 8 分，乙得 7 分，丙得 6 分，丁得 9 分，此时丁为第一名。

两种情况中，丁都为第一名。

故正确答案为 D。

92、第一步：翻译题干。

① (甲且乙) 且¬丙

小刘表示反对, 则其矛盾命题为小刘的意见:  $\neg[(\text{甲且乙}) \text{且} \neg \text{丙}] = (\neg \text{甲或} \neg \text{乙}) \text{或丙}$

第二步: 逐一分析选项。

A 项: 翻译为: 丙且¬甲且¬乙, 录用丙, 满足了其中一个条件, 但¬甲且¬乙只是¬甲或¬乙的情况之一, 并没有准确表达小刘的意思, 排除;

B 项: 翻译为: 甲且丙 $\rightarrow$ ¬乙, “丙”是对小刘意见中或关系的肯定, 肯定或关系的其中一项推不出任何结论, 无法推出, 排除;

C 项: 翻译为: ¬丙 $\rightarrow$ ¬甲或¬乙, “¬丙”是对小刘意见中或关系的否定, 根据否一推一, 可以推出“¬甲或¬乙”, 甲乙至少有一个不录取, 即不能同时录取甲和乙, 可以推出, 当选;

D 项: 翻译为: 丙 $\rightarrow$ ¬甲或¬乙, “丙”是对小刘意见中或关系的肯定, 肯定或关系的其中一项推不出任何结论, 无法推出, 排除。

故正确答案为 C。

93、元素组成不同, 且无明显属性规律, 优先考虑数量规律。题干均为汉字, 并均存在提手旁, 排除 C 项; 接着考虑汉字的笔画数, 题干汉字笔画数依次为: 11、12、13、14, 呈递增规律, 故? 处应选择笔画数为 15 的汉字, 只有 D 项符合。

故正确答案为 D。

94、第一步: 找出论点和论据。

论点: 虎山长城用砖是极少的。

论据: 虎山长城遗址除一号台址发现很少的残砖之外, 其他地方均没有发现城砖, 且虎山村及附近村庄也没有从长城上拆下城砖的情况。

第二步: 逐一分析选项。

A 项: 该项强调城砖难以运进运出, 是虎山长城用砖极少的一个必要条件, 假设城砖可以运进运出, 那么有可能会有一部分残砖已经被运出此地, 也就是说, 不能通过现有遗址残砖少就推出虎山长城用砖是极少的这一结论。所以该项是题干论证成立所必需假设的, 可以加强, 当选;

B 项: 该项强调虎山长城遗址附近没有发现古砖窑, 即使附近没有, 也可能从其他地方运来砖块, 不能说明虎山长城的用砖数量少, 无关选项, 无法加强, 排除;

C 项: 该项强调当地县志记载虎山长城是夯土筑成, 县志记载不一定就是符合真实情况的, 无法得出虎山长城用砖少, 无关选项, 无法加强, 排除;

D 项: 该项说明土质差不适宜烧制长城用砖, 即使此处不能烧制, 还可以从其他地区运来砖块, 并不能说明虎山长城用砖少, 无关选项, 无法加强, 排除。

故正确答案为 A。

95、第一步：翻译题干。

①甲 $\rightarrow$ ¬乙；

②丙 $\rightarrow$ 乙；

③¬甲 $\rightarrow$ 丁；

将①进行逆否和②③串联可得：④丙 $\rightarrow$ 乙 $\rightarrow$ ¬甲 $\rightarrow$ 丁。

第二步：逐一分析选项。

A项：若甲不去，是对条件③的肯前，肯前必肯后，可得丁去；若丁不去，是对条件③的肯否后，否后必否前，可得甲去，则可让甲或丁单独去，若甲去，是对条件③的否前，否前得不到必然结论，丁也可以去，则可以让二人同去，可以满足，排除；

B项：若乙去，是对条件④的肯前，肯前必肯后，可得丁去，可以满足，排除；

C项：若丁不去，是对条件④的否后，否后必否前，可得甲去、乙和丙不去，即甲单独去，可以满足，排除；

D项：若丙去，是对条件④的肯前，肯前必肯后，可得乙和丁都去，甲不去，此时同去的有丙、乙和丁，所以不满足只让乙、丙二人同去，当选。

本题为选非题，故正确答案为D。

96、根据题干“2020年……亿元”，结合材料时间为2021年，可判定本题为基期计算问题。定位文字

材料“2021年某省生产总值为124370亿元，同比增长8.0%”。根据公式：
$$\text{基期量} = \frac{\text{现期量}}{1 + \text{增长率}}$$
，可得2020年该省生产总值 
$$= \frac{124370}{1 + 8.0\%} = \frac{124370}{1.08} \approx 115157$$
 亿元。

故正确答案为B。

97、根据题干“2021年第三产业……增加……亿元”，可判定本题为增长量计算问题。定位文字材

料“第三产业总值为69147亿元，同比增长7.5%”，根据公式：
$$\text{增长量} = \frac{\text{现期量}}{1 + \text{增长率}} \times \text{增长率}$$
，可得2021年该省第三产业的增加值 
$$\frac{69147}{1 + 7.5\%} \times 7.5\% \approx \frac{69147}{1 + \frac{1}{13.3}} \times \frac{1}{13.3} = \frac{69147}{14.3} \approx 4835$$
 亿元，与D项最接近。

故正确答案为D。

（备注：本题表述不够严谨，增加值是一个专有名词，严谨来讲  $\text{增加值} \neq \text{增长量}$ 。）

98、根据题干“2021年…占…的比重，同比增加的是”可判定本题为两期比重问题。定位材料可知，2021年第一、二、三产业总值的增长率 $(a)$ 分别为7.9%、8.7%、7.5%，该省生产总值的增长率 $(b)$ 为8.0%。根据两期比重结论： $a > b$ ，比重上升； $a < b$ ，比重下降，比较可得只有第二产业总值占该省生产总值的比重同比增加。

故正确答案为 B。

99、根据题干“2020 年... 增速最快的是”结合材料给出 2021 年增速及两年平均增速，可判定本题为年均增长率计算问题。定位材料可知，2021 年该省生产总值同比增长 8.0%，两年平均增长 5.1%；第一产业总值同比增长 7.9%，两年平均增长 5.8%；第二产业总值同比增长 8.7%，两年平均增长 5.2%；第三产业总值同比增长 7.5%，两年平均增长 5.0%。若 2019 年的值为 A，2021 年的值为 B，则  $A \times (1+r_{2020年}) \times (1+r_{2021年}) = B$ ； $A \times (1+r_{均})^2 = B$ ，联立两式则有  $(1+r_{2020年}) \times (1+r_{2021年}) = (1+r_{均})^2$ ，代入数据可得各项 2020 年的增速为：

生产总值： $(1+r_{2020年}) \times (1+8.0\%) = (1+5.1\%)^2$  解得  $r_{2020年} \approx 2.28\%$ ；

第一产业总值： $(1+r_{2020年}) \times (1+7.9\%) = (1+5.8\%)^2$ ，解得  $r_{2020年} \approx 3.74\%$ ；

第二产业总值： $(1+r_{2020年}) \times (1+8.7\%) = (1+5.2\%)^2$ ，解得  $r_{2020年} \approx 1.81\%$ ；

第三产业总值： $(1+r_{2020年}) \times (1+7.5\%) = (1+5.0\%)^2$ ，解得  $r_{2020年} \approx 2.56\%$ 。

对比可知，2020 年第一产业总值增速最快。

故正确答案为 B。

100、根据题干“2021 年... 同比增长”且选项均为百分数，可判定本题为一般增长率计算问题。定位材料可知，截至 2021 年 12 月，我国网民规模达 10.32 亿，较 2020 年 12 月增长 4296 万。根据增长率计算公式：

增长率 =  $\frac{\text{增长量}}{\text{现期量} - \text{增长量}}$ ，可得 2021 年我国网民规模同比增长  $\frac{4296\text{万}}{10.32\text{亿} - 4296\text{万}} = \frac{4296\text{万}}{103200\text{万} - 4296\text{万}} \approx \frac{4300}{98900} \approx 4.3\%$ 。

故正确答案为 C。

101、根据题干“2021 年 12 月... 互联网普及率...”，结合材料时间为 2021 年 12 月，可判定本题为现期比重问题。定位文字材料可知，2021 年 12 月，我国网民规模 10.32 亿，互联网普及率 73.0%；农村网民规模 2.84 亿，互联网普及率为 57.6%。可得，2021 年 12 月城镇网民规模 =  $10.32 - 2.84 = 7.48$  亿。根据公式：

互联网普及率 =  $\frac{\text{网民人数}}{\text{人口数}}$ ，即  $\text{人口数} = \frac{\text{网民人数}}{\text{互联网普及率}}$ ，则我国城镇人口 = 全国人口 - 农村人口 =  $\frac{10.32}{73.0\%} - \frac{2.84}{57.6\%} \approx 14.14 - 4.93 = 9.21$  亿，城镇地区互联网普及率为  $\frac{7.48}{9.21} \approx 81.2\%$ 。

2021 年 12 月，城乡地区互联网普及率差异为  $81.2\% - 57.6\% = 23.6\%$ ，即差 23.6 个百分点。

故正确答案为 B。

102、根据题干“按 2020 年 12 月... 排序...”，结合材料时间为 2021 年 12 月，可判定本题为基期比较问题。定位文字材料可知，2021 年 12 月在线办公、在线医疗、网上外卖、网约车用户规模分别达 4.69 亿、2.98 亿、5.44 亿和 4.53 亿，同比分别增长 35.7%、38.7%、29.9% 和 23.9%。根据公式： $\text{基期量} = \frac{\text{现期量}}{1+r}$ ，

则 2020 年 12 月，在线办公、在线医疗、网上外卖、网约车用户规模分别为  $\frac{4.69}{1+35.7\%} = \frac{4.69}{1.357} \approx 3.5$ ， $\frac{2.98}{1+38.7\%} = \frac{2.98}{1.387} \approx 2.1$ ， $\frac{5.44}{1+29.9\%} = \frac{5.44}{1.299} \approx 4.2$ ， $\frac{4.53}{1+23.9\%} = \frac{4.53}{1.239} \approx 3.7$ ，比较可得：网上外卖 > 网约车 > 在线办公 > 在线医疗。

故正确答案为 B。

103、根据题干“2021 年 12 月……同比增长率是……”，可判定本题为一般增长率计算问题。定位文字材料可知，2021 年 12 月我国网民人均每周上网时长达到 28.5 个小时，较 2020 年 12 月提升 2.3 个小时。根

据公式：
$$\text{增长率} = \frac{\text{增长量}}{\text{现期量} - \text{增长量}}$$
，则 2021 年 12 月，我国网民人均每周上网时长同比增长率 
$$= \frac{2.3}{28.5-2.3} = \frac{2.3}{26.2} \approx 8.8\%$$
。

故正确答案为 C。

104、根据题干“2022 年……30 岁及以下人数是……”，结合材料给出各年龄段参考人数及全科合格率，可判定本题为现期比重问题。定位统计图可知：25 岁以下和 26~30 岁参考人数分别为 16769 人、11183 人，合格率分别为 5.68%、11.85%。则 25 岁以下和 26~30 岁全科合格人数分别为  $16769 \times 5.68\% \approx 952$  人、 $11183 \times 11.85\% \approx 1325$  人。故考试全科合格的 30 岁及以下人数为  $952+1325 = 2277$  人。

故正确答案为 C。

105、根据题干“2022 年……合格人数是……”，结合材料给出各年龄段参考人数及全科合格率，可判定本题为现期比重问题。定位统计图，可知 25 岁以下、26~30 岁、31~40 岁、41~50 岁以及 50 岁以上参考人数和全科合格率。根据公式： $\text{部分} = \text{总体} \times \text{比重}$ ，可得 25 岁以下、26~30 岁、31~40 岁、41~50 岁以及 50 岁以上全科合格人数分别为  $16769 \times 5.68\% \approx 952$  人、 $11183 \times 11.85\% \approx 1325$  人、 $14649 \times 15.00\% \approx 2197$  人、 $5028 \times 17.82\% \approx 896$  人、 $689 \times 15.97\% \approx 110$  人。则考试全科合格的人数为  $952+1325+2197+896+110 = 5480$  人。

故正确答案为 B。

106、根据题干“2022 年……全科合格率……”，结合材料时间为 2022 年，可判定本题为现期比重问题。定位统计图可知，25 岁以下、26~30 岁、31~40 岁、41~50 岁、50 岁以上的参考人数分别为：16769 人、11183 人、14649 人、5028 人、689 人。则 2022 年该考试参考人数为： $16769+11183+14649+5028+689 = 48318$  人。

根据本篇材料第 2 题可知该考试全科合格的人数为 5480 人，故  $P = \frac{5480}{48318} \approx 11.3\%$ ，A 项符合。

故正确答案为 A。

107、根据题干“2022年...所占比例与...所占比例相比”，结合材料时间为2022年，可判定本题为现期比重问题。根据本篇材料第2题可知26~30岁人员合格人数为1325人；31~40岁人员合格人数为2197人；

考试全科合格人员总人数为5480人。根据公式： $\text{比重} = \frac{\text{部分}}{\text{总体}}$ ，可得该考试全科合格人员中，31~40岁人员所占比例比26~30岁人员所占比例高  $\frac{2197-1325}{5480} = \frac{872}{5480} \approx 16\%$ ，即高了约16个百分点，与D项最接近。

故正确答案为D。

108、定位统计图，可知2021年各个月份日均发电量（1—2月合并计算）。根据  $\text{基期量} = \frac{\text{现期量}}{1+r}$ ，可得2020年12月日均发电量  $= \frac{233.3}{1-2.1\%} > 233.3 \text{亿千瓦时} > 210.6 \text{亿千瓦时}$ ，则2021年1-2月日均发电量环比下降（1-2月合并计算）。所以日均发电量实现环比增长的有3月、5月、6月、7月、11月、12月，共6个。

故正确答案为B。

109、根据题干“2021年10月份发电量与2021年4月份相比”，结合材料已知日均发电量，可判定本题为现期平均数问题。定位统计图可知，2021年10月和4月的日均发电量分别为206.2亿千瓦时、207.7亿千瓦时。则2021年10月份发电量比2021年4月份发电量多了  $206.2 \times 31 - 207.7 \times 30 = (206.2 - 207.7) \times 30 + 206.2 = -1.5 \times 30 + 206.2 = -45 + 206.2 > 0$ ，所以2021年10月份发电量比2021年4月份发电量增加了。

故正确答案为A。

110、根据题干“2021年规模以上工业发电量超过7000亿千瓦时的月份有几个”，结合材料已知日均发电量，可判定本题为现期平均数问题。定位统计图，可知2021年各个月份日均发电量。则3~12月发电量（亿千瓦时）分别为： $212.2 \times 31 = 6000^+$ ， $207.7 \times 30 = 6000^+$ ， $209 \times 31 = 6000^+$ ， $228.7 \times 30 = 6000^+$ ， $244.7 \times 31 = 7000^+$ ， $238.2 \times 31 = 7000^+$ ， $225 \times 30 = 6000^+$ ， $206.2 \times 31 = 6000^+$ ， $218 \times 30 = 6000^+$ ， $233.3 \times 31 = 7000^+$ ，有3个月份超过7000亿千瓦时；1-2月的发电量（亿千瓦时）为  $210.6 \times (31+28) = 12425.4 < 7000 \times 2$ ，1月和2月均无法确定其发电量是否超过7000千瓦时。所以2021年发电量确定超过7000亿千瓦时的月份至少有3个。

故正确答案为C。